

SET-1

Series HFG1E/1



प्रश्न-पत्र कोड
Q.P. Code

58/1/1

रोल नं.
Roll No.

--	--	--	--	--	--	--	--

परीक्षार्थी प्रश्न-पत्र कोड को उत्तर-पुस्तिका के मुख-पृष्ठ पर अवश्य लिखें ।

Candidates must write the Q.P. Code on the title page of the answer-book.

अर्थशास्त्र ECONOMICS

निर्धारित समय : 3 घण्टे

Time allowed : 3 hours

अधिकतम अंक : 80

Maximum Marks : 80

- कृपया जाँच कर लें कि इस प्रश्न-पत्र में मुद्रित पृष्ठ 27 हैं ।
- प्रश्न-पत्र में दाहिने हाथ की ओर दिए गए प्रश्न-पत्र कोड को परीक्षार्थी उत्तर-पुस्तिका के मुख-पृष्ठ पर लिखें ।
- कृपया जाँच कर लें कि इस प्रश्न-पत्र में 34 प्रश्न हैं ।
- कृपया प्रश्न का उत्तर लिखना शुरू करने से पहले, उत्तर-पुस्तिका में प्रश्न का क्रमांक अवश्य लिखें ।
- इस प्रश्न-पत्र को पढ़ने के लिए 15 मिनट का समय दिया गया है । प्रश्न-पत्र का वितरण पूर्वाह्न में 10.15 बजे किया जाएगा । 10.15 बजे से 10.30 बजे तक छात्र केवल प्रश्न-पत्र को पढ़ेंगे और इस अवधि के दौरान वे उत्तर-पुस्तिका पर कोई उत्तर नहीं लिखेंगे ।
- Please check that this question paper contains 27 printed pages.
- Q.P. Code given on the right hand side of the question paper should be written on the title page of the answer-book by the candidate.
- Please check that this question paper contains 34 questions.
- Please write down the serial number of the question in the answer-book before attempting it.
- 15 minute time has been allotted to read this question paper. The question paper will be distributed at 10.15 a.m. From 10.15 a.m. to 10.30 a.m., the students will read the question paper only and will not write any answer on the answer-book during this period.

*



सामान्य निर्देश:

निम्नलिखित निर्देशों को बहुत सावधानी से पढ़िए और उनका सख्ती से पालन कीजिए :

- (i) इस प्रश्न-पत्र में 34 प्रश्न हैं। सभी प्रश्न अनिवार्य हैं।
- (ii) यह प्रश्न-पत्र दो खण्डों में विभाजित है :
खण्ड क - समष्टि अर्थशास्त्र
खण्ड ख - भारतीय आर्थिक विकास
- (iii) इस प्रश्न-पत्र में एक-एक अंक के 20 बहुविकल्पीय प्रश्न हैं।
- (iv) इस प्रश्न-पत्र में तीन-तीन अंकों के 4 लघु-उत्तरीय प्रकार-I के प्रश्न हैं जिनके उत्तर 60 से 80 शब्दों में लिखे जाने चाहिए।
- (v) इस प्रश्न-पत्र में चार-चार अंकों के 6 लघु-उत्तरीय प्रकार-II के प्रश्न हैं जिनके उत्तर 80 से 100 शब्दों में लिखे जाने चाहिए।
- (vi) इस प्रश्न-पत्र में छः-छः अंकों के 4 दीर्घ-उत्तरीय प्रकार के प्रश्न हैं जिनके उत्तर 100 से 150 शब्दों में लिखे जाने चाहिए।
- (vii) प्रत्येक प्रश्न के सभी भागों के उत्तर एक साथ लिखे जाने चाहिए।

खण्ड क समष्टि अर्थशास्त्र

1. निम्नलिखित कथनों को ध्यानपूर्वक पढ़िए :

कथन 1 : प्राथमिक जमा, आम जनता द्वारा वाणिज्यिक बैंकों के पास नकद जमा होते हैं।

कथन 2 : वाणिज्यिक बैंकों द्वारा आम जनता को प्रदान किए गए ऋण के कारण उत्पन्न जमा को द्वितीयक जमा कहते हैं।

दिए गए कथनों के आलोक में, निम्नलिखित में से सही विकल्प का चयन कीजिए :

1

- (a) कथन 1 सत्य है और कथन 2 असत्य है।
- (b) कथन 1 असत्य है और कथन 2 सत्य है।
- (c) कथन 1 और 2 दोनों सत्य हैं।
- (d) कथन 1 और 2 दोनों असत्य हैं।



General Instructions :

Read the following instructions carefully and strictly follow them :

- (i) This question paper contains **34** questions. **All** questions are **compulsory**.
- (ii) This question paper contains **two** Sections :
Section A – Macro Economics
Section B – Indian Economic Development
- (iii) This paper contains **20** Multiple Choice Questions Type questions of **1** mark each.
- (iv) This paper contains **4** Short Answer Questions Type-I questions of **3** marks each to be answered in 60 to 80 words.
- (v) This paper contains **6** Short Answer Questions Type-II questions of **4** marks each to be answered in 80 to 100 words.
- (vi) This paper contains **4** Long Answer Questions Type questions of **6** marks each to be answered in 100 to 150 words.
- (vii) Attempt all parts of a question together.

SECTION A
Macro Economics

1. Read the following statements carefully :

Statement 1 : Primary deposits are the cash deposits by general public with commercial banks.

Statement 2 : Secondary deposits are those deposits which arise on account of credit provided by the commercial banks to the people.

In light of the given statements, choose the correct alternative from the following :

- (a) Statement 1 is true and Statement 2 is false.
- (b) Statement 1 is false and Statement 2 is true.
- (c) Both Statements 1 and 2 are true.
- (d) Both Statements 1 and 2 are false.

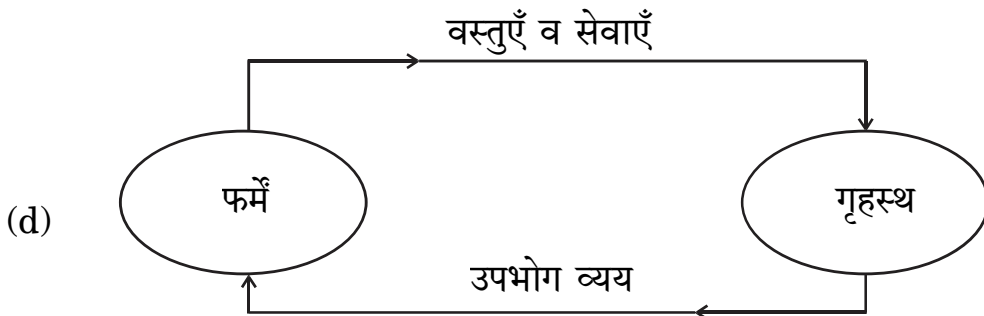
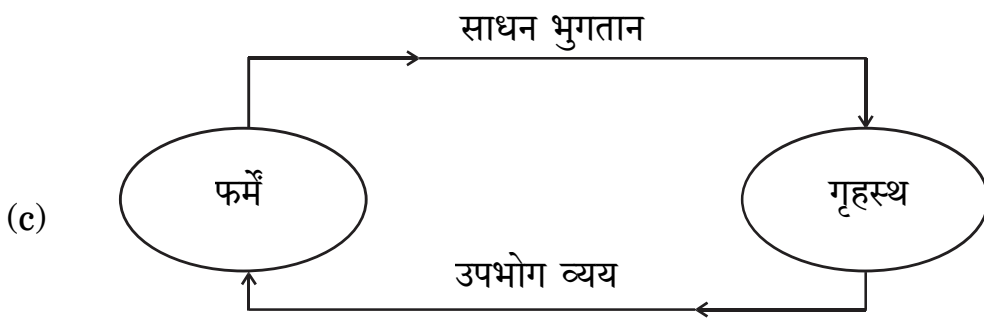
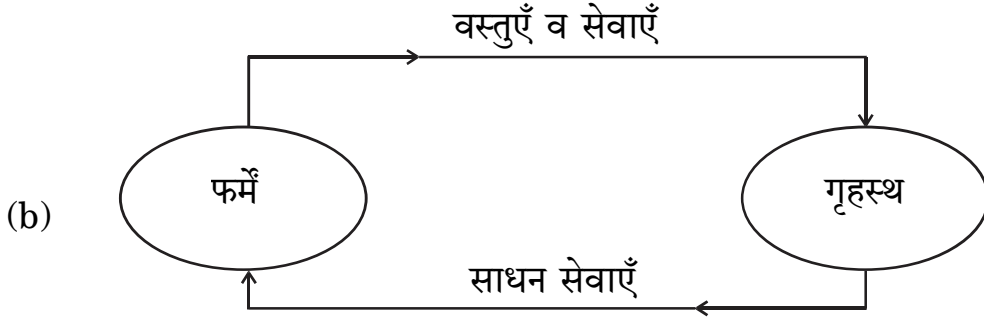
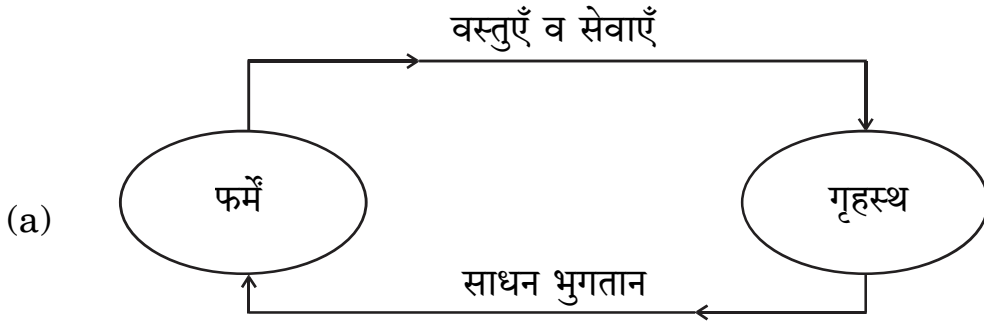


2. (क) बाज़ार मूल्य पर राष्ट्रीय आय व साधन लागत पर राष्ट्रीय आय का अंतर _____ होता है। (रिक्त स्थान भरने के लिए सही विकल्प का चयन कीजिए) 1

- (a) शुद्ध अप्रत्यक्ष कर
- (b) विदेशों से प्राप्त शुद्ध साधन आय
- (c) स्थायी पूँजी का उपभोग
- (d) बाज़ार मूल्य

अथवा

(ख) पहचानिए कि निम्नलिखित में से कौन-सा केवल वास्तविक प्रवाह को दर्शाता है ? 1



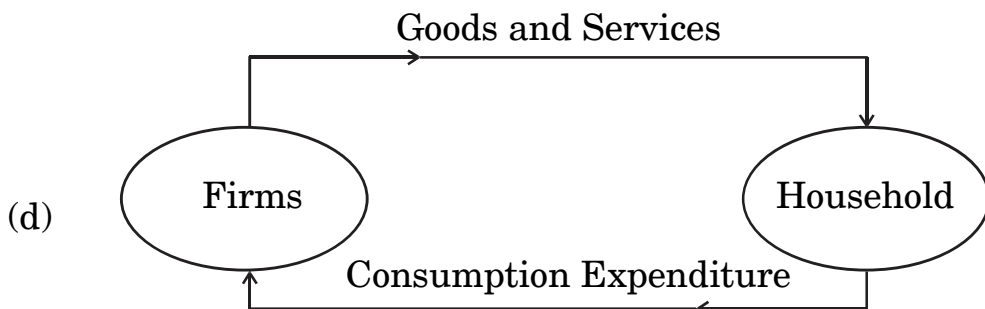
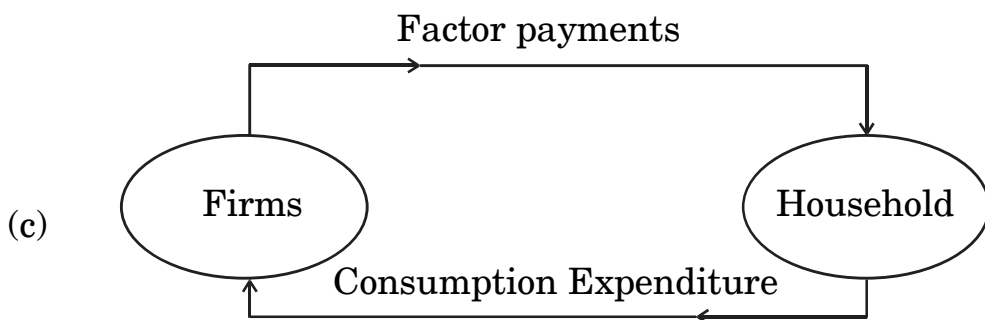
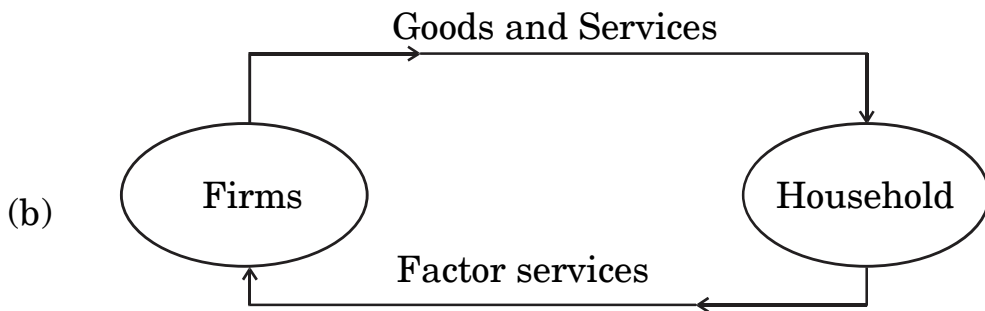
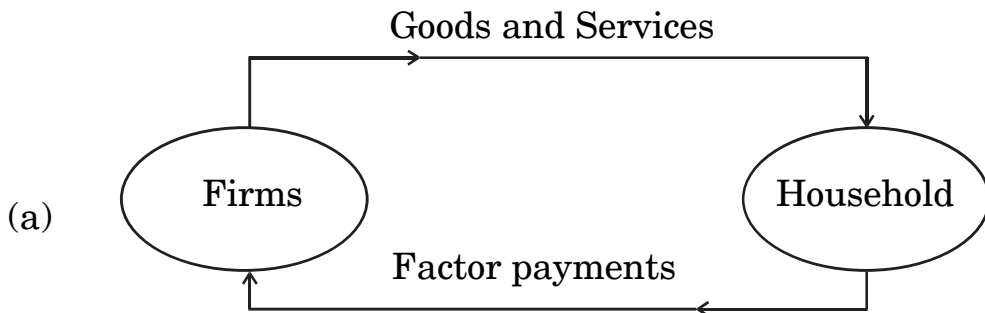
2. (A) The difference between National Income at market price and National Income at factor cost is _____.

(Choose the correct alternative to fill up the blank) 1

- (a) net indirect taxes
- (b) net factor income from abroad
- (c) consumption of fixed capital
- (d) market price

OR

(B) Identify which of the following represents only the real flow : 1



3. वह दर जिस पर वाणिज्यिक बैंक अपनी दीर्घकालिक आवश्यकताओं की पूर्ति के लिए भारतीय रिज़र्व बैंक से ऋण लेते हैं, उसे _____ कहा जाता है ।

(रिक्त स्थान भरने के लिए सही विकल्प का चयन कीजिए) 1

- (a) मार्जिन आवश्यकता
- (b) बैंक दर
- (c) रेपो दर
- (d) रिवर्स रेपो दर

4. निम्नलिखित कथनों को ध्यानपूर्वक पढ़िए :

कथन 1 : किसी राष्ट्र द्वारा अपने भुगतान संतुलन (BoP) के घाटे को वित्तपोषित करने के लिए विश्व बैंक से प्राप्त ऋण पूँजी खाते में दर्ज किया जाएगा ।

कथन 2 : स्वायत्त लेन-देन भुगतान संतुलन (BoP) खाते की दशा से स्वतंत्र होते हैं ।

दिए गए कथनों के आलोक में, निम्नलिखित में से सही विकल्प का चयन कीजिए : 1

- (a) कथन 1 सत्य है और कथन 2 असत्य है ।
- (b) कथन 1 असत्य है और कथन 2 सत्य है ।
- (c) कथन 1 और 2 दोनों सत्य हैं ।
- (d) कथन 1 और 2 दोनों असत्य हैं ।

5. निम्नलिखित समाचार रिपोर्ट को ध्यानपूर्वक पढ़िए :

“केन्द्रीय बैंक ने हिसार शहरी सहकारी बैंक लि. तथा अंडमान व निकोबार राज्य सहकारी बैंक लि. पर बैंकिंग नियमों के उल्लंघन के लिए जुर्माना लगाया है ।”

दी गई रिपोर्ट के आधार पर, केन्द्रीय बैंक के कार्य की पहचान कीजिए : 1

- (a) करेंसी का जारीकर्ता
- (b) जनता के लिए बैंक
- (c) सरकार के लिए बैंक
- (d) बैंकों का बैंक



3. The rate at which commercial banks borrow from the Reserve Bank of India to meet their long term requirements is known as _____.

(Choose the correct alternative to fill up the blank)

1

- (a) Margin requirement
- (b) Bank rate
- (c) Repo rate
- (d) Reverse repo rate

4. Read the following statements carefully :

Statement 1 : Borrowings by a nation from the World Bank to finance Balance of Payment (BoP) deficit will be recorded in the capital account.

Statement 2 : Autonomous transactions are independent of the condition of Balance of Payment (BoP) account.

In light of the given statements, choose the correct alternative from the following :

1

- (a) Statement 1 is true and Statement 2 is false.
- (b) Statement 1 is false and Statement 2 is true.
- (c) Both Statements 1 and 2 are true.
- (d) Both Statements 1 and 2 are false.

5. Read the following news report carefully :

“The central bank has imposed fine on Hisar Urban Cooperative Bank Ltd. and Andaman and Nicobar State Cooperative Bank Ltd. for violation of banking norms.”

According to the given report, identify the function of the central bank.

1

- (a) Issue of currency
- (b) Banker to the public
- (c) Banker to the Government
- (d) Banker’s Bank



6. (क) यदि निवेश गुणक का मूल्य = 4 तथा अबचत = (-) 60 है, तो निम्नलिखित में से सही बचत फलन की पहचान कीजिए :

1

(a) $S = (-) 60 + 0.25 Y$

(b) $S = (-) 60 + 0.75 Y$

(c) $S = (-) 60 + 0.20 Y$

(d) $S = (-) 60 + 0.60 Y$

अथवा

(ख) दिए गए उपभोग फलन $C = 205 + 0.9 Y$ के लिए, निवेश गुणक का मूल्य _____ होगा। (रिक्त स्थान भरने के लिए सही विकल्प का चयन कीजिए)

1

(a) 0.09

(b) 10.0

(c) 0.9

(d) 9.0

7. निम्नलिखित कथनों को पढ़िए : अभिकथन (A) और कारण (R)। नीचे दिए गए विकल्पों में से एक सही विकल्प चुनिए :

1

अभिकथन (A) : आय के सम स्तर बिंदु (Break-Even level) पर पहुँचने से पहले, औसत उपभोग प्रवृत्ति (APC) का मूल्य इकाई से अधिक होता है।

कारण (R) : औसत उपभोग प्रवृत्ति (APC), कुल उपभोग व कुल आय का अनुपात होता है।

विकल्प :

(a) अभिकथन (A) और कारण (R) दोनों सत्य हैं और कारण (R), अभिकथन (A) की सही व्याख्या करता है।

(b) अभिकथन (A) और कारण (R) दोनों सत्य हैं, लेकिन कारण (R), अभिकथन (A) की सही व्याख्या नहीं करता है।

(c) अभिकथन (A) सत्य है, लेकिन कारण (R) असत्य है।

(d) अभिकथन (A) असत्य है, लेकिन कारण (R) सत्य है।



-
6. (A) If the value of investment multiplier = 4 and Dissavings = (-) 60, identify the correct Saving function from the following : 1
- (a) $S = (-) 60 + 0.25 Y$
- (b) $S = (-) 60 + 0.75 Y$
- (c) $S = (-) 60 + 0.20 Y$
- (d) $S = (-) 60 + 0.60 Y$

OR

- (B) For the given Consumption function, $C = 205 + 0.9 Y$, the value of investment multiplier would be _____.
- (Choose the correct alternative to fill up the blank) 1
- (a) 0.09
- (b) 10.0
- (c) 0.9
- (d) 9.0

7. Read the following statements : Assertion (A) and Reason (R). Choose the correct alternative given below : 1

Assertion (A) : Before reaching the Break-Even level of income, the value of Average Propensity to Consume (APC) is greater than one.

Reason (R) : The Average Propensity to Consume (APC) is the ratio of the total consumption and total income.

Alternatives :

- (a) Both Assertion (A) and Reason (R) are true and Reason (R) is the correct explanation of Assertion (A).
- (b) Both Assertion (A) and Reason (R) are true, but Reason (R) is **not** the correct explanation of Assertion (A).
- (c) Assertion (A) is true and Reason (R) is false.
- (d) Assertion (A) is false and Reason (R) is true.



8. (क) मान लीजिए कि, एक राष्ट्र का व्यापार संतुलन ₹ 50,000 करोड़ का घाटा दर्शाता है। दृश्य वस्तुओं का आयात, दृश्य वस्तुओं के निर्यात का पाँच गुना है। दृश्य वस्तुओं के निर्यात का मूल्य ₹ _____ करोड़ होगा।
(रिक्त स्थान भरने के लिए सही विकल्प का चयन कीजिए) 1

- (a) 20,000
(b) 10,000
(c) 12,500
(d) 20,300

अथवा

- (ख) विदेशों को भेजे गए उपहार व प्रेषण, भुगतान संतुलन के _____ खाते के _____ पक्ष में दर्ज किए जाते हैं।
(रिक्त स्थानों को भरने के लिए सही विकल्प का चयन कीजिए) 1

- (a) पूँजी, क्रेडिट
(b) पूँजी, डेबिट
(c) चालू, क्रेडिट
(d) चालू, डेबिट

9. पहचानिए कि निम्नलिखित में से कौन-सा समीकरण सत्य है ?
(सही विकल्प का चयन कीजिए) 1

- (a) $MPC + MPS = 0$
(b) $MPC + MPS = 1$
(c) $MPC + MPS > 1$
(d) $MPC + MPS < 1$

10. ऐसी स्थिति जहाँ एक सक्षम व्यक्ति वर्तमान मज़दूरी दर पर कार्य करने का इच्छुक नहीं होता है, वह _____ स्थिति कहलाती है।
(रिक्त स्थान भरने के लिए सही विकल्प का चयन कीजिए) 1

- (a) पूर्ण रोज़गार
(b) अनैच्छिक बेरोज़गारी
(c) ऐच्छिक बेरोज़गारी
(d) प्रच्छन्न बेरोज़गारी



8. (A) Suppose that, the Balance of Trade of a nation exhibits a deficit of ₹ 50,000 crore. The import of visible items are five times of the exports of visible items. The value of exports of visible items would be ₹ _____ crore.

(Choose the correct alternative to fill up the blank) 1

- (a) 20,000
(b) 10,000
(c) 12,500
(d) 20,300

OR

- (B) Gifts and remittances sent abroad are recorded on the _____ side of the _____ account in Balance of Payment.

(Choose the correct alternative to fill up the blanks) 1

- (a) credit, capital
(b) debit, capital
(c) credit, current
(d) debit, current

9. Identify which of the following equations is true.

(Choose the correct alternative) 1

- (a) $MPC + MPS = 0$
(b) $MPC + MPS = 1$
(c) $MPC + MPS > 1$
(d) $MPC + MPS < 1$

10. A situation in which an able bodied person is not willing to work at the existing wage rate, is referred to as _____ situation.

(Choose the correct alternative to fill up the blank) 1

- (a) Full employment
(b) Involuntary unemployment
(c) Voluntary unemployment
(d) Disguised unemployment



11. (क) 'मूल्य वृद्धि' व 'उत्पादन का अंतिम मूल्य' में विभेद कीजिए । 3

अथवा

(ख) निम्नलिखित सूचना द्वारा, फर्म A की मूल्य वृद्धि की गणना कीजिए : 3

क्र.सं.	मदें	राशि (₹ करोड़ में)
(i)	फर्म A द्वारा कारक आगतों का क्रय	5
(ii)	फर्म A द्वारा गैर-कारक आगतों का क्रय	2
(iii)	घरेलू अर्थव्यवस्था में फर्म A द्वारा अन्य फर्मों को की गई ब्रिकी	10
(iv)	शेष विश्व से फर्म A द्वारा कच्चे माल का आयात	50
(v)	प्रारंभिक स्टॉक की अंतिम स्टॉक पर अधिकता	3

12. "विदेशी विनिमय दर तथा विदेशी मुद्रा की आपूर्ति में धनात्मक सहसंबंध होता है ।"
क्या आप दिए गए कथन से सहमत हैं ? अपने उत्तर की मान्य तर्कों द्वारा पुष्टि कीजिए । 3

13. यदि प्रत्याशित बचत, प्रत्याशित निवेश से कम हो, तो समायोजन तंत्र का वर्णन कीजिए । 4

14. 26 सितम्बर, 2022 को प्रकाशित निम्नलिखित समाचार को पढ़िए :
"केन्द्रीय बैंक ने बैंचमार्क ऋण दर में 140 आधार अंकों की वृद्धि की है ।"
भारतीय रिज़र्व बैंक द्वारा की गई, इस कार्यवाही के पीछे संभावित कारण व परिणामों की पहचान कीजिए । 4

15. (क) केन्द्रीय बैंक के 'सरकार के बैंक' कार्य की व्याख्या कीजिए । 4

अथवा

(ख) एक काल्पनिक संख्यात्मक उदाहरण का उपयोग करते हुए, वाणिज्यिक बैंकों द्वारा साख सृजन पर आरक्षित अनुपात में वृद्धि के प्रभाव की व्याख्या कीजिए । 4



11. (a) Distinguish between 'Value Addition' and 'Final Value of Output'. 3

OR

(b) Find the Value Added by Firm A, from the following information : 3

S. No.	Particulars	Amount (in ₹ crore)
(i)	Purchase of factor inputs by Firm A	5
(ii)	Purchase of non-factor inputs by Firm A	2
(iii)	Sales by Firm A to other firms in the domestic economy	10
(iv)	Import of raw materials by firm A from rest of the world	50
(v)	Excess of opening stock over closing stock	3

12. "There exists a positive relation between foreign exchange rate and supply of foreign exchange." Do you agree with the given statement ? Justify your answer with valid arguments. 3

13. Describe the adjustment mechanism, if ex-ante savings are less than ex-ante investments. 4

14. Read the following news published on September 26, 2022 :
"The central bank has increased the benchmark lending rate by 140 basis points."
Identify the likely cause and consequences behind this action taken by the Reserve Bank of India. 4

15. (a) Explain the 'Government's Bank' function of the central bank. 4

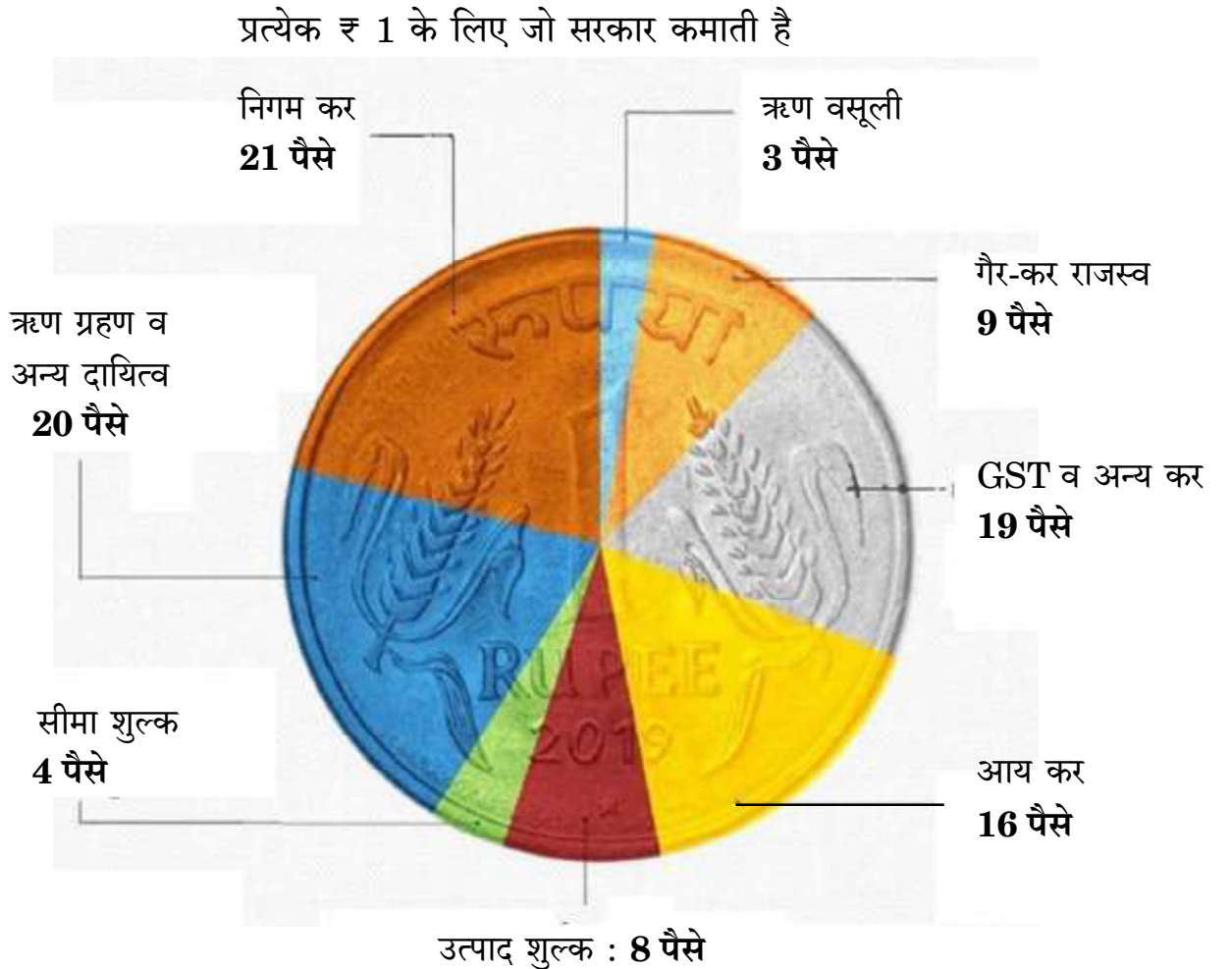
OR

(b) Using a hypothetical numerical example, explain the effect of rise in Reserve Ratio on credit creation by the commercial banks. 4



16. (क) “राष्ट्रीय आय सदैव घरेलू आय से अधिक होती है।” क्या आप दिए गए कथन से सहमत हैं ? अपने उत्तर के समर्थन में मान्य कारण दीजिए। 3
- (ख) “व्यय विधि द्वारा सकल घरेलू उत्पाद (GDP) का आकलन करते हुए, ध्यान केवल राष्ट्र के निवासियों द्वारा व्यय पर होता है।”
क्या आप दिए गए कथन से सहमत हैं ? अपने उत्तर के समर्थन में मान्य कारण दीजिए। 3
17. (क) (i) चित्र में दी गई जानकारी के आधार पर, मान्य कारणों का उल्लेख करते हुए मदों को राजस्व प्राप्ति व पूँजीगत प्राप्ति में वर्गीकृत कीजिए। 4

भारत को उसका पैसा कहाँ से आता है ?



- (ii) राजस्व घाटे व राजकोषीय घाटे के मध्य अंतर स्पष्ट कीजिए। 2

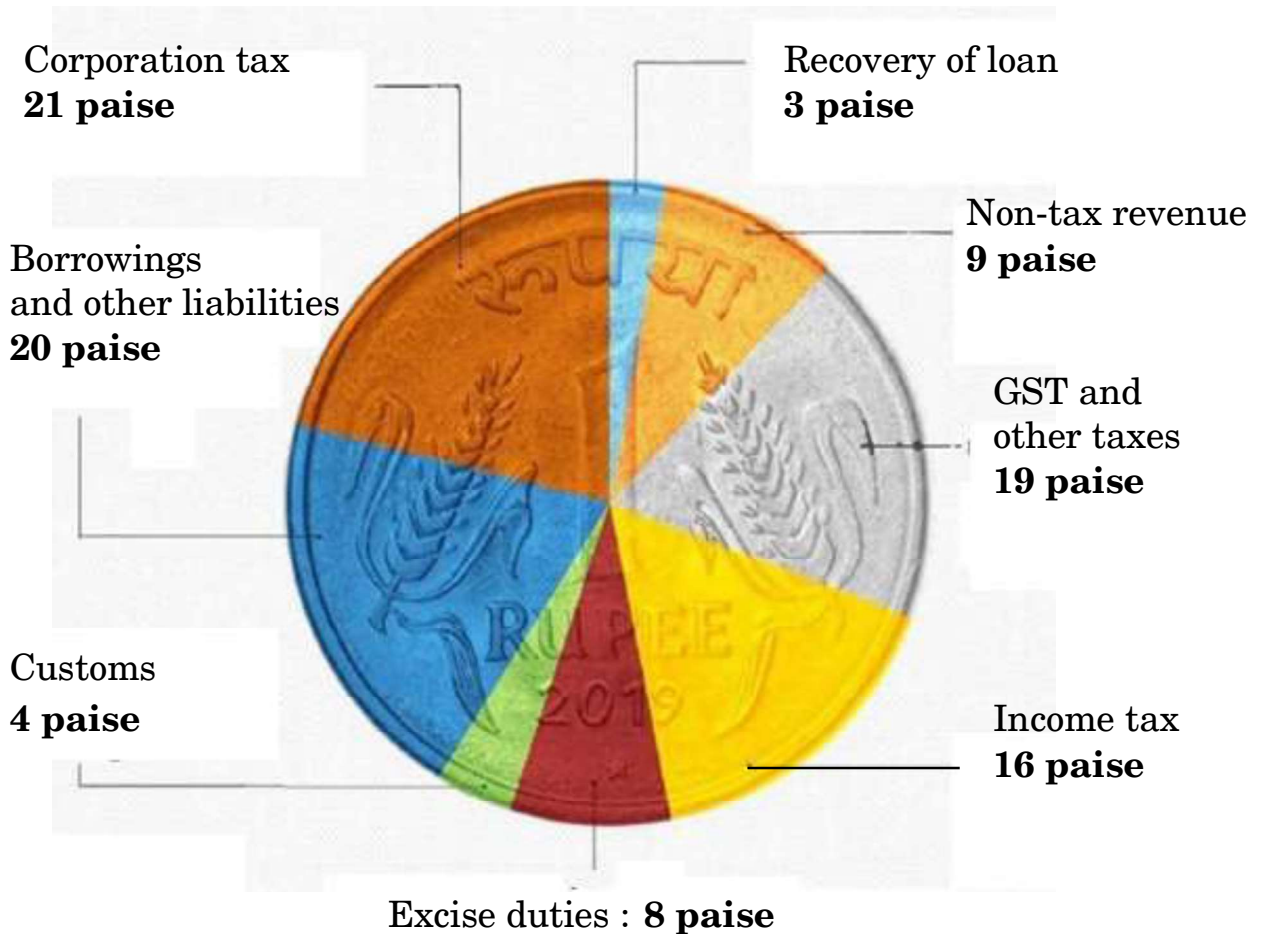
अथवा



16. (a) "National Income is always greater than Domestic Income." Do you agree with the given statement? Support your answer with a valid reason. 3
- (b) "In the estimation of Gross Domestic Product (GDP) using expenditure method, focus lies only on expenditure by the residents of the country." Do you agree with the given statement? Give valid reasons for your answer. 3
17. (a) (i) From the information given in the diagram, categorize the items into revenue receipts and capital receipts, stating valid reasons. 4

WHERE INDIA GETS ITS MONEY FROM?

For every ₹ 1 that the Govt. earns



- (ii) Distinguish between Revenue deficit and Fiscal deficit. 2

OR



(ख) (i) निम्नलिखित आँकड़ों द्वारा, प्राथमिक घाटे की गणना कीजिए :

3

क्र.सं.	मर्दे	राशि (₹ करोड़ में)
(i)	राजस्व घाटा	40
(ii)	गैर-ऋण सृजित पूँजीगत प्राप्तियाँ	190
(iii)	कर राजस्व	125
(iv)	पूँजीगत व्यय	220
(v)	ब्याज भुगतान	20

(ii) सरकारी बजट के 'आर्थिक स्थिरता' कार्य की व्याख्या कीजिए ।

3

खण्ड ख
भारतीय आर्थिक विकास

18. निम्नलिखित कथनों को ध्यानपूर्वक पढ़िए :

कथन 1 : ब्रिटिश शासन के अंतर्गत कृषि का व्यवसायीकरण, 1875 और 1900 के मध्य लगातार अकाल के लिए ज़िम्मेदार था ।

कथन 2 : ब्रिटिश शासनकाल में, भारत ने खाद्यान्नों का निर्यात प्रारंभ कर दिया था ।

दिए गए कथनों के आलोक में, निम्नलिखित में से सही विकल्प का चयन कीजिए :

1

- (a) कथन 1 सत्य है और कथन 2 असत्य है ।
- (b) कथन 1 असत्य है और कथन 2 सत्य है ।
- (c) कथन 1 और 2 दोनों सत्य हैं ।
- (d) कथन 1 और 2 दोनों असत्य हैं ।



- (b) (i) From the following data, calculate the primary deficit.

3

S. No.	Particulars	Amount (in ₹ crore)
(i)	Revenue deficit	40
(ii)	Non-debt creating capital receipts	190
(iii)	Tax revenue	125
(iv)	Capital expenditure	220
(v)	Interest payments	20

- (ii) Elaborate 'Economic stability' function of the Government Budget.

3

SECTION B

Indian Economic Development

18. Read the following statements carefully :

Statement 1 : Commercialization of agriculture under the British rule was responsible for frequent famines between 1875 and 1900.

Statement 2 : During British rule, India began to export food grains.

In light of the given statements, choose the correct alternative from the following :

1

- (a) Statement 1 is true and Statement 2 is false.
(b) Statement 1 is false and Statement 2 is true.
(c) Both Statements 1 and 2 are true.
(d) Both Statements 1 and 2 are false.



19. (क) निम्नलिखित कथनों को ध्यानपूर्वक पढ़िए :

कथन 1 : सरकार द्वारा न्यूनतम समर्थन मूल्य (MSP) पर क्रय किया गया खाद्यान्न बफर स्टॉक (Buffer Stock) के रूप में रखा जाता है ।

कथन 2 : न्यूनतम समर्थन मूल्य (MSP) कृषकों की कृषि उत्पाद के मूल्यों में किसी तेज गिरावट से बचाव करते हैं ।

दिए गए कथनों के आलोक में, निम्नलिखित में से सही विकल्प का चयन कीजिए : 1

- (a) कथन 1 सत्य है और कथन 2 असत्य है ।
- (b) कथन 1 असत्य है और कथन 2 सत्य है ।
- (c) कथन 1 और 2 दोनों सत्य हैं ।
- (d) कथन 1 और 2 दोनों असत्य हैं ।

अथवा

(ख) निम्नलिखित में से *असत्य* कथन की पहचान कीजिए : 1

- (a) आयात प्रतिस्थापन विदेशी मुद्रा बचाने के लिए प्रयुक्त रणनीति थी ।
- (b) लाइसेंस नीति ने क्षेत्रीय समानता सुनिश्चित की थी ।
- (c) रूसी आर्थिक मॉडल भारतीय आर्थिक प्रणाली का आधार था ।
- (d) रोजगार सृजन के लिए लघु स्तरीय उद्योग आवश्यक उपकरणों में से एक हैं ।

20. लघु-जलविद्युत संयंत्र पर्यावरण के लिए अनुकूल हैं, क्योंकि : 1

- (i) वे केवल स्थानीय क्षेत्रों के लिए विद्युत उत्पन्न करते हैं ।
- (ii) वे भूमि के उपयोग ढाँचे को परिवर्तित नहीं करते हैं ।
- (iii) वे बारहमासी धाराओं (perennial streams) पर निर्भर होते हैं ।

(सही विकल्प का चयन कीजिए)

विकल्प :

- (a) (i), (ii) और (iii)
- (b) (ii) और (iii)
- (c) केवल (i)
- (d) (i) और (ii)



19. (A) Read the following statements carefully :

Statement 1 : The purchase of food grains made by the Government on the Minimum Support Price (MSP) is maintained as buffer stock.

Statement 2 : Minimum Support Price safeguards the farmers against any sharp fall in farm product prices.

In light of the given statements, choose the correct alternative from the following :

1

- (a) Statement 1 is true and Statement 2 is false.
- (b) Statement 1 is false and Statement 2 is true.
- (c) Both Statements 1 and 2 are true.
- (d) Both Statements 1 and 2 are false.

OR

(B) Identify the *incorrect* statement from the following :

1

- (a) Import substitution was the strategy used to save foreign exchange.
- (b) License policy ensured regional equality.
- (c) Russian economic model was the base for the Indian economic system.
- (d) Small Scale Industries are one of the essential tools for employment generation.

20. Mini-hydel plants are good for the environment because :

1

- (i) they generate electricity only for local areas.
- (ii) they do not change the land use pattern.
- (iii) they rely on the perennial streams.

(Choose the correct alternative)

Alternatives :

- (a) (i), (ii) and (iii)
- (b) (ii) and (iii)
- (c) (i) only
- (d) (i) and (ii)



21. (क) चीन का ग्रेट लीप फॉरवर्ड (GLF) अभियान _____ पर केन्द्रित है ।
(रिक्त स्थान भरने के लिए सही विकल्प का चयन कीजिए) 1

- (a) व्यापक औद्योगीकरण
- (b) नई कृषि रणनीति
- (c) निजीकरण
- (d) आर्थिक सुधारों

अथवा

(ख) भारत निम्नलिखित में से किस क्षेत्रीय/वैश्विक आर्थिक समूह का सदस्य *नहीं* है ? 1

- (a) यूरोपियन संघ
- (b) BRICS (ब्रिक्स)
- (c) G20
- (d) SAARC (सार्क)

22. सरकार द्वारा प्रारंभ किया गया 'Skill India' (स्किल इंडिया) कार्यक्रम भारत में _____ को बढ़ाने का एक प्रयास नहीं है ।

(रिक्त स्थान भरने के लिए सही विकल्प का चयन कीजिए) 1

- (a) मानव पूँजी निर्माण
- (b) आगतों का कुशल उपयोग
- (c) सकल घरेलू उत्पाद (GDP) में वृद्धि
- (d) व्यावसायिक शिक्षा का अपर्याप्त विस्तार

23. निम्नलिखित कथन के संदर्भ में, सही विकल्प की पहचान कीजिए : 1

“1966 – 76 के मध्य, माओ ने इस आंदोलन का आरम्भ किया था, जिसके अंतर्गत छात्रों व पेशेवरों को कार्य करने के लिए चीन के ग्रामीण इलाकों में प्रचलित वास्तविक जीवन स्थितियों से सीखने के लिए कहा गया था ।”

- (a) कम्यून प्रणाली
- (b) ग्रेट लीप फॉरवर्ड
- (c) खुले द्वार की नीति
- (d) महान सर्वहारा सांस्कृतिक क्रांति



-
21. (A) The Great Leap Forward (GLF) campaign in China focused on _____ . (Choose the correct alternative to fill up the blank) 1
- (a) Widespread industrialisation
 - (b) New agricultural strategy
 - (c) Privatisation
 - (d) Economic reforms

OR

- (B) India is *not* a member of which of the following regional / global economic groups ? 1
- (a) European Union
 - (b) BRICS
 - (c) G20
 - (d) SAARC
22. 'Skill India' programme launched by the Government is not an attempt to increase _____ in India. 1
- (Choose the correct alternative to fill up the blank)
- (a) human capital formation
 - (b) efficient utilisation of inputs
 - (c) increase in GDP growth
 - (d) inadequate spread of vocational education
23. Identify the correct alternative with reference to the following statement : 1
- "Between 1966 – 76, Mao introduced this movement under which professionals and students were asked to work and learn from real life situations prevailing in the countryside of China."
- (a) Commune System
 - (b) Great Leap Forward
 - (c) Open Door Policy
 - (d) Great Proletarian Cultural Revolution



24. निम्नलिखित कथनों को ध्यानपूर्वक पढ़िए :

कथन 1 : भारत व पाकिस्तान दोनों में, सेवा क्षेत्र विकास के एक प्रमुख स्रोत के रूप में उभरा है ।

कथन 2 : भारत के पड़ोसी देशों में, चीन की जीवन प्रत्याशा दर सर्वाधिक है ।

दिए गए कथनों के आलोक में, निम्नलिखित में से सही विकल्प का चयन कीजिए :

1

- (a) कथन 1 सत्य है और कथन 2 असत्य है ।
- (b) कथन 1 असत्य है और कथन 2 सत्य है ।
- (c) कथन 1 और 2 दोनों सत्य हैं ।
- (d) कथन 1 और 2 दोनों असत्य हैं ।

25. (क) वे श्रमिक जो अपने नियोक्ताओं के स्थायी पे-रोल (pay-roll) पर नियुक्त होते हैं, _____ श्रमिक के रूप में जाने जाते हैं ।

(रिक्त स्थान भरने के लिए सही विकल्प का चयन कीजिए)

1

- (a) स्वनियोजित
- (b) आकस्मिक
- (c) नियमित
- (d) भाड़े के

अथवा

(ख) रोज़गार-विहीन संवृद्धि, बेरोज़गारी को उत्पन्न करती है क्योंकि _____ ।

(रिक्त स्थान भरने के लिए सही विकल्प का चयन कीजिए)

1

- (a) श्रमिक पलायन करने से मना करते हैं
- (b) श्रमिक सेवाएँ बहुत महँगी होती हैं
- (c) विकास दर कम होती है
- (d) विकास प्रौद्योगिकी के कारण होता है

26. किसी एक विशेष फ़सल के बजाय विविध प्रकार की फ़सलों के उत्पादन को _____ कहा जाता है ।

(रिक्त स्थान भरने के लिए सही विकल्प का चयन कीजिए)

1

- (a) फ़सलों का विविधीकरण
- (b) कृषि उत्पादन का विविधीकरण
- (c) क्षेत्रकों में विविधीकरण
- (d) रोज़गार का विविधीकरण



24. Read the following statements carefully :

Statement 1 : In both India and Pakistan, the service sector has been emerging as a major source of development.

Statement 2 : Amongst the neighbours of India, China has the highest life expectancy rate.

In light of the given statements, choose the correct alternative from the following :

1

- (a) Statement 1 is true and Statement 2 is false.
- (b) Statement 1 is false and Statement 2 is true.
- (c) Both Statements 1 and 2 are true.
- (d) Both Statements 1 and 2 are false.

25. (A) Workers who are on the permanent pay-roll of their employer are called _____ workers.

(Choose the correct alternative to fill up the blank)

1

- (a) self-employed
- (b) casual
- (c) regular
- (d) hired

OR

(B) Jobless growth leads to unemployment because _____ .

(Choose the correct alternative to fill up the blank)

1

- (a) Labour refuses to migrate
- (b) Labour is very expensive
- (c) Growth rate is low
- (d) Growth is due to technological development

26. Production of diverse varieties of crops rather than one specialized crop is called _____. (Choose the correct alternative to fill up the blank)

1

- (a) diversification of crops
- (b) diversification of agricultural production
- (c) diversification in sectors
- (d) diversification of employment



27. निम्नलिखित कथनों को ध्यानपूर्वक पढ़िए :
- कथन 1 : भारत ने अपनी प्रथम पंचवर्षीय योजना की घोषणा 1951 में की थी ।
- कथन 2 : भारत, पाकिस्तान व चीन ने आर्थिक नियोजन को अपनी मुख्य विकास रणनीति के तौर पर अपनाया था ।
- दिए गए कथनों के आलोक में, निम्नलिखित में से सही विकल्प का चयन कीजिए : 1
- (a) कथन 1 सत्य है और कथन 2 असत्य है ।
- (b) कथन 1 असत्य है और कथन 2 सत्य है ।
- (c) कथन 1 और 2 दोनों सत्य हैं ।
- (d) कथन 1 और 2 दोनों असत्य हैं ।
28. दिए गए चित्र की व्याख्या, वर्तमान पर्यावरणीय चुनौतियों के आधार पर कीजिए : 3



नोट : निम्नलिखित प्रश्न केवल दृष्टिबाधित परीक्षार्थियों के लिए प्रश्न संख्या 28 के स्थान पर है : किसी एक वर्तमान पर्यावरणीय चुनौती की व्याख्या कीजिए ।

29. (क) भारत में ग्रामीण विकास की प्रक्रिया में ग्रामीण बैंकिंग प्रणाली की भूमिका का आलोचनात्मक मूल्यांकन कीजिए । 3
- अथवा**
- (ख) “डॉ. खुराना, एक दंत चिकित्सक, आर्थिक रूप से पिछड़े इलाके में अपना चिकित्सालय (clinic) चलाते थे । वे अपेक्षाकृत अल्प आय अर्जित कर रहे थे । इसलिए, उन्होंने शहर जाने का फैसला किया तथा उस प्रयोजन में बड़ी राशि का व्यय किया ।”
- डॉ. खुराना के द्वारा किए गए व्यय के उस प्रकार को पहचानिए तथा व्याख्या कीजिए, जिसने मानव पूँजी निर्माण प्रक्रिया में प्रत्यक्ष रूप से योगदान दिया है । 3
30. पाकिस्तान में धीमी संवृद्धि व पुनः निर्धनता आने के मान्य कारणों की व्याख्या कीजिए । 4
31. (क) औद्योगिक नीति प्रस्ताव, 1956 के अंतर्गत ‘लाइसेंस राज’ के पीछे के तर्कों को संक्षेप में समझाइए । 3
- (ख) बहुपक्षीय व्यापार की परिभाषा दीजिए । 1



27. Read the following statements carefully :

Statement 1 : India announced its First Five Year Plan in 1951.

Statement 2 : India, Pakistan and China adopted economic planning as the core development strategy.

In light of the given statements, choose the correct alternative from the following :

- (a) Statement 1 is true and Statement 2 is false.
- (b) Statement 1 is false and Statement 2 is true.
- (c) Both Statements 1 and 2 are true.
- (d) Both Statements 1 and 2 are false.

1

28. Interpret the given picture, on account of current environmental challenges :

3



Note : The following question is for the **Visually Impaired Candidates** only, in lieu of Q. No. 28 :

Explain any one current environmental challenge.

29. (a) Critically evaluate the role of rural banking system in the process of rural development in India.

3

OR

(b) “Dr. Khurana, a dentist, ran his clinic in an economically backward area. He was earning a comparatively low income. So, he decided to move to a city and spent a huge amount for the same.” Identify and explain the type of expenditure incurred by Dr. Khurana, which directly contributed to the process of human capital formation.

3

30. Explain valid reasons for the slow growth and re-emergence of poverty in Pakistan.

4

31. (a) Explain briefly the rationale behind the ‘License Raj’ under the Industrial Policy Resolution, 1956.

3

(b) Define Multilateral trade.

1



32. (क) मान्य तर्कों सहित, उल्लेख एवं व्याख्या कीजिए कि निम्नलिखित कथन सत्य है अथवा असत्य :
“हाल में, भारतीय अर्थव्यवस्था ने कार्यबल के औपचारीकरण की ओर संतोषजनक विकास किया है।”

4

अथवा

- (ख) “भारत में लगभग 60% कर्मचारी स्वरोज़गार में कार्यरत हैं। स्वरोज़गारी व्यक्तियों में अल्प रोजगार के होने की संभावना अधिकतम है।”
एक अर्थशास्त्री के रूप में, स्वरोज़गारी व्यक्तियों के लिए अधिक उत्पादक रोजगार सुनिश्चित करने के लिए किए जाने वाले किन्हीं दो उपायों का सविस्तार सुझाव दीजिए।

4

33. (क) (i) नियमित वेतनभोगी कर्मचारियों में महिलाएँ कम क्यों हैं ?
(ii) मानव पूँजी व भौतिक पूँजी में अन्तर स्पष्ट कीजिए।

3

3

अथवा

- (ख) (i) भारत में धारणीय विकास प्राप्त करने में शामिल किसी एक रणनीति का उल्लेख व चर्चा कीजिए।
(ii) ग्रामीण भारत में सूक्ष्म-ऋण कार्यक्रम के महत्त्व की संक्षेप में चर्चा कीजिए।

3

3

34. निम्नलिखित गद्य को ध्यानपूर्वक पढ़िए :
नीति आयोग के अनुसार, भारत में डिजिटल बैंकों की सुविधा के लिए प्रौद्योगिकीय लाभ उपलब्ध हैं। इसे प्रोत्साहित करने के लिए एक नियामक ढाँचा तैयार करने की आवश्यकता है।

नीति आयोग ने अपनी रिपोर्ट “Digital Banks : A Proposal for Licensing and Regulatory Regime for India” में राष्ट्र के लिए डिजिटल बैंक लाइसेंसिंग व नियामक व्यवस्था के लिए एक साँचा व रोडमैप प्रदान किया है। भारत के सार्वजनिक डिजिटल बुनियादी ढाँचे, विशेष रूप से एकीकृत भुगतान इंटरफेस (UPI) ने इस चुनौती का सफलतापूर्वक सामना किया है।

आधार के साथ, भारत अपने स्वयं एक मुक्त बैंकिंग ढाँचे को संचालित करने की कगार पर है। इससे यह पता लगता है, कि डिजिटल बैंकों को पूर्ण रूप से सुविधा प्रदान करने के लिए भारत के पास तकनीकी स्टॉक उपलब्ध है।

डिजिटल बैंकिंग, उपयोगकर्ता को नियमित उपयोगिता बिलों को भुगतान करने का एक स्वचालित भुगतान प्रक्रिया बनाने की अनुमति देता है। डिजिटल बैंकिंग फंड हस्तांतरण करके नकली मुद्रा के जोखिम को भी कम करता है। नकदी रहित समाज को प्रोत्साहित करके, डिजिटल बैंकिंग काले धन के संचलन को प्रतिबंधित करती है।

दिए गए गद्य तथा सामान्य समझ के आधार पर निम्नलिखित प्रश्नों के उत्तर दीजिए :

- (क) भारत में नीति आयोग ने किस संस्था को प्रतिस्थापित किया है ? नीति आयोग के पदेन अध्यक्ष कौन हैं ?
(ख) डिजिटल बैंकिंग के किन्हीं दो मुख्य लाभों का उल्लेख व चर्चा कीजिए।

2

4



- 32.** (a) State and elaborate whether the following statement is true or false, with valid arguments :
 “Indian economy has showed satisfactory progress towards formalization of workforce in the recent past.” 4
- OR**
- (b) “In India, the self-employed constitute around 60% employees. The possible incidence of under employment is the highest among the self-employed.”
 As an economist, suggest and elaborate any two measures that may be taken to ensure more productive employment for the self-employed. 4
- 33.** (a) (i) Why are less women found in regular salaried employment ? 3
 (ii) Distinguish between human capital and physical capital. 3
- OR**
- (b) (i) State and discuss any one strategy involved in attaining sustainable development in India. 3
 (ii) Discuss briefly the importance of micro credit programme in rural India. 3
- 34.** Read the following text carefully :
 According to NITI Aayog, India has a technological advantage to facilitate digital banks. There is a need for creating a regulatory framework for promoting this.
 NITI Aayog, in its report titled “Digital Banks : A Proposal for Licensing and Regulatory Regime for India”, offers a template and roadmap for a digital bank licensing and regulatory regime for a country. India’s public digital infrastructure, especially Unified Payments Interface (UPI) has successfully faced this.
 With Aadhar, India is at the cusp of operationalizing its own open banking framework. This demonstrates that India has the technology stock to fully facilitate digital banks.
 Digital banking allows a user to set up automatic payments for regular utility bills. Digital banking enables fund transfers to reduce the risk of counterfeit currency. By promoting a cashless society, digital banking restricts the circulation of black money.
 On the basis of the given text and common understanding, answer the following questions :
- (a) Which institution has been replaced by NITI Aayog in India ? Who is the ex-officio Chairman of NITI Aayog ? 2
- (b) State and discuss any two main advantages of digital banking. 4



Series HFG1E/2



SET-1

प्रश्न-पत्र कोड
Q.P. Code 58/2/1

रोल नं.

Roll No.

--	--	--	--	--	--	--	--

परीक्षार्थी प्रश्न-पत्र कोड को उत्तर-पुस्तिका के मुख-पृष्ठ पर अवश्य लिखें।

Candidates must write the Q.P. Code on the title page of the answer-book.

अर्थशास्त्र (सैद्धान्तिक)

ECONOMICS (Theory)

निर्धारित समय : 3 घण्टे

अधिकतम अंक : 80

Time allowed : 3 hours

Maximum Marks : 80

- कृपया जाँच कर लें कि इस प्रश्न-पत्र में मुद्रित पृष्ठ 31 हैं।
- प्रश्न-पत्र में दाहिने हाथ की ओर दिए गए प्रश्न-पत्र कोड को परीक्षार्थी उत्तर-पुस्तिका के मुख-पृष्ठ पर लिखें।
- कृपया जाँच कर लें कि इस प्रश्न-पत्र में 34 प्रश्न हैं।
- कृपया प्रश्न का उत्तर लिखना शुरू करने से पहले, उत्तर-पुस्तिका में प्रश्न का क्रमांक अवश्य लिखें।
- इस प्रश्न-पत्र को पढ़ने के लिए 15 मिनट का समय दिया गया है। प्रश्न-पत्र का वितरण पूर्वाह्न में 10.15 बजे किया जाएगा। 10.15 बजे से 10.30 बजे तक परीक्षार्थी केवल प्रश्न-पत्र को पढ़ेंगे और इस अवधि के दौरान वे उत्तर-पुस्तिका पर कोई उत्तर नहीं लिखेंगे।
- Please check that this question paper contains 31 printed pages.
- Q.P. Code given on the right hand side of the question paper should be written on the title page of the answer-book by the candidate.
- Please check that this question paper contains 34 questions.
- **Please write down the serial number of the question in the answer-book before attempting it.**
- 15 minute time has been allotted to read this question paper. The question paper will be distributed at 10.15 a.m. From 10.15 a.m. to 10.30 a.m., the candidates will read the question paper only and will not write any answer on the answer-book during this period.

^



58/2/1

261 A

1



P.T.O.

सामान्य निर्देश :

निम्नलिखित निर्देशों को बहुत सावधानी से पढ़िए और उनका पालन कीजिए :

- (i) इस प्रश्न-पत्र में कुल 34 प्रश्न हैं। सभी प्रश्न अनिवार्य हैं।
- (ii) यह प्रश्न-पत्र दो खण्डों में विभाजित है – खण्ड क तथा ख।
खण्ड-क : समष्टि अर्थशास्त्र
खण्ड-ख : भारतीय अर्थव्यवस्था का विकास
- (iii) इस प्रश्न-पत्र में एक-एक अंक के 20 बहुविकल्पीय प्रश्न हैं।
- (iv) इस प्रश्न-पत्र में तीन-तीन अंकों के 4 लघु-उत्तरीय प्रकार-I के प्रश्न हैं जिनके उत्तर 60 से 80 शब्दों में लिखे जाने चाहिए।
- (v) इस प्रश्न-पत्र में चार-चार अंकों के 6 लघु-उत्तरीय प्रकार-II के प्रश्न हैं जिनके उत्तर 80 से 100 शब्दों में लिखे जाने चाहिए।
- (vi) इस प्रश्न-पत्र में छः-छः अंकों के 4 दीर्घ-उत्तरीय प्रकार के प्रश्न हैं जिनके उत्तर 100 से 150 शब्दों में लिखे जाने चाहिए।
- (vii) प्रत्येक प्रश्न के सभी भागों के उत्तर एक साथ लिखे जाने चाहिए।

खण्ड – क

(समष्टि अर्थशास्त्र)

1. “2022-23 के वार्षिक बजट में भारत सरकार ने ₹ 65,000 करोड़ का विनिवेश लक्ष्य रखा था।” इस प्रकार की विनिवेश राशि को सरकार के बजट में _____ प्राप्तियों के तौर पर वर्गीकृत किया जाता है, क्योंकि यह सरकार की _____ करती है। (सही विकल्प का चयन करें) 1
(a) पूँजीगत, सम्पत्तियों में कमी (b) राजस्व, सम्पत्तियों में वृद्धि
(c) पूँजीगत, देनदारियों में वृद्धि (d) राजस्व, देनदारियों में कमी
2. निम्नलिखित कथनों को पढ़ें – अभिकथन (A) और कारण (R)। नीचे दिए गए विकल्पों में से एक सही विकल्प चुनें : 1
अभिकथन (A) : भुगतान संतुलन अधिशेष में तब होता है, जब स्वायत्त प्राप्तियाँ स्वायत्त भुगतानों से अधिक होती हैं।
कारण (R) : स्वायत्त लेन-देन भुगतान संतुलन में अंतर से निर्धारित होते हैं।
विकल्प :
(a) अभिकथन (A) और कारण (R) दोनों सत्य हैं और कारण (R), अभिकथन (A) की सही व्याख्या है।
(b) अभिकथन (A) और कारण (R) दोनों सत्य हैं और कारण (R), अभिकथन (A) की सही व्याख्या नहीं है।
(c) अभिकथन (A) सत्य है, लेकिन कारण (R) असत्य है।
(d) अभिकथन (A) असत्य है, लेकिन कारण (R) सत्य है।



General Instructions :

Read the following instructions carefully and follow them :

- (i) This question paper contains **34** questions. **All** questions are compulsory.
- (ii) This question paper contains **two** sections, section-**A** and **B**.
Section – **A** : Macro Economics
Section – **B** : Indian Economic Development
- (iii) This paper contains **20** Multiple Choice Questions type questions of **1** mark each.
- (iv) This paper contains **4** Short Answer Questions type-I questions of **3** marks each to be answered in **60** to **80** words.
- (v) This paper contains **6** Short Answer Questions type-II questions of **4** marks each to be answered in **80** to **100** words.
- (vi) This paper contains **4** Long Answer type Questions of **6** marks each to be answered in **100** to **150** words.
- (vii) Attempt all parts of a question together.

Section – A
(Macro Economics)

1. “In the Annual Budget 2022-23, the Government of India set up disinvestment targets of ₹ 65,000 crore”.
Such proceeds from disinvestment can be classified as _____ receipts in the Government Budget as it leads to _____ of the Government.
(Choose the correct alternative) **1**
(a) capital, decrease in assets (b) revenue, increase in assets
(c) capital, increase in liabilities (d) revenue, decrease in liabilities
2. Read the following statements – Assertion (A) and Reason (R). Choose one of the correct alternatives given below : **1**
Assertion (A) : The Balance of Payments is in surplus, if autonomous receipts are greater than autonomous payments.
Reason (R) : Autonomous transactions are determined by the difference in the Balance of Payments.
Alternatives :
(a) Both Assertion (A) and Reason (R) are true and Reason (R) is the correct explanation of Assertion (A).
(b) Both Assertion (A) and Reason (R) are true and Reason (R) is not the correct explanation of Assertion (A).
(c) Assertion (A) is true, but Reason (R) is false.
(d) Assertion (A) is false, but Reason (R) is true.



3. निम्नलिखित कथनों को ध्यानपूर्वक अध्ययन करें : 1

कथन 1 : प्रेरित उपभोग, आय व उपभोग के प्रत्यक्ष संबंध को दर्शाता है ।

कथन 2 : आय में एक निश्चित वृद्धि के कारण, प्रेरित उपभोग में भी वृद्धि होती है ।

दिए गए कथनों के आलोक में, निम्नलिखित में से सही विकल्प का चयन कीजिए :

- (a) कथन 1 सत्य है और कथन 2 असत्य है ।
- (b) कथन 1 असत्य है और कथन 2 सत्य है ।
- (c) कथन 1 और 2 दोनों सत्य हैं ।
- (d) कथन 1 और 2 दोनों असत्य हैं ।

4. सुश्री इकरा अंसारी, एक अध्यापिका, अपनी कक्षा में वाणिज्यिक बैंकों के पास होने वाले विभिन्न जमा प्रकारों के बारे में समझा रही थी । उन्होंने कहा कि –

“ये जमा मुद्रा आपूर्ति के M1 माप का भाग होते हैं, तथा वाणिज्यिक बैंकों द्वारा माँग पर देय होते हैं ।”

उनके द्वारा समझाए गए जमा प्रकार की पहचान कर सही विकल्प का चयन करें : 1

- (i) माँग जमा
- (ii) सावधि जमा
- (iii) डाकघर जमा योजना

विकल्प :

- (a) मात्र (i) (b) मात्र (ii)
- (c) (i) व (ii) (d) (i), (ii) व (iii)

5. 22 जून, 2022 को प्रकाशित भारतीय रिजर्व बैंक की प्रेस विज्ञप्ति के अनुसार : 1

“मुख्यतः इक्विटी (शेयर) बाजार से शुद्ध विदेशी पोर्टफोलियो निवेश में US\$ 15.2 बिलियन का बहिर्वाह दर्ज हुआ है ।”

उपरोक्त लेनदेन भारत के भुगतान संतुलन के _____ खाते के _____ पक्ष में दर्ज किया जाएगा ।

(सही विकल्प का चयन करें)

- (a) चालू क्रेडिट (b) चालू डेबिट
- (c) पूँजी, क्रेडिट (d) पूँजी, डेबिट



3. Read the following statements carefully : 1

Statement 1 : The induced consumption shows, the direct relation between consumption and income.

Statement 2 : With a certain increase in income, induced consumption also increases.

In the light of the given statements, choose the correct alternative from the following :

- (a) Statement 1 is true and Statement 2 is false.
- (b) Statement 1 is false and Statement 2 is true.
- (c) Both Statements 1 and 2 are true.
- (d) Both Statements 1 and 2 are false.

4. Ms. Iqra Ansari, a teacher, was explaining in her class about various types of deposits with the commercial banks. She quoted that –

“These deposits form a part of M1 measure of money supply and are payable on demand by the commercial banks.”

Identify the type of deposits she was explaining about and choose the correct alternative : 1

- (i) Demand Deposits
- (ii) Time Deposits
- (iii) Post Office Deposits

Alternatives :

- (a) Only (i) (b) Only (ii)
- (c) (i) and (ii) (d) (i), (ii) and (iii)

5. As per the Reserve Bank of India (RBI) press report, dated 22nd June, 2022 : 1

“Net Foreign Portfolio Investment (FPI) recorded an outflow of US\$15.2 billion mainly from the equity market.”

The above transaction will be recorded in the _____ account on _____ side of Balance of payments account of India. (Choose the correct alternative)

- (a) current, credit (b) current, debit
- (c) capital, credit (d) capital, debit



6. (A) निम्नलिखित कथनों का ध्यानपूर्वक अध्ययन करें :

कथन 1 : सकल घरेलू उत्पाद किसी वित्तीय वर्ष के दौरान अर्थव्यवस्था के सभी क्षेत्रों द्वारा कुल जमा किए गए, सभी अंतिम वस्तुओं व सेवाओं के सकल बाजार मूल्य का कुल योग होता है।

कथन 2 : बाजार मूल्य पर सकल मूल्य वृद्धि (GVA_{MP}), मध्यवर्ती उपभोग पर उत्पादन के मूल्य के आधिक्य के बराबर होती है।

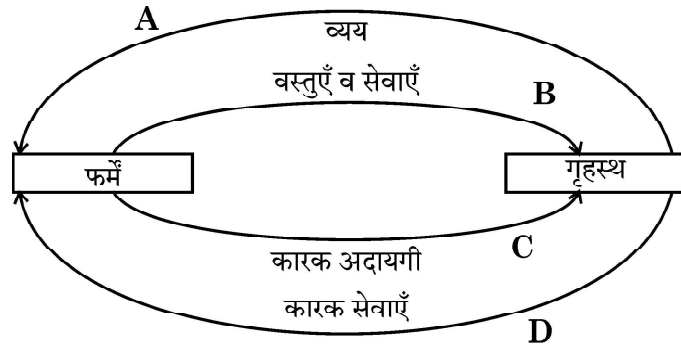
दिए गए कथनों के आलोक में, निम्नलिखित में से सही विकल्प का चयन कीजिए :

- (a) कथन 1 सत्य है और कथन 2 असत्य है।
 (b) कथन 1 असत्य है और कथन 2 सत्य है।
 (c) कथन 1 और 2 दोनों सत्य हैं।
 (d) कथन 1 और 2 दोनों असत्य हैं।

अथवा

(B) नीचे दिए गए चित्र के आधार पर B व D द्वारा दर्शाये गये प्रवाह के प्रकार की पहचान करें :

(सही विकल्प का चयन करें)



विकल्प :

- (a) वास्तविक प्रवाह (b) मौद्रिक प्रवाह
 (c) नाममात्र प्रवाह (d) राष्ट्रीय प्रवाह

7. मान लीजिए कि, किसी काल्पनिक अर्थव्यवस्था के लिए निम्नलिखित आँकड़े उपलब्ध हैं :

वर्ष \ मर्दे	2020 (₹ करोड़ में)	2021 (₹ करोड़ में)
दृश्य मर्दों का निर्यात	1,000	1,100
दृश्य मर्दों का आयात	800	850

वर्ष 2020 से 2021 में व्यापार संतुलन ₹ _____ करोड़ से _____ है।

(सही विकल्प का चयन करें)

- (a) 200, बढ़ गया (b) 200, कम हुआ
 (c) 50, बढ़ गया (d) 50, कम हुआ



6. (A) Read the following statements carefully :

Statement 1 : Gross Domestic Product (GDP) is the sum total of the gross market value of all the final goods and services added by all the sectors in the economy during a fiscal year. 1

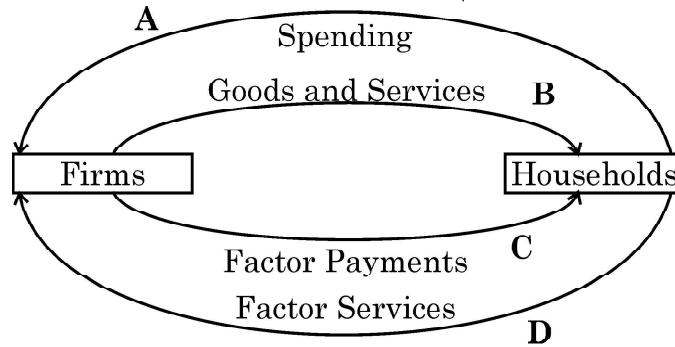
Statement 2 : Gross Value Added at Market Price (GVA_{MP}) is equal to the excess of value of output over intermediate consumption. In the light of the given statements, choose the correct alternative from the following :

- (a) Statement 1 is true and Statement 2 is false.
- (b) Statement 1 is false and Statement 2 is true.
- (c) Both Statements 1 and 2 are true.
- (d) Both Statements 1 and 2 are false.

OR

(B) On the basis of the figure given below, identify the type of flow indicated by B and D :

(Choose the correct alternative) 1



Alternatives :

- (a) Real flow
- (b) Money flow
- (c) Nominal flow
- (d) National flow

7. Assuming that, the following data is given for an imaginary economy : 1

Year	2020 (₹ in Cr.)	2021 (₹ in Cr.)
Exports of visbles	1,000	1,100
Imports of visbles	800	850

The balance of Trade from 2020 to 2021 _____ by ₹ _____ crore.

(Choose the correct alternative)

- (a) increased, 200
- (b) decreased, 200
- (c) increased, 50
- (d) decreased, 50



8. अर्थव्यवस्था में वृद्धिमान सामान्य मूल्य स्तर की समस्या से निपटने के लिए, सरकार _____ के बजट उद्देश्य की प्राप्ति के प्रयोजन से अधिशेष बजट को ला सकती है।

1

- (i) संसाधनों का पुनःआवंटन
- (ii) मूल्य स्थिरता
- (iii) आय का पुनःवितरण

विकल्प :

- (a) मात्र (i)
- (b) मात्र (ii)
- (c) मात्र (iii)
- (d) (i) व (iii)

9. (A) निम्नलिखित कथनों को पढ़ें – अभिकथन (A) और कारण (R)। नीचे दिए गए विकल्पों में से एक सही विकल्प चुनें :

1

अभिकथन (A) : आय के सम स्तर (Break Even level) पर, औसत उपभोग प्रवृत्ति (APC) का मूल्य शून्य होता है।

कारण (R) : औसत उपभोग प्रवृत्ति (APC) तथा औसत बचत प्रवृत्ति (APS) का योग सदैव इकाई के बराबर होता है।

विकल्प :

- (a) अभिकथन (A) और कारण (R) दोनों सत्य हैं और कारण (R), अभिकथन (A) की सही व्याख्या है।
- (b) अभिकथन (A) और कारण (R) दोनों सत्य हैं और कारण (R), अभिकथन (A) की सही व्याख्या नहीं है।
- (c) अभिकथन (A) सत्य है, लेकिन कारण (R) असत्य है।
- (d) अभिकथन (A) असत्य है, लेकिन कारण (R) सत्य है।

अथवा

(B) _____ समग्र माँग के उस स्तर को संदर्भित करता है, जो कि अर्थव्यवस्था में संबंधित समग्र आपूर्ति द्वारा पूरा किया जा सकता है। (सही विकल्प द्वारा, रिक्त स्थान की पूर्ति करें)

1

- (a) स्वायत्त उपभोग
- (b) प्रभावी माँग
- (c) अधिमाँग
- (d) अल्प माँग



8. In order to tackle the problem of rising general price level in an economy, government may come up with a surplus budget to achieve the budget objective of _____.

1

- (i) reallocation of resources
- (ii) price stability
- (iii) redistribution of income

Alternatives :

- (a) (i) only
- (b) (ii) only
- (c) (iii) only
- (d) (i) and (iii)

9. (A) Read the following statements – Assertion (A) and Reason (R). Choose one of the correct alternatives given below :

1

Assertion (A) : At the break-even level of income, the value of Average Propensity to Consume (APC) is zero.

Reason (R) : Sum of Average Propensity to Consume (APC) and Average Propensity to Save (APS) is always equal to one.

Alternatives :

- (a) Both Assertion (A) and Reason (R) are true and Reason (R) is the correct explanation of Assertion (A).
- (b) Both Assertion (A) and Reason (R) are true and Reason (R) is not the correct explanation of Assertion (A).
- (c) Assertion (A) is true, but Reason (R) is false.
- (d) Assertion (A) is false, but Reason (R) is true.

OR

(B) _____ refers to that level of Aggregate Demand, which can be met by the corresponding supply in the economy.

(Fill up the blank with correct alternative) 1

- (a) Autonomous Consumption
- (b) Effective Demand
- (c) Excess Demand
- (d) Deficient Demand



10. (A) भारतीय अर्थव्यवस्था में, _____ भारतीय रिज़र्व बैंक (RBI) द्वारा जारी किए जाते हैं तथा वैध मुद्रा के रूप में कार्य करते हैं।

1

- (i) सभी मूल्यवर्गों के सिक्के
- (ii) एक रुपये नोट के अलावा, विभिन्न मूल्यवर्गों के करेन्सी नोट
- (iii) माँग जमा

विकल्प :

- (a) मात्र (i)
- (b) मात्र (ii)
- (c) मात्र (iii)
- (d) (i) व (ii)

अथवा

(B) अर्थव्यवस्था में मौद्रिक नीति का निर्माण _____ करता/करती है।

(सही विकल्प द्वारा, रिक्त स्थान की पूर्ति करें)

1

- (a) वाणिज्यिक बैंक
- (b) अंतर्राष्ट्रीय मुद्रा कोष
- (c) केन्द्रीय बैंक
- (d) केन्द्रीय सरकार

11. एक काल्पनिक अर्थव्यवस्था के निम्नलिखित आँकड़ों के आधार पर, साधन लागत पर शुद्ध घरेलू उत्पाद (NDP_{FC}) की गणना करें :

3

क्रम संख्या	मर्दे	राशि (₹ करोड़ में)
(i)	गृहस्थ उपभोग व्यय	2,000
(ii)	सरकारी अंतिम उपभोग व्यय	1,500
(iii)	सकल घरेलू स्थायी पूँजी निर्माण	1,000
(iv)	स्टॉक में शुद्ध वृद्धि	300
(v)	निर्यात	700
(vi)	शुद्ध अप्रत्यक्ष कर	350
(vii)	आयात	200
(viii)	स्थायी पूँजी का उपभोग	250



10. (A) In the Indian economy, _____ are issued by the Reserve Bank of India and acts as legal tender money. 1

- (i) Coins of all denomination
- (ii) Currency notes of various denominations, except one rupee note
- (iii) Demand deposits

Alternatives :

- (a) Only (i) (b) Only (ii)
- (c) Only (iii) (d) (i) and (ii)

OR

(B) _____ formulates the Monetary Policy in the economy.

(Fill up the blank with correct alternative) 1

- (a) Commercial Banks (b) International Monetary Fund
- (c) Central Bank (d) Central Government

11. On the basis of the data given below for an imaginary economy, estimate the value of Net Domestic Product at factor cost (NDP_{FC}) : 3

S. No.	Items	Amount (₹ in crore)
(i)	Household Consumption Expenditure	2,000
(ii)	Government Final Consumption Expenditure	1,500
(iii)	Gross Domestic Fixed Capital Formation	1,000
(iv)	Net additions to stock	300
(v)	Exports	700
(vi)	Net Indirect Taxes	350
(vii)	Imports	200
(viii)	Consumption of Fixed Capital	250



12. (a) “नम्य (Flexible) विनिमय दर प्रणाली के अंतर्गत, केन्द्रीय बैंक विदेशी मुद्रा बाजार में हस्तक्षेप नहीं करता है” ।
मान्य तर्कों द्वारा दिए गए कथन का औचित्य सिद्ध करें । 3
- अथवा**
- (b) किसी राष्ट्र के निर्यात पर घरेलू मुद्रा के मूल्यहास के प्रभाव की व्याख्या करें । 3
13. “वाणिज्यिक बैंकों द्वारा साख सृजन की प्रक्रिया तब संपन्न होती है, जब अनिवार्य कोष का योग आरंभिक जमा के बराबर हो जाता है ।”
एक संख्यात्मक उदाहरण की सहायता से सिद्ध करें, कि दिया गया कथन सत्य है । 4
14. (a) “एक अर्थव्यवस्था में नियोजित समग्र माँग नियोजित समग्र पूर्ति से अधिक है ।”
उत्पादन, आय व रोजगार के स्तर पर पड़ने वाले इसके प्रभावों की व्याख्या करें । 4
- अथवा**
- (b) एक काल्पनिक अर्थव्यवस्था के लिए, यह मानते हुए कि सीमांत उपभोग प्रवृत्ति (MPC) में 75% से 90% की वृद्धि हुई है, तथा निवेश में ₹ 1,000 करोड़ का परिवर्तन हुआ है ।
निवेश गुणक की अवधारणा का प्रयोग करते हुए, सीमांत उपभोग प्रवृत्ति (MPC) में परिवर्तन के कारण हुई आय में वृद्धि की गणना करें । 4
15. उपयुक्त उदाहरण द्वारा, प्रत्यक्ष करों व अप्रत्यक्ष करों में अंतर स्पष्ट करें । 4
16. (a) (i) “ऐसी कई वस्तुएँ व सेवाएँ होती हैं, जो कल्याण में योगदान देती हैं, परन्तु सकल घरेलू उत्पाद के अनुमान में शामिल नहीं की जाती हैं ।”
क्या आप दिए गए कथन से सहमत हैं ? अपने उत्तर के समर्थन में मान्य कारण दें । 3
- (ii) उपयुक्त उदाहरण द्वारा, अंतिम वस्तुओं व मध्यवर्ती वस्तुओं में अंतर स्पष्ट करें । 3
- अथवा**
- (b) (i) उपयुक्त संख्यात्मक उदाहरण के प्रयोग द्वारा, वास्तविक सकल घरेलू उत्पाद व मौद्रिक सकल घरेलू उत्पाद में अंतर स्पष्ट करें । 4
- (ii) एक देश के ‘सामान्य निवासी’ का अर्थ लिखें । 2



12. (a) “Under the flexible exchange rate system, the Central Bank does not intervene in the foreign exchange market.”
Justify the statement, giving valid arguments. 3

OR

- (b) Explain the impact of home currency depreciation on the exports of a nation. 3
13. “The process of credit creation by commercial banks comes to an end when the total of required reserves become equal to the initial deposits.”
With the help of a numerical example, prove that the given statement is true. 4

14. (a) “In an economy *ex-ante* Aggregate Demand is more than *ex-ante* Aggregate Supply.”
Explain its impact on the level of output, income and employment. 4

OR

- (b) For a hypothetical economy, assuming there is an increase in the Marginal Propensity to Consume (MPC) from 75% to 90% and change in investment to be ₹ 1,000 crore. 4
Using the concept of investment multiplier, calculate the increase in income due to change in Marginal Propensity to Consume (MPC).

15. With suitable examples, distinguish between Direct taxes and Indirect taxes. 4

16. (a) (i) “Many goods and services which may contribute to welfare, but are not included in estimating Gross Domestic Product (GDP).”
Do you agree with the given statement ? Give valid reason in support of your answer. 3
(ii) With suitable examples, distinguish between final goods and intermediate goods. 3

OR

- (b) (i) Using a suitable numerical example, distinguish between Real Gross Domestic Product (GDP) and Nominal Gross Domestic Product (GDP). 4
(ii) State the meaning of ‘normal resident’ of a country. 2



17. निम्नलिखित गद्य का ध्यानपूर्वक अध्ययन करें। इसके तथा सामान्य ज्ञान के आधार पर दिए गए प्रश्नों का उत्तर दें :

30 सितंबर 2022 को भारतीय रिजर्व बैंक ने लगातार चौथी बार रेपो दर में वृद्धि की है। मौद्रिक नीति समिति (MPC) ने नीतिगत दर में 50 आधार अंकों (1 आधार अंक = प्रतिशत का $\frac{1}{100}$ वाँ भाग) की वृद्धि की है। इस घोषणा के उपरांत, रेपो दर 5.9% पर आ गई है, जबकि रिवर्स रेपो दर 3.35% के समान स्तर पर खड़ी है।

धनराशि की अल्पता के कारण वाणिज्यिक बैंक केन्द्रीय बैंक से ऋण लेते हैं। रेपो दर में वृद्धि के कारण आम जनता द्वारा ऋण लेना महंगा हो जाएगा। ऐसा इसलिए है क्योंकि, जैसे ही RBI रेपो दर बढ़ाता है, बैंकों के लिए केन्द्रीय बैंक से अल्पकालिय ऋण लेना महंगा हो जाता है।

परिणामस्वरूप, रेपो दर में वृद्धि की भरपाई के लिए बैंक उस ऋण दर में वृद्धि करते हैं जिस पर ग्राहक, बैंकों से उधार लेते हैं। ऐसा इसलिए होता है क्योंकि, बैंक खुदरा उपभोक्ताओं को उस ब्याज दर पर ऋण देते हैं, जो आम तौर पर रेपो दर से प्रत्यक्ष रूप से आनुपातिक होता है।

रेपो दर में 0.50% की वृद्धि द्वारा उधार लेने वालों के लिए ऋण उच्च दरों पर उपलब्ध होगा। इसका अर्थ है, कि वर्तमान ऋण चुकाने के लिए दी जाने वाली EMI (Equated Monthly Instalments) में भी वृद्धि हो जाएगी।

Source : <https://www.businessstandard.com/article/economicpolicy/rbi-monetary-policy-repo-rate-up-by-50bps-here-s-how-it-will-impact-you-122093000267> (Edited)

- (a) 'रेपो दर' को परिभाषित करें। 1
- (b) भारतीय रिजर्व बैंक की मौद्रिक नीति समिति (MPC) द्वारा हाल ही में रेपो दर में किए गए परिवर्तन का उल्लेख करें। 1
- (c) "रेपो दर में वृद्धि अर्थव्यवस्था में मुद्रा स्फीति का मुकाबला करने के लिए मौद्रिक नीति समिति द्वारा उपयोग किया जाने वाला एक महत्वपूर्ण उपकरण है।" दिए गए कथन का औचित्य सिद्ध करें। 4



17. Read the following text carefully. Answer the given questions on the basis of the same and common understanding :

On 30th September 2022, the Reserve Bank of India (RBI) raised Repo Rate for the fourth time in a row. The Monetary Policy Committee (MPC) decided to raise the policy rate by 50 basis points (1 basis point = $\frac{1}{100}$ th of a percent). After this announcement, the new repo rate stands at 5.9%, while the reverse repo rate continues to stand at 3.35%.

Commercial banks borrow money from the Central Bank, when there is a shortage of funds. With the surge in the repo rate, borrowings by general public will become costlier. This is because, as RBI hikes its repo rate, it becomes costly for the banks to borrow short term funds from the Central Bank.

As a result, the banks hike the rates at which customers borrow money from them to compensate for the hike in the repo rate. This happens because banks offer loans to retail consumers at an interest rate which is generally, directly proportional to the repo rate.

The increase of 0.50 percent in repo rate will lead to a higher interest rates on loans for borrowers, implying that the Equated Monthly Instalments (EMIs) for repaying the existing loans will also increase.

Source : <https://www.businessstandard.com/article/economicpolicy/rbi-monetary-policy-repo-rate-up-by-50bps-here-s-how-it-will-impact-you-122093000267> (Edited)

- (a) Define 'Repo Rate'. 1
- (b) Outline the recent change made by the Monetary Policy Committee of Reserve Bank of India in the repo rate. 1
- (c) "Increase in repo rate is an important tool used by Monetary Policy Committee to combat the situation of inflation in the Economy." Justify the given statement. 4



खण्ड – ख

(भारतीय अर्थव्यवस्था का विकास)

18. औपनिवेशिक शासन काल के दौरान विदेशी व्यापार के संदर्भ में निम्नलिखित में से कौन सा कथन सत्य नहीं है ? (सही विकल्प का चयन करें) 1
- (a) भारत को बड़े व्यापार घाटे का सामना करना पड़ा ।
(b) वस्तु उत्पादन की प्रतिबंधात्मक नीतियों का पालन किया गया ।
(c) ब्रिटेन ने भारत के निर्यात व आयात पर एकाधिकारिक नियंत्रण बनाए रखा था ।
(d) भारत प्राथमिक उत्पादों का निर्यातक व तैयार उपभोक्ता वस्तुओं का आयातक बन गया था ।
19. (A) _____ एक ऐसी प्रक्रिया है, जिसमें बुवाई से लेकर उत्पादित वस्तुओं की बाजार में बिक्री तक सभी गतिविधियाँ सम्मिलित होती हैं । (सही विकल्प द्वारा, रिक्त स्थान की पूर्ति करें) 1
- (a) ग्रामीण विकास
(b) कृषि विविधीकरण
(c) जैविक खेती
(d) कृषि विपणन

अथवा

- (B) _____ एक महत्वपूर्ण अतिलघु वित्त प्रणाली के रूप में उभरा है और इससे महिला सशक्तिकरण हुआ है । (सही विकल्प द्वारा, रिक्त स्थान की पूर्ति करें) 1
- (a) नाबार्ड (NABARD) (b) स्वयं सहायता समूह
(c) वाणिज्यिक बैंक (d) भूमि विकास बैंक
20. (A) निम्नलिखित कथनों को पढ़ें – अभिकथन (A) और कारण (R) । नीचे दिए गए विकल्पों में से एक सही विकल्प चुनें : 1
- अभिकथन (A) :** मानव पूँजी का बाजार में क्रय-विक्रय नहीं होता है, हालाँकि इसकी सेवाओं का क्रय-विक्रय होता है ।
कारण (R) : मानव पूँजी अमूर्त होती है ।
- विकल्प :**
- (a) अभिकथन (A) और कारण (R) दोनों सत्य हैं और कारण (R), अभिकथन (A) की सही व्याख्या है ।
(b) अभिकथन (A) और कारण (R) दोनों सत्य हैं और कारण (R), अभिकथन (A) की सही व्याख्या नहीं है ।
(c) अभिकथन (A) सत्य है, लेकिन कारण (R) असत्य है ।
(d) अभिकथन (A) असत्य है, लेकिन कारण (R) सत्य है ।

अथवा



Section – B

(Indian Economic Development)

18. Which of the following is **NOT** true about foreign trade during the colonial rule ? (Choose the correct alternative) **1**
- (a) India suffered from large trade deficit.
(b) Restrictive policies of commodity production, were followed.
(c) Britain maintained a monopoly control over India's exports and imports.
(d) India became an exporter of primary products and an importer of finished consumer goods.

19. (A) _____ is a process, which includes all the activities from sowing till sale of the final produce in the market. (Fill up the blank with correct alternative) **1**
- (a) Rural Development (b) Agricultural Diversification
(c) Organic Farming (d) Agricultural Marketing

OR

- (B) _____ have emerged as an important micro finance system and led to women empowerment. (Fill up the blank with correct alternative) **1**
- (a) NABARD (b) Self-Help Groups
(c) Commercial Banks (d) Land Development Banks

20. (A) Read the following statements – Assertion(A) and Reason (R). Choose one of the correct alternatives given below : **1**

Assertion (A) : Human capital is not traded in the market; however its services are traded.

Reason (R) : Human capital is intangible in nature.

Alternatives :

- (a) Both Assertion (A) and Reason (R) are true and Reason (R) is the correct explanation of Assertion (A).
(b) Both Assertion (A) and Reason (R) are true and Reason (R) is not the correct explanation of Assertion (A).
(c) Assertion (A) is true, but Reason (R) is false.
(d) Assertion (A) is false, but Reason (R) is true.

OR



(B) भौतिक पूँजी का लाभ केवल निजी संस्थाओं को मिलता है; जबकि मानव पूँजी निजी के साथ-साथ _____ लाभ भी प्रदान करती है। (सही विकल्प द्वारा, रिक्त स्थान की पूर्ति करें) 1

- (a) लाभदायक (b) सामाजिक
(c) राजकोषीय (d) मौद्रिक

21. निम्नलिखित कथनों का ध्यानपूर्वक अध्ययन करें : 1

कथन 1 : चीन ने स्वयं बिना किसी दबाव के, ढाँचागत आर्थिक सुधारों की शुरुआत की थी।

कथन 2 : विद्वानों का तर्क है कि, भारत में आर्थिक सुधारों की प्रक्रिया ने सभी आर्थिक संकेतकों को खराब कर दिया है।

दिए गए कथनों के आलोक में, निम्नलिखित में से सही विकल्प का चयन कीजिए :

- (a) कथन 1 सत्य है और कथन 2 असत्य है।
(b) कथन 1 असत्य है और कथन 2 सत्य है।
(c) कथन 1 और 2 दोनों सत्य हैं।
(d) कथन 1 और 2 दोनों असत्य हैं।

22. निम्नलिखित में से क्या 'स्वर्णिम क्रांति' का एक लाभ नहीं था ? (सही विकल्प का चयन करें) 1

- (a) कृषकों की आय में वृद्धि।
(b) दुध व संबंधित उत्पादों के उत्पादन में वृद्धि।
(c) फल व सब्जियों के उत्पादन व निर्यात में वृद्धि।
(d) ग्रामीण क्षेत्रों में महिलाओं को रोजगार।



(B) Benefits of physical capital accrue only to private entities, whereas human capital provides private as well as _____ benefits.

(Fill up the blank with correct alternative) 1

- (a) profitable (b) social
(c) fiscal (d) monetary

21. Read the following statements carefully : 1

Statement 1 : China introduced structural economic reforms on its own, without any pressure.

Statement 2 : Scholars argue that in India, the economic reforms process led to the worsening of all the economic indicators.

In the light of the given statements, choose the correct alternatives from the following :

- (a) Statement 1 is true and Statement 2 is false.
(b) Statement 1 is false and Statement 2 is true.
(c) Both Statements 1 and 2 are true.
(d) Both Statements 1 and 2 are false.

22. Which of the following was **NOT** the benefit accruing from 'Golden Revolution' ? (Choose the correct alternative) 1

- (a) Increase in the income of the farmers.
(b) Increase in production of milk and related products.
(c) Increase in production and exports of fruits and vegetables.
(d) Employment for women in rural areas.



23. कॉलम – I में दिए गए घटनाओं के सेट व कॉलम – II में दिए गए संबंधित वर्षों में से असत्य युग्म का चयन करें :

1

	कॉलम – I		कॉलम – II
A.	भारत में रेलवे की शुरुआत	(i)	1850
B.	TISCO का निगमन	(ii)	1807
C.	भारत की प्रथम आधिकारिक जनगणना	(iii)	1881
D.	स्वेज नहर का खुलना	(iv)	1869

विकल्प :

- (a) A – (i) (b) B – (ii)
(c) C – (iii) (d) D – (iv)
24. (A) चीन ने 1958 में _____ की शुरुआत की, जिसका उद्देश्य बड़े पैमाने पर देश का औद्योगीकरण करना था। (सही विकल्प द्वारा, रिक्त स्थान की पूर्ति करें) 1
- (a) महान सर्वहारा सांस्कृतिक क्रांति (b) विशेष आर्थिक क्षेत्रों की स्थापना
(c) आर्थिक सुधारों की शुरुआत (d) ग्रेट लीप फारवर्ड अभियान

अथवा

- (B) _____ सामाजिक व राजनीतिक निर्णय लेने में लोकतांत्रिक भागीदारी की सीमा के एक उपाय के रूप में कार्य करता है। (सही विकल्प द्वारा, रिक्त स्थान की पूर्ति करें) 1
- (a) मानव विकास सूचकांक (b) स्वतंत्रता संकेतक
(c) आर्थिक विकास (d) निर्धनता सूचकांक

25. एक अर्थव्यवस्था में जब संसाधनों के निष्कर्षण की दर संसाधनों के पुनर्जनन की दर से कम होती है, तो पर्यावरण _____ संचालित होता है। (सही विकल्प द्वारा, रिक्त स्थान की पूर्ति करें) 1
- (a) अपनी वहन क्षमता में (b) अपनी अवशोषण क्षमता से आगे
(c) अपनी वहन क्षमता से आगे (d) अपनी सौंदर्य क्षमता से आगे



23. From the set of the events given in Column – I and the corresponding year in Column – II, choose the **incorrect pair** :

1

	Column – I		Column – II
A.	Introduction of railways in India	(i)	1850
B.	Incorporation of TISCO	(ii)	1807
C.	First Official Census of India	(iii)	1881
D.	Opening of Suez Canal	(iv)	1869

Alternatives :

- (a) A – (i) (b) B – (ii)
(c) C – (iii) (d) D – (iv)
24. (A) China initiated _____ in 1958, that aimed at industrializing the country on a massive scale. (Fill up the blank with correct alternative) 1
- (a) The Great Proletarian Cultural Revolution
(b) Setting up of Special Economic Zones
(c) Introduction of Economic Reforms
(d) The Great Leap Forward Campaign

OR

- (B) _____ acts as a measure of ‘the extent of democratic participation in social and political decision-making.’
(Fill up the blank with correct alternative) 1
- (a) Human Development Index (b) Liberty Indicator
(c) Economic Growth (d) Poverty Index

25. In an economy, when the rate of resource extraction is lower than the rate of regeneration of the resource, the environment may operate _____ 1
- (Fill up the blank with correct alternative)
- (a) within its carrying capacity. (b) beyond its absorptive capacity.
(c) beyond its carrying capacity. (d) beyond its aesthetic capacity.



26. निम्नलिखित कथनों का ध्यानपूर्वक अध्ययन करें :

1

कथन 1 : भारत, पाकिस्तान व चीन में से, चीन सबसे बड़ा व जनसंख्या घनत्व वाला राष्ट्र है ।

कथन 2 : चीन में 1970 के दशक के अंत में प्रारंभ की गई एकल बालक नीति से जनसंख्या वृद्धि दर में काफी कमी आयी थी ।

दिए गए कथनों के आलोक में, निम्नलिखित में से सही विकल्प का चयन कीजिए :

- (a) कथन 1 सत्य है और कथन 2 असत्य है ।
- (b) कथन 1 असत्य है और कथन 2 सत्य है ।
- (c) कथन 1 और 2 दोनों सत्य हैं ।
- (d) कथन 1 और 2 दोनों असत्य हैं ।

27. निम्नलिखित आँकड़ों के आधार पर सकल घरेलू उत्पाद (GDP %) की वार्षिक वृद्धि दर के संदर्भ में असत्य कथन की पहचान करें :

(सही विकल्प का चयन करें) 1

सकल घरेलू उत्पाद की वार्षिक वृद्धि दर (%). 1980 – 2017

देश	1980 – 90	2015 – 2017
भारत	5.7	7.3
चीन	10.3	6.8
पाकिस्तान	6.3	5.3

Source : Key Indicators for Asia and Pacific 2016. Asian Development Bank.
Philippines : World Development Indicators 2018.

विकल्प :

- (a) 1980 के दशक में चीन लगभग दहाई अंकों में वृद्धि दर बनाए रखने में सक्षम था ।
- (b) 1980 – 2017 के मध्य पाकिस्तान भारत से आगे था ।
- (c) 2015-17 के दौरान भारत ने सकल घरेलू उत्पाद (GDP) में तीव्र वृद्धि का अनुभव किया था ।
- (d) 2015-17 के दौरान चीन व पाकिस्तान दोनों ने वृद्धि दर में गिरावट का अनुभव किया था ।



26. Read the following statements carefully :

1

Statement 1 : Amongst India, China and Pakistan, China is the largest nation and has the highest population density.

Statement 2 : One-child policy introduced in the late 1970s in China led to a considerable decline in the population growth rate.

In the light of the given statements, choose the correct alternative from the following :

- (a) Statement 1 is true and Statement 2 is false.
- (b) Statement 1 is false and Statement 2 is true.
- (c) Both Statements 1 and 2 are true.
- (d) Both Statements 1 and 2 are false.

27. On the basis of the data given below, identify the **incorrect** statement in terms of annual growth of GDP (%) : (Choose the correct alternative)

1

Annual Growth of Gross Domestic Product (%). 1980 – 2017

Country	1980 – 90	2015 – 2017
India	5.7	7.3
China	10.3	6.8
Pakistan	6.3	5.3

Source : Key Indicators for Asia and Pacific 2016. Asian Development Bank. Philippines : World Development Indicators 2018.


Alternatives :

- (a) China was able to maintain near double-digit growth during the 1980s.
- (b) Pakistan was ahead of India during 1980 – 2017.
- (c) India experienced a rapid rise in Gross Domestic Product during 2015-17.
- (d) Both China and Pakistan experienced a decline in growth rate during 2015-17.



28. “जलवायु परिवर्तन को लेकर गंभीर चिंताएँ लोगों का ध्यान अपनी ओर आकर्षित कर रही हैं।”

3



उपरोक्त कथन व चित्र के आलोक में पर्यावरण की वैश्विक चिंता से निपटने के लिए किन्हीं दो रणनीतियों पर चर्चा करें।

29. (a) “हाल ही में, भारत सरकार ने कृषि विविधीकरण के माध्यम से कृषकों की आय बढ़ाने की दिशा में कई कदम उठाए हैं।”

3

उपरोक्त कथन के आलोक में कृषि में विविधीकरण के किन्हीं दो लाभों की व्याख्या करें।

अथवा

(b) “भारत में शिक्षा व स्वास्थ्य के क्षेत्र में सरकार का सक्रिय हस्तक्षेप आवश्यक है।”

क्या आप दिए गए कथन से सहमत हैं ? अपने उत्तर के समर्थन में कारण दें।

3


30. भारतीय अर्थतंत्र के कृषि क्षेत्र में हरित क्रांति के किन्हीं दो गुणों व दोषों की चर्चा करें।

4



28. "Serious concerns over the climate change is taking over the attention of the world."

3



In the light of the above statement and image, discuss any two strategies to tackle this global concern of Environmental degradation.

29. (a) "Recently the Government of India has taken numerous steps towards increasing the farmer's income through agricultural diversification."

3

In light of the above statement, explain any two advantages of diversification in agriculture.

OR

- (b) "Active Government intervention is essential in education and health sectors in India."

Do you agree with the given statement ? Give reasons in support of your answer.

3

30. Discuss any two merits and demerits of the Green Revolution in the agricultural sector in the Indian economy.

4



31. दिए गए आँकड़ों के आधार पर :

Some Selected Indicators of Human Development, 2017-2019

Item	India	China	Pakistan
Human Development Index (Value)	0.645	0.761	0.557
Rank (based on HDI)	130	87	154
Life Expectancy at Birth (years)	69.7	76.9	67.3
Mean years of Schooling (% aged 15 and above)	6.5	8.1	5.2
Gross National Income per capita (PPP US\$)	6,681	16,057	5,005
Percentage of People living Below Poverty Line (National)	21.9*	1.7**	24.3*
Infant Mortality Rate (per 1000 live births)	29.9	7.4	57.2
Maternal Mortality Rate (per 1 lakh births)	133	29	140
Population using at least basic Sanitation (%)	60	75	60
Population using at least basic drinking Water Source (%)	93	96	91
Percentage of Undernourished Children	37.9	8.1	37.6

Note: * for the year 2011; for the years 2015.

Sources: Human Development Report 2019 and 2020.

- (i) एक-एक आय संकेतक व स्वास्थ्य संकेतक की पहचान करें। 2
- (ii) भाग (i) में पहचाने गए किसी एक संकेतक के आधार पर भारत व चीन की तुलना करें। 2
32. (a) “कार्य पर प्रशिक्षण (On the Job Training) पर किया गया व्यय अर्थव्यवस्था में मानव पूँजी निर्माण का एक महत्वपूर्ण साधन है।”
दिए गए कथन की मान्य कारणों द्वारा पुष्टि करें। 4
- अथवा**
- (b) “धारणीय विकास को प्रोत्साहित करने के लिए जैविक खेती समय की माँग है, परंतु इसकी अपनी कुछ सीमाएँ हैं।”
उपरोक्त कथन के आलोक में जैविक खेती के किन्हीं दो लाभों व सीमाओं को स्पष्ट करें। 4
33. (a) (i) श्रमिक-जनसंख्या अनुपात की परिभाषा दें। इसकी उपयोगिता की विवेचना करें। 3
- (ii) ‘अपनी शिक्षा पूरी करने के उपरांत श्रीमान ऋषि अपने पारिवारिक व्यवसाय से जुड़ गए, परंतु उनकी सीमांत उत्पादकता शून्य है।’
श्रीमान ऋषि के रोजगार की स्थिति पर टिप्पणी करें व अपने उत्तर के समर्थन में मान्य कारण दें। 3
- अथवा**
- (b) (i) ‘काव्या अपने परिवार के खेत में कार्य करती है, उसे ना तो नकद व ना ही अनाज के रूप में भुगतान किया जाता है।’
क्या उसे श्रमिक के रूप में वर्गीकृत किया जा सकता है ? अपने उत्तर के समर्थन में वैध कारण दें। 3
- (ii) “1990 के दशक के अंत में भारत ने सकल घरेलू उत्पाद (GDP) की वृद्धि व रोजगार सृजन के मध्य एक व्यापक अंतर अनुभव किया था।” विवेचना करें। 3



31. On the basis of the given data :

Some Selected Indicators of Human Development, 2017-2019

Item	India	China	Pakistan
Human Development Index (Value)	0.645	0.761	0.557
Rank (based on HDI)	130	87	154
Life Expectancy at Birth (years)	69.7	76.9	67.3
Mean years of Schooling (% aged 15 and above)	6.5	8.1	5.2
Gross National Income per capita (PPP US\$)	6,681	16,057	5,005
Percentage of People living Below Poverty Line (National)	21.9*	1.7**	24.3*
Infant Mortality Rate (per 1000 live births)	29.9	7.4	57.2
Maternal Mortality Rate (per 1 lakh births)	133	29	140
Population using at least basic Sanitation (%)	60	75	60
Population using at least basic drinking Water Source (%)	93	96	91
Percentage of Undernourished Children	37.9	8.1	37.6

Note: * for the year 2011; for the years 2015.

Sources: Human Development Report 2019 and 2020.

- (i) Identify one income indicator and one health indicator, each. **2**
- (ii) Compare India and China on the basis of any one of the indicator identified above in part (i). **2**
32. (a) “Expenditure on **On-the-job training** is an important means of human capital formation in an economy.”
Give valid reasons to justify the given statement. **4**
- OR**
- (b) “Organic Farming is the need of the hour to promote sustainable development but, has its own limitations.”
Elaborate any two advantages and limitations each of organic farming in the light of the above statement. **4**
33. (a) (i) Define Worker Population Ratio. Discuss its usefulness. **3**
- (ii) ‘Mr. Rishi, after completing his education, has joined his family business but his marginal productivity is zero.’
Comment upon the employment status of Mr. Rishi. Give valid reasons in support of your answer. **3**
- OR**
- (b) (i) ‘Kavya works on her family farm and is neither paid in cash nor in the form of grains.’
Can she be categorized as a worker ? Give valid reasons in support of your answer. **3**
- (ii) “In the late 1990’s India experienced a widening gap between the growth of GDP and employment generation”. Discuss. **3**



34. निम्नलिखित गद्य का ध्यानपूर्वक अध्ययन करें तथा दिए गए प्रश्नों का उत्तर इसके व सामान्य ज्ञान के आधार पर दें।

1991 के “आर्थिक सुधारों” के अंतर्गत प्रारंभ किए गए स्थायित्वकारी व संरचनात्मक समायोजन उपायों ने भारत की आर्थिक नीतियों में एक ऐतिहासिक क्षण को चिह्नित किया था। स्वतंत्रता के तीन दशकों तक भारत की विकास रणनीति व आर्थिक नीतियाँ सामाजिक न्याय व समानता के साथ उत्पादन व रोजगार में तीव्र वृद्धि लाने के उद्देश्य से निर्देशित थीं।

1970 के पश्चात् से यह अनुभव किया गया कि, आर्थिक गतिविधियों पर कई नियमों की उपयोगिता समाप्त हो चुकी है तथा वास्तव में ये आर्थिक विकास में बाधक बन रही हैं। इसके प्रति उत्तर में सरकार ने 1980 के दशक के प्रारंभ से कुछ नरम उदारीकरण सुधारों की शुरुआत की थी।

हालाँकि, भारतीय अर्थव्यवस्था को शीघ्र ही खाड़ी संकट का सामना करना पड़ा तथा परिणामस्वरूप :

- (i) तेल की कीमतों की अनिश्चितता;
- (ii) बाह्य भुगतान की समस्या;
- (iii) गंभीर मुद्रास्फीतिकारी दबाव;
- (iv) आवश्यक वस्तुओं की अल्पता;
- (v) राजकोषीय अनुशासन में गिरावट आदि; के कारण भारतीय अर्थव्यवस्था आर्थिक संकट के कगार पर पहुँच गई थी।

इस उभरते हुए संकट की प्रतिक्रिया में सरकार ने कुछ स्थायित्वकारी व संरचनात्मक सुधारों को शुरू किया जैसे :

- (i) राजकोषीय घाटे में कमी;
- (ii) मुद्रा आपूर्ति में वृद्धि पर नियंत्रण;
- (iii) विनिमय दर समायोजन प्रणाली आदि।

स्थायित्वकारी नीति का मुख्य उद्देश्य समग्र माँग के विकास को अर्थव्यवस्था के दीर्घकालिक विकास पथ के अनुरूप लाना था।



34. Read the following text carefully and answer the given questions on the basis of the same and common understanding.

The stabilisation and structural adjustment measures, initiated under the 1991 “Economic Reforms” mark a watershed moment in India’s economic policies. For almost three decades since independence, India’s development strategy and economic policies were guided by the objectives of accelerating the growth of output and employment with social justice and equity.

Ever since the 1970’s, it was realised that many of the regulations on economic activities have outlived their usefulness and were in fact hampering economic growth and development. In response to this, the government initiated some milder liberalisation reforms for almost a decade since the early 1980’s.

However, the Indian economy soon had to face the Gulf crisis and consequently :

- (i) The uncertainties about the oil prices;
- (ii) The external payment problems;
- (iii) The serious inflationary pressures;
- (iv) The scarcities of essential commodities;
- (v) The deterioration of fiscal discipline, etc.

These led to the Indian economy on the verge of Economic crisis.

In response to this emerging crisis, the Government initiated a set of stabilisation and structural reforms like :

- (i) Reduction in fiscal deficit;
- (ii) Containment of growth in money supply;
- (iii) An exchange rate adjustment system etc.

The key objective of stabilisation policy was to bring the growth of aggregate demand in line with long term growth path of the economy.



अर्थव्यवस्था के आपूर्ति पक्ष में सुधार के लिए संयोजन के रूप में संरचनात्मक समायोजन उपाय किये गए जैसे :

- (i) औद्योगिक लाईसेंसों का समापन
- (ii) अंतर्राष्ट्रीय व्यापार को नियंत्रित करने वाली नीति व्यवस्था का उदारीकरण
- (iii) वित्तीय क्षेत्र का विनियमन

इसने अर्थव्यवस्था के दीर्घकालिक विकास पथ को ही पूर्णतः बदल दिया ।

(स्वीकृत एवं संशोधित)

Source :

<https://niti.gov.in/planningcommission.gov.in/docs/reports/genrep/arep9099/at94-95.htm>

- (a) 1991 में आर्थिक सुधारों की शुरुआत के किन्हीं दो कारणों को संक्षेप में रेखांकित करें । 2
- (b) सरकार ने आर्थिक संकट को हल करने के लिए स्थायित्वकारी व संरचनात्मक सुधार पेश किए थे ।
भारत सरकार द्वारा अपनाई गई इन नीतियों की प्रमुख पहलों व उद्देश्यों का उल्लेख करें । 4



In conjunction, the structural adjustment measures like;

- (i) industrial delicensing
- (ii) liberalisation of policy regime governing international trade
- (iii) deregulation of financial sector

Were taken to improve the supply side of the economy This shifted the long-term growth path of the economy itself completely.

(Adapted and modified)

Source :

<https://niti.gov.in/planningcommission.gov.in/docs/reports/genrep/arep9099/at94-95.htm>

- (a) Briefly outline any two reasons for the initiation of Economic Reforms in 1991. 2
- (b) Government introduced a set of stabilisation and structural reforms to solve the economic crisis. State the key initiatives and objectives of these policies adopted by the Government of India. 4



58/2/1 **261 A**

32



Series HFG1E/3



SET-1

प्रश्न-पत्र कोड
Q.P. Code

58/3/1

रोल नं.
Roll No.

--	--	--	--	--	--	--	--

परीक्षार्थी प्रश्न-पत्र कोड को उत्तर-पुस्तिका के मुख-पृष्ठ पर अवश्य लिखें ।

Candidates must write the Q.P. Code on the title page of the answer-book.

अर्थशास्त्र ECONOMICS

निर्धारित समय : 3 घण्टे

Time allowed : 3 hours

अधिकतम अंक : 80

Maximum Marks : 80

- कृपया जाँच कर लें कि इस प्रश्न-पत्र में मुद्रित पृष्ठ 31 हैं ।
- प्रश्न-पत्र में दाहिने हाथ की ओर दिए गए प्रश्न-पत्र कोड को परीक्षार्थी उत्तर-पुस्तिका के मुख-पृष्ठ पर लिखें ।
- कृपया जाँच कर लें कि इस प्रश्न-पत्र में 34 प्रश्न हैं ।
- कृपया प्रश्न का उत्तर लिखना शुरू करने से पहले, उत्तर-पुस्तिका में प्रश्न का क्रमांक अवश्य लिखें ।
- इस प्रश्न-पत्र को पढ़ने के लिए 15 मिनट का समय दिया गया है । प्रश्न-पत्र का वितरण पूर्वाह्न में 10.15 बजे किया जाएगा । 10.15 बजे से 10.30 बजे तक छात्र केवल प्रश्न-पत्र को पढ़ेंगे और इस अवधि के दौरान वे उत्तर-पुस्तिका पर कोई उत्तर नहीं लिखेंगे ।
- Please check that this question paper contains 31 printed pages.
- Q.P. Code given on the right hand side of the question paper should be written on the title page of the answer-book by the candidate.
- Please check that this question paper contains 34 questions.
- Please write down the serial number of the question in the answer-book before attempting it.
- 15 minute time has been allotted to read this question paper. The question paper will be distributed at 10.15 a.m. From 10.15 a.m. to 10.30 a.m., the students will read the question paper only and will not write any answer on the answer-book during this period.



सामान्य निर्देश:

निम्नलिखित निर्देशों को बहुत सावधानी से पढ़िए और उनका सख्ती से पालन कीजिए :

- (i) इस प्रश्न-पत्र में 34 प्रश्न हैं। सभी प्रश्न अनिवार्य हैं।
- (ii) यह प्रश्न-पत्र दो खण्डों में विभाजित है :
खण्ड क - समष्टि अर्थशास्त्र
खण्ड ख - भारतीय आर्थिक विकास
- (iii) इस प्रश्न-पत्र में एक-एक अंक के 20 बहुविकल्पीय प्रश्न हैं।
- (iv) इस प्रश्न-पत्र में तीन-तीन अंकों के 4 लघु-उत्तरीय प्रकार-I के प्रश्न हैं जिनके उत्तर 60 से 80 शब्दों में लिखे जाने चाहिए।
- (v) इस प्रश्न-पत्र में चार-चार अंकों के 6 लघु-उत्तरीय प्रकार-II के प्रश्न हैं जिनके उत्तर 80 से 100 शब्दों में लिखे जाने चाहिए।
- (vi) इस प्रश्न-पत्र में छः-छः अंकों के 4 दीर्घ-उत्तरीय प्रकार के प्रश्न हैं जिनके उत्तर 100 से 150 शब्दों में लिखे जाने चाहिए।
- (vii) प्रत्येक प्रश्न के सभी भागों के उत्तर एक साथ लिखे जाने चाहिए।

खण्ड क समष्टि अर्थशास्त्र

1. निम्नलिखित कथनों को ध्यानपूर्वक पढ़िए :

कथन 1 : बचत फलन उपभोग फलन से व्युत्पन्न (derive) किया जा सकता है।

कथन 2 : उपभोग वक्र सदैव मूल बिन्दु से प्रारम्भ होना चाहिए।

दिए गए कथनों के आलोक में, निम्नलिखित में से सही विकल्प का चयन कीजिए :

1

- (a) कथन 1 सत्य है और कथन 2 असत्य है।
- (b) कथन 1 असत्य है और कथन 2 सत्य है।
- (c) कथन 1 और 2 दोनों सत्य हैं।
- (d) कथन 1 और 2 दोनों असत्य हैं।



General Instructions :

Read the following instructions carefully and strictly follow them :

- (i) This question paper contains **34** questions. **All** questions are **compulsory**.
- (ii) This question paper contains **two** Sections :
Section A – Macro Economics
Section B – Indian Economic Development
- (iii) This paper contains **20** Multiple Choice Questions Type questions of **1** mark each.
- (iv) This paper contains **4** Short Answer Questions Type-I questions of **3** marks each to be answered in 60 to 80 words.
- (v) This paper contains **6** Short Answer Questions Type-II questions of **4** marks each to be answered in 80 to 100 words.
- (vi) This paper contains **4** Long Answer Questions Type questions of **6** marks each to be answered in 100 to 150 words.
- (vii) Attempt all parts of a question together.

SECTION A
Macro Economics

1. Read the following statements carefully :

Statement 1 : Savings function can be derived from Consumption function.

Statement 2 : Consumption curve must always start from the point of origin.

In light of the given statements, choose the correct alternative from the following :

- (a) Statement 1 is true and Statement 2 is false.
- (b) Statement 1 is false and Statement 2 is true.
- (c) Both Statements 1 and 2 are true.
- (d) Both Statements 1 and 2 are false.



2. अन्य कारणों के अपरिवर्तित रहने पर, यदि अंतर्राष्ट्रीय बाज़ार में कच्चे तेल की कीमत गिरती है, तो यह _____ कर सकता है ।

(रिक्त स्थान भरने के लिए सही विकल्प का चयन कीजिए) 1

- (a) व्यापार घाटे में वृद्धि
- (b) व्यापार घाटे में कमी
- (c) व्यापार घाटे में कोई परिवर्तन नहीं
- (d) विदेशी मुद्रा भंडार में कोई परिवर्तन नहीं

3. पहचान करें कि, निम्नलिखित में से कौन-सा, भारतीय रिज़र्व बैंक का एक कार्य **नहीं** है ।

(सही विकल्प का चयन कीजिए) 1

- (a) मुद्रा आपूर्ति नियंत्रक
- (b) वाणिज्यिक बैंकों को ऋण प्रदाता
- (c) सरकार का वार्षिक बजट बनाने वाली मुख्य एजेंसी
- (d) करेंसी की निर्गतकर्ता / जारीकर्ता

4. निम्नलिखित कथनों को ध्यानपूर्वक पढ़िए :

कथन 1 : दुबई से स्वर्ण आयात, भारतीय भुगतान संतुलन के चालू खाते के डेबिट पक्ष में दर्ज किया जाएगा ।

कथन 2 : भारतीय शेयर बाज़ारों से विदेशी संस्थागत निवेश (FII) का बहिर्वाह (outflow) पूँजी खाते के क्रेडिट पक्ष में दर्ज किया जाएगा ।

दिए गए कथनों के आलोक में, निम्नलिखित में से सही विकल्प का चयन कीजिए : 1

- (a) कथन 1 सत्य है और कथन 2 असत्य है ।
- (b) कथन 1 असत्य है और कथन 2 सत्य है ।
- (c) कथन 1 और 2 दोनों सत्य हैं ।
- (d) कथन 1 और 2 दोनों असत्य हैं ।



2. Keeping other factors constant, if the price of crude oil falls in the international market, it may lead to _____.

(Choose the correct alternative to fill up the blank) 1

- (a) increase in trade deficit
- (b) decrease in trade deficit
- (c) no change in trade deficit
- (d) no change in the foreign exchange reserves

3. Identify, which of the following is **not** a function of the Reserve Bank of India. (Choose the correct alternative) 1

- (a) Controller of money supply
- (b) Credit provider to commercial banks
- (c) Central agency preparing the annual budget of the Government
- (d) Issuer of currency

4. Read the following statements carefully :

Statement 1 : Import of gold from Dubai will be recorded on the debit side of the current account in Balance of Payments of India.

Statement 2 : Outflow of Foreign Institutional Investment (FII) from Indian stock markets will be recorded on the credit side of the capital account.

In light of the given statements, choose the correct alternative from the following : 1

- (a) Statement 1 is true and Statement 2 is false.
- (b) Statement 1 is false and Statement 2 is true.
- (c) Both Statements 1 and 2 are true.
- (d) Both Statements 1 and 2 are false.



5. (i) निम्नलिखित कथनों को ध्यानपूर्वक पढ़िए :
- कथन 1 : स्टॉक चरों को समय के एक बिन्दु पर मापा जाता है ।
कथन 2 : प्रवाह चर व स्टॉक चर एक समान होते हैं ।
- दिए गए कथनों के आलोक में, निम्नलिखित में से सही विकल्प का चयन कीजिए : 1
- (a) कथन 1 सत्य है और कथन 2 असत्य है ।
(b) कथन 1 असत्य है और कथन 2 सत्य है ।
(c) कथन 1 और 2 दोनों सत्य हैं ।
(d) कथन 1 और 2 दोनों असत्य हैं ।

अथवा

- (ii) निम्नलिखित में से, प्रवाह चर की पहचान कीजिए : (सही विकल्प का चयन कीजिए) 1
- (a) दिल्ली व अमृतसर के मध्य की दूरी
(b) एक विद्यालय का वार्षिक व्यय
(c) 31 मार्च, 2022 को श्री मुकेश की बैंक में जमा धनराशि
(d) 31 दिसम्बर, 2021 को श्री मोहित के निवेश
6. (i) यदि एक अर्थव्यवस्था में, निवेश गुणक का मूल्य 5 तथा अबचत (-)100 करोड़ है, तो ₹ 1,400 करोड़ के आय स्तर पर प्रासंगिक बचत ₹ _____ करोड़ होगी ।
(रिक्त स्थान भरने के लिए सही विकल्प का चयन कीजिए) 1
- (a) 80 (b) 180
(c) 140 (d) 240

अथवा

- (ii) निवेश गुणक का मूल्य सदैव _____ से _____ के मध्य रहता है ।
(रिक्त स्थानों को भरने के लिए सही विकल्प का चयन कीजिए) 1
- (a) शून्य (0), अनंत (∞)
(b) इकाई (+ 1), अनंत (∞)
(c) शून्य (0), इकाई (+ 1)
(d) ऋणात्मक इकाई (- 1), इकाई (+ 1)



5. (i) Read the following statements carefully :

Statement 1 : Stock variables are measured at a point of time.

Statement 2 : Flow variables and stock variables are same.

In light of the given statements, choose the correct alternative from the following :

1

- (a) Statement 1 is true and Statement 2 is false.
- (b) Statement 1 is false and Statement 2 is true.
- (c) Both Statements 1 and 2 are true.
- (d) Both Statements 1 and 2 are false.

OR

(ii) Identify, flow variable from the following :

(Choose the correct alternative) 1

- (a) Distance between Delhi and Amritsar
- (b) Annual expenditure of a school
- (c) Bank balance of Mr. Mukesh as on 31st March, 2022
- (d) Investments of Mr. Mohit as on 31st December, 2021

6. (i) If in an economy, the value of Investment Multiplier is 5 and dissavings are (-)100 crore, the relevant savings at income level of ₹ 1,400 crore would be ₹ _____ crore.

(Choose the correct alternative to fill up the blank) 1

- (a) 80
- (b) 180
- (c) 140
- (d) 240

OR

(ii) The range of value of Investment Multiplier is always between _____ and _____. (Choose the correct alternative to fill up the blanks) 1

- (a) zero (0), infinity (∞)
- (b) one (+ 1), infinity (∞)
- (c) zero (0), one (+ 1)
- (d) minus one (- 1), plus one (+ 1)



7. यदि केन्द्रीय बैंक, अर्थव्यवस्था में मुद्रा आपूर्ति को कम करना चाहता है, तो वह _____ कर सकता है। (रिक्त स्थान भरने के लिए सही विकल्प का चयन कीजिए) 1

- (i) बैंक दर में वृद्धि
- (ii) नकद आरक्षित अनुपात में कमी
- (iii) खुले बाज़ार में प्रतिभूतियों का विक्रय
- (iv) खुले बाज़ार में प्रतिभूतियों का क्रय

विकल्प :

- (a) (i) व (iii) (b) (ii), (iii) व (iv)
- (c) (i), (iii) व (iv) (d) (i), (ii), (iii) व (iv)

8. (क) पहचान करें कि, निम्नलिखित में से कौन-सा, भारत के लिए विदेशी मुद्रा का स्रोत नहीं है। (सही विकल्प का चयन कीजिए) 1

- (a) विदेशों को वस्तुओं व सेवाओं का निर्यात
- (b) विदेशों से भारतीय मज़दूरों द्वारा प्रेषण
- (c) विदेशों से वस्तुओं व सेवाओं का आयात
- (d) जर्मन ऑटोमोबाइल निर्माता द्वारा प्रत्यक्ष विदेशी निवेश (FDI)

अथवा

(ख) कॉलम I व II में दी गई मदों को ध्यानपूर्वक पढ़िए तथा दिए गए विकल्पों में से सही युग्म का चयन कीजिए : 1

	कॉलम I		कॉलम II
i.	भारतीय कम्पनी द्वारा सॉफ्टवेयर का निर्यात	1.	विदेशी मुद्रा की माँग
ii.	लेनदेन की समायोजन प्रकृति	2.	लाभ उद्देश्य
iii.	लेनदेन की स्वायत्त प्रकृति	3.	गैर-लाभ उद्देश्य
iv.	श्रीलंका को आर्थिक संकट में दिया गया ऋण	4.	विदेशी मुद्रा की आपूर्ति

विकल्प :

- (a) i – 1 (b) ii – 2
- (c) iii – 3 (d) iv – 4



7. If the central bank wants to reduce money supply in the economy, it may _____ . (Choose the correct alternative to fill up the blank) 1

- (i) increase Bank Rate
- (ii) reduce Cash Reserve Ratio
- (iii) sell securities in the open market
- (iv) buy securities in the open market

Alternatives :

- (a) (i) and (iii) (b) (ii), (iii) and (iv)
- (c) (i), (iii) and (iv) (d) (i), (ii), (iii) and (iv)

8. (A) Identify, which of the following is **not** a source of supply of foreign exchange for India. (Choose the correct alternative) 1

- (a) Exports of goods and services abroad
- (b) Remittances by Indian workers working abroad
- (c) Imports of goods and services from abroad
- (d) Foreign Direct Investment (FDI) by a German automobile manufacturer

OR

(B) Read the items given in Columns I and II carefully and choose the correct pair of statements from the given alternatives. 1

	<i>Column I</i>		<i>Column II</i>
i.	Export of software by an Indian company	1.	Demand of foreign currency
ii.	Accommodating nature of transactions	2.	Profit motive
iii.	Autonomous nature of transactions	3.	Non-Profit motive
iv.	Loan forwarded to Sri Lanka during its economic crisis	4.	Supply of foreign exchange

Alternatives :

- (a) i – 1 (b) ii – 2
- (c) iii – 3 (d) iv – 4



9. निम्नलिखित कथनों को पढ़िए : अभिकथन (A) और कारण (R) । नीचे दिए गए विकल्पों में से एक सही विकल्प चुनिए :

1

अभिकथन (A) : प्रत्याशित बचत व प्रत्याशित निवेश कभी भी एक-दूसरे के बराबर नहीं होते ।

कारण (R) : आय के संतुलन स्तर पर, हो सकता है समग्र माँग, समग्र पूर्ति के बराबर नहीं है ।

विकल्प :

- (a) अभिकथन (A) और कारण (R) दोनों सत्य हैं और कारण (R), अभिकथन (A) की सही व्याख्या करता है ।
- (b) अभिकथन (A) और कारण (R) दोनों सत्य हैं, लेकिन कारण (R), अभिकथन (A) की सही व्याख्या **नहीं** करता है ।
- (c) अभिकथन (A) सत्य है, लेकिन कारण (R) असत्य है ।
- (d) अभिकथन (A) असत्य है, लेकिन कारण (R) सत्य है ।

10. निम्नलिखित कथनों को पढ़िए : अभिकथन (A) और कारण (R) । नीचे दिए गए विकल्पों में से एक सही विकल्प चुनिए :

1

अभिकथन (A) : औसत उपभोग प्रवृत्ति (APC) का मूल्य कभी भी शून्य अथवा ऋणात्मक नहीं हो सकता है ।

कारण (R) : औसत उपभोग प्रवृत्ति (APC) आय के स्तर से स्वतंत्र होती है ।

विकल्प :

- (a) अभिकथन (A) और कारण (R) दोनों सत्य हैं और कारण (R), अभिकथन (A) की सही व्याख्या करता है ।
- (b) अभिकथन (A) और कारण (R) दोनों सत्य हैं, लेकिन कारण (R), अभिकथन (A) की सही व्याख्या **नहीं** करता है ।
- (c) अभिकथन (A) सत्य है, लेकिन कारण (R) असत्य है ।
- (d) अभिकथन (A) असत्य है, लेकिन कारण (R) सत्य है ।



-
9. Read the following statements : Assertion (A) and Reason (R). Choose the correct alternative from those given below. 1

Assertion (A) : Ex-ante savings and Ex-ante investments are never equal to each other.

Reason (R) : At equilibrium level of income, aggregate demand may not be equal to the aggregate supply.

Alternatives :

- (a) Both Assertion (A) and Reason (R) are true and Reason (R) is the correct explanation of the Assertion (A).
 - (b) Both Assertion (A) and Reason (R) are true, but Reason (R) is **not** the correct explanation of the Assertion (A).
 - (c) Assertion (A) is true, but Reason (R) is false.
 - (d) Assertion (A) is false, but Reason (R) is true.
10. Read the following statements : Assertion (A) and Reason (R). Choose the correct alternative from those given below. 1

Assertion (A) : The value of Average Propensity to Consume (APC) can never be zero or negative.

Reason (R) : Average Propensity to Consume (APC) is independent of the level of income.

Alternatives :

- (a) Both Assertion (A) and Reason (R) are true and Reason (R) is the correct explanation of the Assertion (A).
- (b) Both Assertion (A) and Reason (R) are true, but Reason (R) is **not** the correct explanation of the Assertion (A).
- (c) Assertion (A) is true, but Reason (R) is false.
- (d) Assertion (A) is false, but Reason (R) is true.



11. (क) 'उत्पाद के मूल्य' व 'मूल्य वृद्धि' में विभेद कीजिए । 3
 अथवा
 (ख) निम्नलिखित कथन की पुष्टि कीजिए : 3
 "प्रत्याशित अप्रचलन के कारण किसी संपत्ति के मूल्य में कमी, मूल्यहास होता है ।"
12. नम्य विनिमय दर प्रणाली के अंतर्गत विनिमय दर के निर्धारण की संक्षेप में विवेचना कीजिए । 3
13. मान लीजिए कि एक काल्पनिक अर्थव्यवस्था के बारे में निम्नलिखित सूचना उपलब्ध है :
 $C = 100 + 0.75 Y$ (जहाँ $C =$ उपभोग व $Y =$ आय)
 $I_0 = 200$ ($I_0 =$ स्वायत्त निवेश)
 दी गई सूचना के आधार पर निम्नलिखित की गणना कीजिए :
 (a) आय का संतुलन स्तर 2
 (b) आय के संतुलन स्तर पर समग्र माँग 1
 (c) सीमांत बचत प्रवृत्ति 1
14. (क) निम्नलिखित सूचना का ध्यानपूर्वक अध्ययन कीजिए :
 "भारतीय रिज़र्व बैंक की मौद्रिक नीति समिति (MPC) ने हाल ही में रेपो दर में 50 आधार अंकों की वृद्धि की है । वर्तमान में यह दर 5.40% है, जबकि रिवर्स रेपो दर को 3.35% पर अपरिवर्तित रखा गया है ।"
 निम्नलिखित प्रश्नों के उत्तर दीजिए :
 (i) उपर्युक्त गद्य में उल्लिखित दो मौद्रिक नीति उपायों की प्रकृति की पहचान कीजिए । 1
 (ii) मौद्रिक नीति समिति द्वारा रेपो दर में वृद्धि के पीछे के संभावित आर्थिक तर्क की विवेचना कीजिए । 3
 अथवा
 (ख) मान लीजिए कि एक काल्पनिक अर्थव्यवस्था में अल्पावधि में न्यून माँग की स्थिति विद्यमान है ।
 अर्थव्यवस्था पर इसके संभावित प्रभावों की संक्षिप्त विवेचना कीजिए । 4



11. (a) Differentiate between 'Value of Output' and 'Value Added'. 3

OR

(b) Justify the following statement :
"Depreciation is a fall in the value of an asset due to expected obsolescence." 3

12. Discuss briefly the determination of exchange rate under the flexible exchange rate system. 3

13. Suppose the following information is given about a hypothetical economy :

$$C = 100 + 0.75 Y \quad (\text{where, } C = \text{Consumption and } Y = \text{Income})$$

$$I_0 = 200 \quad (I_0 = \text{Autonomous Investment})$$

Calculate the following on the basis of the given information :

(a) Equilibrium Level of Income 2

(b) Aggregate Demand at Equilibrium Level of Income 1

(c) Marginal Propensity to Save 1

14. (a) Read the following information carefully :

"The Monetary Policy Committee (MPC) of the Reserve Bank of India (RBI), recently increased the Repo Rate by 50 basis points. The Rate stands today at 5.40%, whereas Reverse Repo Rate was left unchanged at 3.35%."

Answer the following questions :

(i) Identify the nature of the two monetary policy measures mentioned in the above text. 1

(ii) Elaborate the likely economic rationale behind the increase in Repo Rate by the Monetary Policy Committee. 3

OR

(b) Suppose an imaginary economy is facing a situation of deficient demand in the short run time period.

Discuss briefly, the probable impacts of the same on the economy. 4



15. उपयुक्त संख्यात्मक उदाहरण का प्रयोग करते हुए, एक काल्पनिक अर्थव्यवस्था में, बैंकिंग प्रणाली की साख निर्माण प्रक्रिया की व्याख्या कीजिए । 4

16. (क) (i) दो मित्र, दीपक व कृष, हाल ही में सरकार द्वारा ऐश्वर्य (विलासी) वस्तुओं पर GST दरों में वृद्धि के प्रभाव पर चर्चा कर रहे थे । कृष का विचार था कि अधिकांश ऐश्वर्य की वस्तुओं (जैसे कि विदेशी भ्रमण, आयातित सिगरेट, आदि) पर अत्यधिक कर लगाया जाना चाहिए जबकि गरीब और मध्यम वर्ग से संबंधित दैनिक उपभोग की वस्तुएँ कर-मुक्त हों ।

कृष सरकारी बजट के जिस उद्देश्य के बारे में सुझाव दे रहे हैं, उसकी पहचान व व्याख्या कीजिए । 4

(ii) सरकार की किन्हीं दो गैर-कर प्राप्तियों के उदाहरण दीजिए । 2

अथवा

(ख) (i) “हाल के दिनों में, भारत सरकार ने ‘मेक-इन-इंडिया’ कार्यक्रम के अंतर्गत स्वदेशी रक्षा वस्तुओं के अधिग्रहण पर अत्यधिक व्यय किया है ।”

उपर्युक्त कथन के अनुसार, सरकार द्वारा किए जाने वाले किन्हीं दो बजट व्ययों की पहचान व चर्चा कीजिए । 4

(ii) सरकारी बजट के अंतर्गत ‘राजकोषीय घाटे’ का अर्थ बताइए । 2

17. निम्नलिखित गद्य को ध्यानपूर्वक पढ़िए :

कोविड-19 के उपरांत भारत में, निजी अंतिम उपभोग व्यय (PFCE) द्वारा मापा गया घरेलू व निजी क्षेत्र का उपभोग (मौद्रिक रूप में), ₹ 39.7 ट्रिलियन (FY23, Q1) था जो कि गत वर्ष उसी अवधि में ₹ 28.4 ट्रिलियन था । वर्ष 2021 – 22 (FY22) की चौथी तिमाही (Q4) में यह व्यय ₹ 39.2 ट्रिलियन था ।

मौद्रिक GDP के प्रतिशत के रूप में वित्तीय वर्ष 2022 की पहली तिमाही (Q1 FY22) की 55.5% के मुकाबले PFCE 61.1% था । हालाँकि वास्तविक रूप में स्थिर कीमतों पर, कोविड-19 से एक वर्ष पूर्व, 2019 – 20 के Q1 की तुलना में PFCE में मात्र 9.88% की वृद्धि दर्ज हुई थी ।



15. Using a suitable numerical example, explain the credit creation process of the banking system, in a hypothetical economy. 4

16. (a) (i) Two friends, Deepak and Krish were discussing the impact of increase in GST rates on luxury items, as recently undertaken by the Government. Krish was of the view that most of the luxury items (like foreign travel, imported cigarettes, etc.) should be taxed exorbitantly, while the items related to daily consumption of poor and middle class should be tax-free. Identify and explain the objective of the Government budget Krish is suggesting. 4

(ii) State any two examples of non-tax receipts of the Government. 2

OR

(b) (i) “In the recent times, the Government of India has incurred a lot of expenditure on acquisition of indigenous defence items under ‘Make-in-India’ programme.”
Identify and discuss the two types of budget expenditures which may be undertaken by the Government as suggested in the above statement. 4

(ii) State the meaning of ‘fiscal deficit’ under the Government Budget. 2

17. Read the following text carefully :

In India, after Covid-19 period, household and private sector consumption, as measured by Private Final Consumption Expenditure (PFCE), was ₹ 39.7 trillion in nominal terms in Q1 FY23, compared with ₹ 28.4 trillion for the same period last year, and ₹ 39.2 trillion in the fourth quarter (Q4) of 2021 – 22 (FY22).

As a percentage of Nominal GDP, PFCE was 61.1 per cent, compared with 55.5 per cent in Q1 FY22. However, in real terms at constant prices, PFCE grew just 9.88 per cent, compared with Q1 of 2019 – 20 — the year before the Covid-19 pandemic.



श्री डी.के. श्रीवास्तव ने बताया कि, “घरेलू माँग में सुधार PFCE व GFCE (सकल स्थायी पूँजी निर्माण) की वृद्धि दर (गत वर्ष की संगत तिमाही की तुलना में) से परिलक्षित होता है।” GFCE वित्तीय वर्ष 2022 की पहली तिमाही (Q1 FY22) के ₹ 14.4 ट्रिलियन की तुलना में वित्तीय वर्ष 2023 की पहली तिमाही (Q1 FY23) में ₹ 19 ट्रिलियन पर पहुँच गया है। हालाँकि यह वित्तीय वर्ष 2022 की चौथी तिमाही (Q4 FY22) के ₹ 20.2 ट्रिलियन की तुलना में थोड़ा सा कम है।

GDP आँकड़ों के पश्चात् एक मीडिया ब्रीफिंग में, वित्त सचिव टी.वी. सोमनाथन ने कहा कि यह प्रवृत्ति अपेक्षित थी क्योंकि वर्तमान Q1 में GFCE गत वर्ष के Q4 के बनिस्पत सामान्यतः कम होती थी।

दिए गए गद्य व सामान्य समझ के आधार पर निम्नलिखित प्रश्नों के उत्तर दीजिए :

- (क) वास्तविक व मौद्रिक GDP के प्रतिशत के रूप में PFCE के रुझानों में परिवर्तन की तुलना व विश्लेषण कीजिए। 4
- (ख) “बाज़ार मूल्य पर सकल घरेलू उत्पाद का निर्धारण करने में निजी अंतिम उपभोग व्यय एक महत्वपूर्ण कारक है।” दिए गए कथन की पुष्टि कीजिए। 2

खण्ड ख

भारतीय आर्थिक विकास

18. निम्नलिखित कथनों को पढ़िए : अभिकथन (A) और कारण (R)। नीचे दिए गए विकल्पों में से एक सही विकल्प चुनिए : 1

अभिकथन (A) : स्वतंत्रता उपरांत, द्वितीयक क्षेत्र में भारी निवेश की आवश्यकता के कारण सार्वजनिक क्षेत्र को प्रमुख भूमिका दी गई थी।

कारण (R) : औद्योगिक क्षेत्र किसी भी अर्थव्यवस्था की रीढ़ की हड्डी है।

विकल्प :

- (a) अभिकथन (A) और कारण (R) दोनों सत्य हैं और कारण (R), अभिकथन (A) की सही व्याख्या करता है।
- (b) अभिकथन (A) और कारण (R) दोनों सत्य हैं, लेकिन कारण (R), अभिकथन (A) की सही व्याख्या **नहीं** करता है।
- (c) अभिकथन (A) सत्य है, लेकिन कारण (R) असत्य है।
- (d) अभिकथन (A) असत्य है, लेकिन कारण (R) सत्य है।



“Recovery in domestic demand is reflected in the growth rates of PFCE and Gross Fixed Capital Formation (GFCF) over the corresponding quarter of the previous year,” said D.K. Srivastava. GFCF came in at ₹ 19 trillion in Q1 FY23, compared with ₹ 14.4 trillion in Q1 FY22. However, it was slightly lower than ₹ 20.2 trillion in Q4 FY22.

In the media briefing after the GDP numbers, Finance Secretary T.V. Somanathan said this trend was expected as GFCF in present Q1 was usually lower than the previous year’s Q4.

On the basis of the given text and common understanding, answer the following questions :

- (a) Compare and analyse the trends of change in PFCE as a percentage of GDP, both in real and nominal terms. 4
- (b) “Private Final Consumption Expenditure is an important factor determining Gross Domestic Product at Market Price.” Justify the given statement. 2

SECTION B

Indian Economic Development

18. Read the following statements : Assertion (A) and Reason (R). Choose the correct alternative from those given below. 1

Assertion (A) : Post independence, public sector was given a prominent role, due to requirement of huge investments in the secondary sector.

Reason (R) : Industrial sector is the backbone of any economy.

Alternatives :

- (a) Both Assertion (A) and Reason (R) are true and Reason (R) is the correct explanation of the Assertion (A).
- (b) Both Assertion (A) and Reason (R) are true, but Reason (R) is **not** the correct explanation of the Assertion (A).
- (c) Assertion (A) is true, but Reason (R) is false.
- (d) Assertion (A) is false, but Reason (R) is true.



19. (क) निम्नलिखित विकल्पों में से, NITI आयोग में 'NITI' के सही पूर्ण रूप की पहचान कीजिए :

1

- (a) National Institution for Tribal India
- (b) National Institution for Technical India
- (c) National Institution for Transforming India
- (d) National Institution for Training India

अथवा

(ख) _____ अर्थव्यवस्था में, संसाधनों का स्वामित्व व संचालन, सार्वजनिक व निजी दोनों क्षेत्रों द्वारा किया जाता है ।

(रिक्त स्थान भरने के लिए सही विकल्प का चयन कीजिए) 1

- (a) समाजवादी
- (b) पूँजीवादी
- (c) जनतांत्रिक
- (d) मिश्रित

20. (क) निम्नलिखित कथन के संदर्भ में सही विकल्प की पहचान कीजिए :

1

“1966 – 76 के मध्य, माओ ने इस आंदोलन का आरम्भ किया था, जिसके अंतर्गत छात्रों व पेशेवरों को कार्य करने के लिए चीन के ग्रामीण इलाकों में प्रचलित वास्तविक जीवन स्थितियों से सीखने के लिए कहा गया था ।”

- (a) कम्यून प्रणाली
- (b) ग्रेट लीप फॉरवर्ड
- (c) खुले द्वार की नीति
- (d) महान सर्वहारा सांस्कृतिक क्रांति

अथवा

(ख) निम्नलिखित कथनों को ध्यानपूर्वक पढ़िए :

कथन 1 : कृषि क्षेत्र में, कम्यूनों की स्थापना की गई, जहाँ भूमि जोतों का स्वामित्व व्यक्तिगत गृहस्थों को आबंटित किया गया था ।

कथन 2 : विशेष आर्थिक क्षेत्र (SEZ), विदेशी निवेश व प्रौद्योगिकी को आकर्षित करने के लिए स्थापित किए गए थे ।

दिए गए कथनों के आलोक में, निम्नलिखित में से सही विकल्प का चयन कीजिए : 1

- (a) कथन 1 सत्य है और कथन 2 असत्य है ।
- (b) कथन 1 असत्य है और कथन 2 सत्य है ।
- (c) कथन 1 और 2 दोनों सत्य हैं ।
- (d) कथन 1 और 2 दोनों असत्य हैं ।



19. (A) From the following alternatives, identify the correct full form of 'NITI' in NITI Aayog :

1

- (a) National Institution for Tribal India
- (b) National Institution for Technical India
- (c) National Institution for Transforming India
- (d) National Institution for Training India

OR

(B) In a _____ economy, resources are owned and operated by both public and private sectors.

(Choose the correct alternative to fill up the blank)

1

- (a) Socialist
- (b) Capitalist
- (c) Democratic
- (d) Mixed

20. (A) Identify the correct alternative with reference to the following statement :

1

“Between 1966 – 76, Mao introduced this movement under which professionals and students were asked to work and learn from real life situations prevailing in the countryside of China.”

- (a) Commune System
- (b) Great Leap Forward
- (c) Open Door Policy
- (d) Great Proletarian Cultural Revolution

OR

(B) Read the following statements carefully :

Statement 1 : In the agricultural sector, communes were established, where land holdings were allocated to individual households for ownership.

Statement 2 : Special Economic Zones (SEZs) were established to attract foreign investments and technology.

In light of the given statements, choose the correct alternative from the following :

1

- (a) Statement 1 is true and Statement 2 is false.
- (b) Statement 1 is false and Statement 2 is true.
- (c) Both Statements 1 and 2 are true.
- (d) Both Statements 1 and 2 are false.



21. (क) अतिलघु साख कार्यक्रम ग्रामीण अर्थव्यवस्था के समग्र विकास को सुनिश्चित करने में महत्त्वपूर्ण भूमिका निभाते हैं, क्योंकि वे _____ ।

(रिक्त स्थान भरने के लिए सही विकल्प का चयन कीजिए) 1

- (i) वित्तीय सहायता प्रदान करते हैं
- (ii) महिला सशक्तिकरण प्रदत्त करते हैं
- (iii) औपचारिक साख (ऋण) प्रणाली की पहुँच में वृद्धि करते हैं

विकल्प :

- (a) केवल (i) व (ii)
- (b) केवल (ii) व (iii)
- (c) केवल (i) व (iii)
- (d) (i), (ii) व (iii)

अथवा

(ख) _____ क्रांति ने ग्रामीण साख प्रणाली में बहुत बड़े परिवर्तन का सूत्रपात किया था, क्योंकि इसने ग्रामीण विकास के विभिन्न घटकों को उत्पादक ऋणों की ओर उन्मुख कर विविधता प्रदान की थी ।

(रिक्त स्थान भरने के लिए सही विकल्प का चयन कीजिए) 1

- (a) श्वेत
- (b) रजत
- (c) नीली
- (d) हरित

22. “पाकिस्तान में आर्थिक मंदी व निर्धनता के पुनः आगमन के कई कारण बताए जा सकते हैं ।”

पहचानिए कि, निम्नलिखित में से कौन-सा उनमें से एक **नहीं** हो सकता । 1

- (i) विदेशी ऋणों पर बढ़ती निर्भरता
- (ii) स्थिर व्यापक (समष्टि) आर्थिक संकेतक
- (iii) अस्थिर कृषि विकास

विकल्प :

- (a) (i), (ii) व (iii)
- (b) (ii) व (iii)
- (c) (i) व (iii)
- (d) केवल (ii)



21. (A) Micro credit programmes play a vital role in ensuring an overall development of the rural economy as they _____.

(Choose the correct alternative to fill up the blank) 1

- (i) provide financial support
- (ii) lead to women empowerment
- (iii) enhance the reach of formal credit system

Alternatives :

- (a) Only (i) and (ii)
- (b) Only (ii) and (iii)
- (c) Only (i) and (iii)
- (d) (i), (ii) and (iii)

OR

(B) _____ revolution was the harbinger of major changes in the credit system as it led to diversification of the portfolio of rural credit towards production-oriented lending.

(Choose the correct alternative to fill up the blank) 1

- (a) White
- (b) Silver
- (c) Blue
- (d) Green

22. “Multiple reasons for economic slowdown and re-emergence of poverty in Pakistan may be enumerated.”

Identify which of the following might **not** be one of them.

1

- (i) Rising dependence on foreign loans
- (ii) Stable macroeconomic indicators
- (iii) Unstable agricultural growth

Alternatives :

- (a) (i), (ii) and (iii)
- (b) (ii) and (iii)
- (c) (i) and (iii)
- (d) Only (ii)



23. पहचानिए कि, निम्नलिखित में से कौन-सा मानव पूँजी निर्माण व आर्थिक विकास के मध्य प्रत्यक्ष संबंध स्थापित *नहीं* करता है ।

1

- (a) एक अशिक्षित व्यक्ति की तुलना में एक शिक्षित व्यक्ति की रोज़गार क्षमता अधिक होती है ।
- (b) नौकरी पर प्रशिक्षण एक मज़दूर के कौशल में कमी करेगा ।
- (c) स्वस्थ कार्यबल अर्थव्यवस्था के लिए वरदान है ।
- (d) डिजिटल सूचना वास्तविक समयावधि में निर्णय लेने में सहायक होती है ।

24. निम्नलिखित कथन को पढ़िए : अभिकथन (A) और कारण (R) । नीचे दिए गए विकल्पों में से एक सही विकल्प चुनिए :

1

अभिकथन (A) : निम्न बाल मृत्यु दर लैंगिक समानता का एक बेहतर संकेतक है ।

कारण (R) : भारत, पाकिस्तान व चीन में बालक (male child) के लिए प्राथमिकता विद्यमान है ।

विकल्प :

- (a) अभिकथन (A) और कारण (R) दोनों सत्य हैं और कारण (R), अभिकथन (A) की सही व्याख्या करता है ।
- (b) अभिकथन (A) और कारण (R) दोनों सत्य हैं, लेकिन कारण (R), अभिकथन (A) की सही व्याख्या *नहीं* करता है ।
- (c) अभिकथन (A) सत्य है, लेकिन कारण (R) असत्य है ।
- (d) अभिकथन (A) असत्य है, लेकिन कारण (R) सत्य है ।



23. Identify which of the following does **not** reflect a direct relationship between human capital formation and economic growth. 1

- (a) Employability of an educated person is higher than that of an uneducated person.
- (b) On-the-job training will reduce the skills of labour.
- (c) Healthy workforce is a boon to the economy.
- (d) Digital information helps in taking real time decisions.

24. Read the following statements : Assertion (A) and Reason (R). Choose the correct alternative from those given below. 1

Assertion (A) : Lower child mortality rate is a better indicator of gender equality.

Reason (R) : Preference for a male child exists in India, Pakistan and China.

Alternatives :

- (a) Both Assertion (A) and Reason (R) are true and Reason (R) is the correct explanation of the Assertion (A).
- (b) Both Assertion (A) and Reason (R) are true, but Reason (R) is **not** the correct explanation of the Assertion (A).
- (c) Assertion (A) is true, but Reason (R) is false.
- (d) Assertion (A) is false, but Reason (R) is true.



25. (क) _____ ने क्लोरोफ्लुओरोकार्बन (CFC) यौगिकों व अन्य ओज़ोन क्षयकारी रसायनों के उपयोग पर प्रतिबंध लगाने के संकल्प को अपनाया ।

(रिक्त स्थान भरने के लिए सही विकल्प का चयन कीजिए) 1

- (a) क्योटो प्रोटोकॉल
- (b) पेरिस प्रोटोकॉल
- (c) मॉन्ट्रियल प्रोटोकॉल
- (d) ब्रंटलैंड आयोग की रिपोर्ट

अथवा

(ख) हरमन डेली (पर्यावरणीय अर्थशास्त्री) के अनुसार, निम्नलिखित में से कौन-सा सतत विकास प्राप्त करने की दिशा में एक आवश्यक कदम **नहीं** है ? 1

- (a) मानव जनसंख्या को पर्यावरण की धारण क्षमता तक सीमित करना
- (b) आगत अनिपुण तकनीकी प्रगति
- (c) नवीकरणीय संसाधनों के निष्कर्षण की दर पुनर्जनन की दर से अधिक न हो
- (d) प्रदूषण के कारण उत्पन्न अक्षमताओं में सुधार

26. निम्नलिखित कथनों को पढ़िए : अभिकथन (A) और कारण (R) । नीचे दिए गए विकल्पों में से एक सही विकल्प चुनिए : 1

अभिकथन (A) : सरकार विशेष निर्धनता उन्मूलन कार्यक्रमों के माध्यम से बेरोज़गारी को कम करने का प्रयास कर सकती है ।

कारण (R) : ये निर्धनता उन्मूलन कार्यक्रम प्रत्यक्ष या परोक्ष रूप से रोज़गार सृजन करते हैं ।

विकल्प :

- (a) अभिकथन (A) और कारण (R) दोनों सत्य हैं और कारण (R), अभिकथन (A) की सही व्याख्या करता है ।
- (b) अभिकथन (A) और कारण (R) दोनों सत्य हैं, लेकिन कारण (R), अभिकथन (A) की सही व्याख्या **नहीं** करता है ।
- (c) अभिकथन (A) सत्य है, लेकिन कारण (R) असत्य है ।
- (d) अभिकथन (A) असत्य है, लेकिन कारण (R) सत्य है ।



25. (A) _____ adopted the resolution to ban the use of Chlorofluorocarbon (CFC) compounds along with other ozone depleting chemicals.

(Choose the correct alternative to fill up the blank) 1

- (a) Kyoto Protocol
- (b) Paris Protocol
- (c) Montreal Protocol
- (d) Brundtland Commission Report

OR

(B) According to Herman Daly (an environmental economist), which of the following is **not** an essential step towards achieving sustainable development ? 1

- (a) Limiting human population to carrying capacity of the environment
- (b) Input inefficient technological progress
- (c) Rate of extraction of renewable resources should not exceed rate of regeneration
- (d) Correction of inefficiencies arising from pollution

26. Read the following statements : Assertion (A) and Reason (R). Choose the correct alternative from those given below. 1

Assertion (A) : Government can try to reduce unemployment through special poverty removal programmes.

Reason (R) : Such poverty removal programmes directly or indirectly lead to employment generation.

Alternatives :

- (a) Both Assertion (A) and Reason (R) are true and Reason (R) is the correct explanation of the Assertion (A).
- (b) Both Assertion (A) and Reason (R) are true, but Reason (R) is **not** the correct explanation of the Assertion (A).
- (c) Assertion (A) is true, but Reason (R) is false.
- (d) Assertion (A) is false, but Reason (R) is true.



27. निम्नलिखित कथनों को ध्यानपूर्वक पढ़िए :

कथन 1 : चीनी अधिकारियों द्वारा जनसंख्या नियंत्रण करने में 'एकल संतान नीति' का उपयोग अत्यंत प्रभावी ढंग से किया गया था ।

कथन 2 : आर्थिक विद्वानों के अनुसार, एकल संतान नीति द्वारा लिंग अनुपात (प्रत्येक एक हजार पुरुषों में महिलाओं का अनुपात) में गिरावट आयी थी ।

दिए गए कथनों के आलोक में, निम्नलिखित में से सही विकल्प का चयन कीजिए :

1

- (a) कथन 1 सत्य है और कथन 2 असत्य है ।
(b) कथन 1 असत्य है और कथन 2 सत्य है ।
(c) कथन 1 और 2 दोनों सत्य हैं ।
(d) कथन 1 और 2 दोनों असत्य हैं ।

28. (क) श्रमिक-जनसंख्या अनुपात को परिभाषित कीजिए तथा इसका महत्त्व बताइए ।

3

अथवा

(ख) 'मानव पूँजी' व 'मानव विकास' में विभेद कीजिए ।

3

29. व्याख्या कीजिए कि किस प्रकार एक संरचित 'कृषि विपणन प्रणाली' किसानों की आय वृद्धि में सहायक होती है ।

3

30. निम्नलिखित तालिका को ध्यानपूर्वक पढ़िए :

विभिन्न क्षेत्रों में उत्पादन वृद्धि की प्रवृत्तियाँ, 1980 – 2015

देश	1980 – 90			2011 – 2015		
	कृषि	उद्योग	सेवा	कृषि	उद्योग	सेवा
भारत	3.1	7.4	6.9	2.3	5	8.4
चीन	5.9	10.8	13.5	4.1	8.1	8.4
पाकिस्तान	4	7.7	6.8	2.7	3.4	4.4

दिए गए वर्षों के दौरान, भारत व चीन में तीनों क्षेत्रों में उत्पादन वृद्धि की प्रवृत्ति (trend) का विश्लेषण कीजिए ।

4

31. (क) "कई अर्थशास्त्री यह मानते हैं कि 1991 की आर्थिक सुधार प्रक्रिया ने कृषि क्षेत्र पर प्रतिकूल प्रभाव डाला है ।" क्या आप दिए गए कथन से सहमत हैं ? अपने उत्तर के पक्ष में मान्य तर्क प्रस्तुत कीजिए ।

4

अथवा

(ख) (i) ब्रिटिश शासन काल की औद्योगिक नीति की किन्हीं दो कमियों की व्याख्या कीजिए ।

2

(ii) भारतीय पंचवर्षीय योजना प्रक्रिया के चार उद्देश्यों का नाम लिखिए ।

2



27. Read the following statements carefully :
- Statement 1* : ‘One-child policy’ was very effectively used in controlling the population by the Chinese authorities.
- Statement 2* : One-child policy, according to scholars, led to a decline in gender ratio (the proportion of females per 1000 males).
- In light of the given statements, choose the correct alternative from the following : 1
- (a) Statement 1 is true and Statement 2 is false.
- (b) Statement 1 is false and Statement 2 is true.
- (c) Both Statements 1 and 2 are true.
- (d) Both Statements 1 and 2 are false.

28. (a) Define worker-population ratio and give its significance. 3

OR

- (b) Distinguish between ‘Human Capital’ and ‘Human Development’. 3

29. Elaborate how a well-structured ‘Agricultural Marketing System’ helps the farmers to increase their income. 3

30. Read the following schedule carefully :

Trends in Output Growth in Different Sectors, 1980 – 2015

Country	1980 – 90			2011 – 2015		
	Agriculture	Industry	Service	Agriculture	Industry	Service
India	3·1	7·4	6·9	2·3	5	8·4
China	5·9	10·8	13·5	4·1	8·1	8·4
Pakistan	4	7·7	6·8	2·7	3·4	4·4

Analyse the output growth trend in the three sectors over the given years between India and China. 4

31. (a) “Many economists believe that the economic reforms process of 1991 had adversely affected the agricultural sector.” Do you agree with the given statement ? Quote valid arguments in favour of your answer. 4

OR

- (b) (i) Explain any two shortfalls of the industrial policy under the British rule. 2
- (ii) Quote the four goals of the five year plans process of India. 2



32. मान्य तर्कों द्वारा उल्लेख कीजिए कि निम्नलिखित कथन सत्य हैं अथवा असत्य :
- (क) गृहिणी के तौर पर महिलाओं की आर्थिक भागीदारी को सकल घरेलू उत्पाद में लेखांकित नहीं किया जाता है । 2
- (ख) भारतीय अर्थव्यवस्था ने हाल के वर्षों में अनौपचारिक क्षेत्र से औपचारिक क्षेत्र में उत्कृष्ट परिवर्तन किया है । 2
33. (क) (i) एक राष्ट्र के विकास में शिक्षा की भूमिका की व्याख्या कीजिए । 4
- (ii) भारत जैसी अर्थव्यवस्था में ग्रामीण बैंकिंग के महत्त्व का उल्लेख कीजिए । 2
- अथवा**
- (ख) (i) अनियत दिहाड़ी मज़दूर कौन होता है ? 1
- (ii) शिक्षा आयोग (1964 – 66) की किसी एक सिफारिश का उल्लेख तथा विवेचना कीजिए । 2
- (iii) दिए गए चित्र के आलोक में, धारणीय विकास सुनिश्चित करने के लिए किसी एक रणनीति की पहचान व व्याख्या कीजिए । 3



नोट: निम्नलिखित प्रश्न केवल दृष्टिबाधित परीक्षार्थियों के लिए प्र. सं. 33 (ख) (iii) के स्थान पर है :

पर्यावरण के किसी एक कार्य की व्याख्या कीजिए । 3



32. State whether the following statements are true/false, with valid arguments :
- (a) Economic participation of women as homemakers is not accounted for in the Gross Domestic Product. 2
- (b) Indian economy has shown excellent shift from informal sector to formal sector in the recent past. 2
33. (a) (i) Explain the role of education in the economic development of the nation. 4
- (ii) State the importance of rural banking in an economy like India. 2
- OR**
- (b) (i) Who is a casual wage labourer ? 1
- (ii) State and discuss any one recommendation of the Education Commission (1964 – 66). 2
- (iii) In the light of the given image, identify and explain any one strategy to ensure sustainable development. 3



Note : The following question is for the **Visually Impaired Candidates** only in lieu of Q. No. 33 (b) (iii) :

Explain any one function of the environment. 3



34. निम्नलिखित गद्य को ध्यानपूर्वक पढ़िए :

स्वतंत्रता के साथ, भारत ने औद्योगिक आत्मनिर्भरता के अपने उद्देश्य को प्राप्त करने के लिए बंद अर्थव्यवस्था मॉडल का चयन किया था । परिणामस्वरूप, औद्योगिक ढाँचा अत्यंत महत्त्वपूर्ण बन गया था । स्वतंत्रता उपरांत, औद्योगिक विकास प्रथम दो दशकों में बहुत तीव्र था, खासतौर पर दूसरी व तीसरी योजना अवधि में । द्वितीय योजना ने देश में 'औद्योगिक क्रांति' का उद्गम किया था । इस अवधि में तीव्र औद्योगिक विकास दर के परिलक्षित होने के मुख्य कारण थे :

- (i) आर्थिक नीतियों में औद्योगीकरण पर बल ।
- (ii) औद्योगिक नीति व योजना में औद्योगिक विकास को मुख्य उद्देश्य बनाना ।
- (iii) औद्योगिक क्षेत्र में क्षमता निर्माण के समर्थन के लिए भारी निवेश करना ।
- (iv) समाज के अपेक्षाकृत बेहतर वर्ग तथा शहरी उपभोक्ताओं की ओर से विभिन्न प्रकार के नए उत्पादों की माँग में वृद्धि ।
- (v) घरेलू बचत व विदेशों से प्राप्त संसाधनों द्वारा समर्थित आर्थिक विस्तार की गति ।

दिए गए गद्य तथा सामान्य समझ के आधार पर निम्नलिखित प्रश्नों के उत्तर दीजिए :

- (क) भारत की द्वितीय पंचवर्षीय योजना की समयावधि का उल्लेख कीजिए । 1
- (ख) भारत की द्वितीय पंचवर्षीय योजना का जनक किसे कहा जाता है ? 1
- (ग) द्वितीय व तृतीय पंचवर्षीय योजनाओं के अंतर्गत भारत की तीव्र औद्योगिक विकास गति के किन्हीं दो कारणों की संक्षिप्त चर्चा कीजिए । 4



34. Read the following text carefully :

With independence, India chose the closed economy model in pursuit of its objective of industrial self-sufficiency. As a result, industrial structure has become considerably important. In the post-independence era, the industrial growth was rapid during the first two decades, especially during the Second and Third Plan period. The Second Plan introduced 'Industrial Revolution' in the country. The main reasons for high rates of industrial growth witnessed during this period were due to :

- (i) Emphasis on industrialisation in economic policies.
- (ii) Making industrial growth the main objective in the industrial policy and planning.
- (iii) Huge investments being made to support capacity creation in the industrial sector.
- (iv) Growing demands for a variety of new products on the part of the urban consumers and the relatively better-off sections of the society.
- (v) Pace of economic expansion supported by domestic savings and inflow of resources from abroad.

On the basis of the given text and common understanding, answer the following questions :

- (a) State the time period of the Second Five Year Plan of India. 1
- (b) Who is considered as the Father of the Second Five Year Plan of India ? 1
- (c) Discuss briefly any two reasons behind the industrial growth during the Second and Third Five Year Plans of India. 4



SET-1

Series HFG1E/4



प्रश्न-पत्र कोड
Q.P. Code

58/4/1

रोल नं.
Roll No.

--	--	--	--	--	--	--	--

परीक्षार्थी प्रश्न-पत्र कोड को उत्तर-पुस्तिका के मुख-पृष्ठ पर अवश्य लिखें ।

Candidates must write the Q.P. Code on the title page of the answer-book.

अर्थशास्त्र ECONOMICS

निर्धारित समय : 3 घण्टे

अधिकतम अंक : 80

Time allowed : 3 hours

Maximum Marks : 80

- कृपया जाँच कर लें कि इस प्रश्न-पत्र में मुद्रित पृष्ठ 27 हैं ।
- प्रश्न-पत्र में दाहिने हाथ की ओर दिए गए प्रश्न-पत्र कोड को परीक्षार्थी उत्तर-पुस्तिका के मुख-पृष्ठ पर लिखें ।
- कृपया जाँच कर लें कि इस प्रश्न-पत्र में 34 प्रश्न हैं ।
- कृपया प्रश्न का उत्तर लिखना शुरू करने से पहले, उत्तर-पुस्तिका में प्रश्न का क्रमांक अवश्य लिखें ।
- इस प्रश्न-पत्र को पढ़ने के लिए 15 मिनट का समय दिया गया है । प्रश्न-पत्र का वितरण पूर्वाह्न में 10.15 बजे किया जाएगा । 10.15 बजे से 10.30 बजे तक छात्र केवल प्रश्न-पत्र को पढ़ेंगे और इस अवधि के दौरान वे उत्तर-पुस्तिका पर कोई उत्तर नहीं लिखेंगे ।
- Please check that this question paper contains 27 printed pages.
- Q.P. Code given on the right hand side of the question paper should be written on the title page of the answer-book by the candidate.
- Please check that this question paper contains 34 questions.
- Please write down the serial number of the question in the answer-book before attempting it.
- 15 minute time has been allotted to read this question paper. The question paper will be distributed at 10.15 a.m. From 10.15 a.m. to 10.30 a.m., the students will read the question paper only and will not write any answer on the answer-book during this period.



सामान्य निर्देश :

निम्नलिखित निर्देशों को बहुत सावधानी से पढ़िए और उनका सख्ती से पालन कीजिए :

- (i) इस प्रश्न-पत्र में 34 प्रश्न हैं । सभी प्रश्न अनिवार्य हैं ।
- (ii) यह प्रश्न-पत्र दो खण्डों में विभाजित है :
खण्ड क - समष्टि अर्थशास्त्र
खण्ड ख - भारतीय आर्थिक विकास
- (iii) इस प्रश्न-पत्र में एक-एक अंक के 20 बहुविकल्पीय प्रश्न हैं ।
- (iv) इस प्रश्न-पत्र में तीन-तीन अंकों के 4 लघु-उत्तरीय प्रकार-I के प्रश्न हैं जिनके उत्तर 60 से 80 शब्दों में लिखे जाने चाहिए ।
- (v) इस प्रश्न-पत्र में चार-चार अंकों के 6 लघु-उत्तरीय प्रकार-II के प्रश्न हैं जिनके उत्तर 80 से 100 शब्दों में लिखे जाने चाहिए ।
- (vi) इस प्रश्न-पत्र में छः-छः अंकों के 4 दीर्घ-उत्तरीय प्रकार के प्रश्न हैं जिनके उत्तर 100 से 150 शब्दों में लिखे जाने चाहिए ।
- (vii) प्रत्येक प्रश्न के सभी भागों के उत्तर एक साथ लिखे जाने चाहिए ।

खण्ड क समष्टि अर्थशास्त्र

1. निम्नलिखित कथनों को ध्यानपूर्वक पढ़िए :

कथन 1 : भौतिक पूँजी में वृद्धि तथा स्टॉक (inventory) में परिवर्तन को निवेश के रूप में परिभाषित किया जाता है ।

कथन 2 : आय के संतुलन स्तर पर वास्तविक निवेश व वास्तविक बचत सदैव बराबर होते हैं ।

दिए गए कथनों के आलोक में, निम्नलिखित में से सही विकल्प का चयन कीजिए :

1

- (a) कथन 1 सत्य है और कथन 2 असत्य है ।
- (b) कथन 1 असत्य है और कथन 2 सत्य है ।
- (c) कथन 1 और 2 दोनों सत्य हैं ।
- (d) कथन 1 और 2 दोनों असत्य हैं ।



General Instructions :

Read the following instructions carefully and strictly follow them :

- (i) This question paper contains **34** questions. **All** questions are **compulsory**.
- (ii) This question paper contains **two** Sections :
Section A – Macro Economics
Section B – Indian Economic Development
- (iii) This paper contains **20** Multiple Choice Questions Type questions of **1** mark each.
- (iv) This paper contains **4** Short Answer Questions Type-I questions of **3** marks each to be answered in 60 to 80 words.
- (v) This paper contains **6** Short Answer Questions Type-II questions of **4** marks each to be answered in 80 to 100 words.
- (vi) This paper contains **4** Long Answer Questions Type questions of **6** marks each to be answered in 100 to 150 words.
- (vii) Attempt all parts of a question together.

SECTION A
Macro Economics

1. Read the following statements carefully :

Statement 1 : Investment is defined as addition to the physical capital and changes in the inventory.

Statement 2 : At equilibrium level of income, ex-post investments and ex-post savings are always equal.

In light of the given statements, choose the correct alternative from the following :

- (a) Statement 1 is true and Statement 2 is false.
- (b) Statement 1 is false and Statement 2 is true.
- (c) Both Statements 1 and 2 are true.
- (d) Both Statements 1 and 2 are false.



2. एक भारतीय कम्पनी, विदेश में स्थित एक कम्पनी से ऋण प्राप्त करती है। यह लेनदेन, भारत के भुगतान संतुलन में, _____ खाते के _____ पक्ष में दर्ज किया जाएगा।

(रिक्त स्थानों को भरने के लिए सही विकल्प का चयन कीजिए)

1

- (a) चालू, क्रेडिट
- (b) चालू, डेबिट
- (c) पूँजी, क्रेडिट
- (d) पूँजी, डेबिट

3. अर्थव्यवस्था में मुद्रा के स्टॉक को _____ के लिए भारतीय रिज़र्व बैंक (RBI), सरकारी प्रतिभूतियों का _____ करेगा।

(रिक्त स्थानों को भरने के लिए सही विकल्प का चयन कीजिए)

1

- (a) कम करने, विक्रय
- (b) कम करने, क्रय
- (c) बढ़ाने, विक्रय
- (d) अपरिवर्तित छोड़ने, क्रय

4. निम्नलिखित कथनों को ध्यानपूर्वक पढ़िए :

कथन 1 : लेखांकन के संदर्भ में, भुगतान संतुलन खाता सदैव संतुलित (बराबर) रहता है।

कथन 2 : स्वायत्त लेनदेन, भुगतान संतुलन खाते बराबर रखते हैं।

दिए गए कथनों के आलोक में, निम्नलिखित में से सही विकल्प का चयन कीजिए :

1

- (a) कथन 1 सत्य है और कथन 2 असत्य है।
- (b) कथन 1 असत्य है और कथन 2 सत्य है।
- (c) कथन 1 और 2 दोनों सत्य हैं।
- (d) कथन 1 और 2 दोनों असत्य हैं।



2. An Indian company receives a loan from a company located abroad. This transaction would be recorded on the _____ side of _____ account in India's Balance of Payment.

(Choose the correct alternative to fill up the blanks) 1

- (a) Credit, Current
- (b) Debit, Current
- (c) Credit, Capital
- (d) Debit, Capital

3. The Reserve Bank of India (RBI) _____ government securities in a bid to _____ the stock of money in the economy.

(Choose the correct alternative to fill up the blanks) 1

- (a) sells, decrease
- (b) purchases, decrease
- (c) sells, increase
- (d) purchases, not change

4. Read the following statements carefully :

Statement 1 : Balance of Payment account is always balanced in accounting sense.

Statement 2 : Autonomous transactions, restore balance in Balance of Payment account.

In light of the given statements, choose the correct alternative from the following :

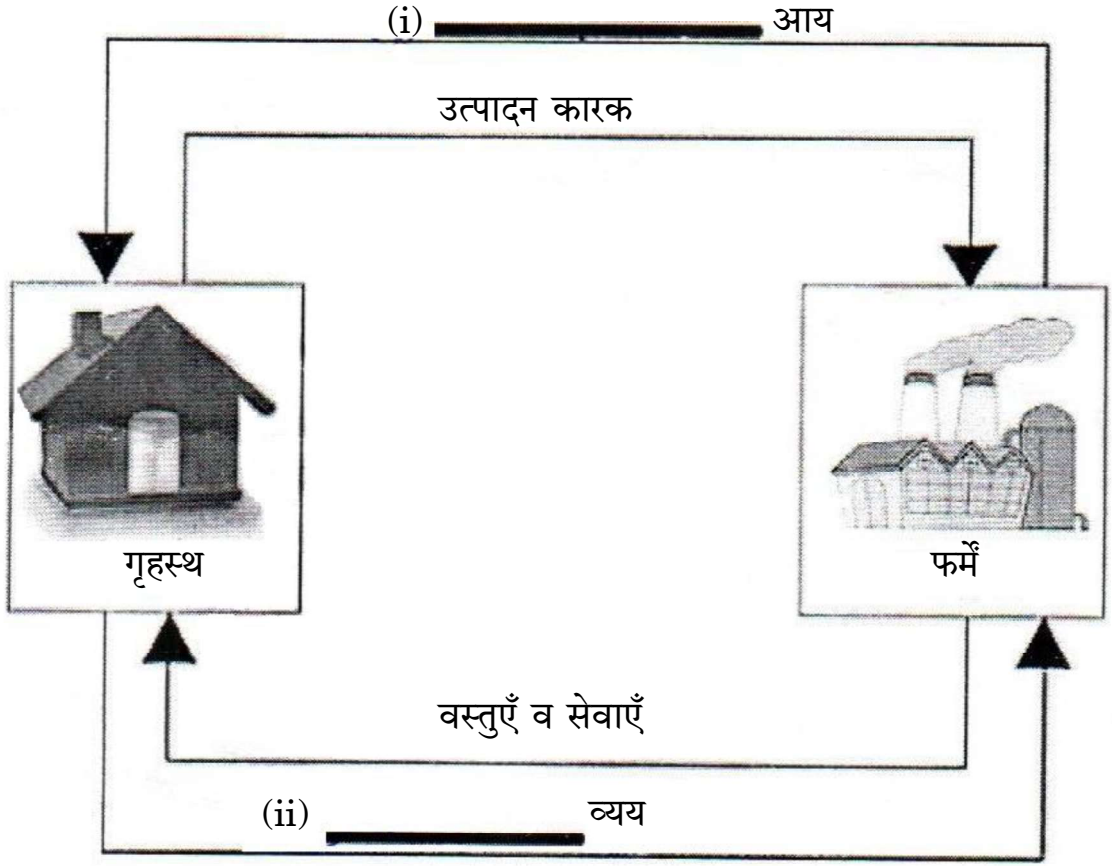
1

- (a) Statement 1 is true and Statement 2 is false.
- (b) Statement 1 is false and Statement 2 is true.
- (c) Both Statements 1 and 2 are true.
- (d) Both Statements 1 and 2 are false.



5. (क) चित्र में रिक्त स्थानों (i) व (ii) की पूर्ति के लिए सही विकल्प का चयन कीजिए :

1



विकल्प :

- | | |
|------------------------|----------------------|
| (a) राष्ट्रीय, उत्पादन | (b) कारक, उत्पादन |
| (c) कारक, उपभोग | (d) राष्ट्रीय, उपभोग |

अथवा

(ख) _____ प्रचालन अधिशेष में सम्मिलित नहीं होता है ।

(रिक्त स्थान भरने के लिए सही विकल्प का चयन कीजिए)

1

- | | |
|-----------|-------------------------------|
| (a) ब्याज | (b) किराया |
| (c) लाभ | (d) कर्मचारियों का पारिश्रमिक |

6. (क) यदि सीमांत बचत प्रवृत्ति (MPS) 0.5 है, तो निवेश गुणक का मूल्य क्या होगा ?

(सही विकल्प का चयन कीजिए)

1

- | | |
|---------|----------|
| (a) 1 | (b) 2 |
| (c) 1.6 | (d) 1.45 |

अथवा

(ख) निवेश में ₹ 1,200 करोड़ की वृद्धि से, राष्ट्रीय आय में ₹ 3,000 करोड़ की वृद्धि होती है । निवेश गुणक का मूल्य _____ होगा ।

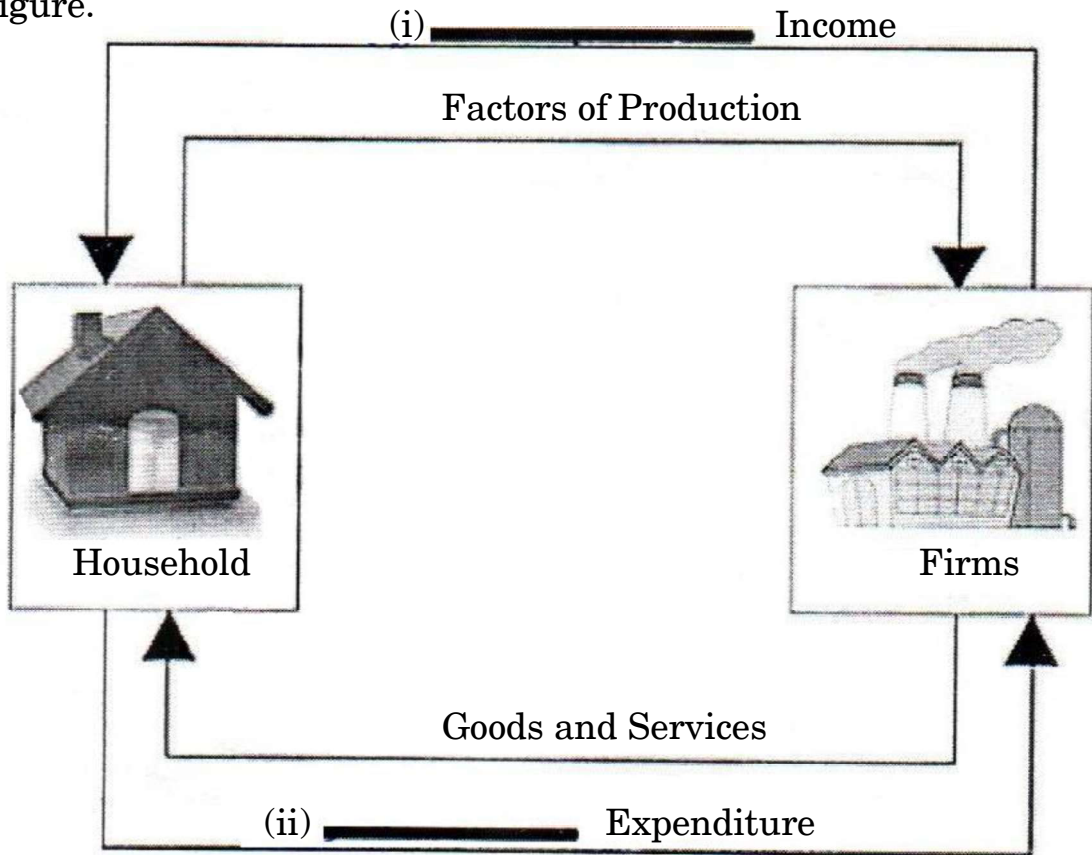
(रिक्त स्थान भरने के लिए सही विकल्प का चयन कीजिए)

1

- | | |
|-------|---------|
| (a) 2 | (b) 2.5 |
| (c) 4 | (d) 5 |



5. (A) Choose the correct alternative to fill in the blanks (i) and (ii) in the figure. 1



Alternatives :

- | | |
|--------------------------|---------------------------|
| (a) National, Production | (b) Factor, Production |
| (c) Factor, Consumption | (d) National, Consumption |

OR

- (B) Operating Surplus does not include _____. 1
 (Choose the correct alternative to fill up the blank)
- | | |
|--------------|-------------------------------|
| (a) Interest | (b) Rent |
| (c) Profit | (d) Compensation of employees |

6. (A) If the Marginal Propensity to Save (MPS) is 0.5, what will be the value of investment multiplier? (Choose the correct alternative) 1
- | | |
|---------|----------|
| (a) 1 | (b) 2 |
| (c) 1.6 | (d) 1.45 |

OR

- (B) An increase in National Income occurs by ₹ 3,000 crore, as investments increased by ₹ 1,200 crore. The value of investment multiplier would be _____. 1
 (Choose the correct alternative to fill up the blank)
- | | |
|-------|---------|
| (a) 2 | (b) 2.5 |
| (c) 4 | (d) 5 |



7. माँग जमा में _____ सम्मिलित होते हैं ।
(रिक्त स्थान को भरने के लिए सही विकल्प का चयन कीजिए) 1
- (a) जनता के पास करेंसी व सिक्के
(b) सरकार के पास अन्य जमा
(c) बचत खाता जमा व सावधि जमा
(d) चालू खाता जमा व सावधि जमा

8. (क) निम्नलिखित कथनों को ध्यानपूर्वक पढ़िए :
कथन 1 : घरेलू मुद्रा में मूल्यहास से निर्यात में वृद्धि हो सकती है ।
कथन 2 : भारतीय राष्ट्रीय रुपए (₹) में मूल्यहास के कारण, अमेरिकी डॉलर (\$) की क्रय शक्ति में वृद्धि हो सकती है ।

- दिए गए कथनों के आलोक में, निम्नलिखित में से सही विकल्प का चयन कीजिए : 1
- (a) कथन 1 सत्य है और कथन 2 असत्य है ।
(b) कथन 1 असत्य है और कथन 2 सत्य है ।
(c) कथन 1 और 2 दोनों सत्य हैं ।
(d) कथन 1 और 2 दोनों असत्य हैं ।

अथवा

- (ख) पहचान कीजिए कि, निम्नलिखित में से क्या भुगतान संतुलन में एक अमूर्त मद है । 1
- (a) खाद्यान्नों का निर्यात
(b) कच्चे तेल का आयात
(c) सं.रा. अमेरिका को सूचना प्रौद्योगिकी (IT) सेवाओं का निर्यात
(d) भारत में स्टील कम्पनी द्वारा कोयले का आयात

9. निम्नलिखित कथनों को पढ़िए : अभिकथन (A) और कारण (R) । नीचे दिए गए विकल्पों में से एक सही विकल्प चुनिए : 1

अभिकथन (A) : अधिमाँग से वास्तविक उत्पादन स्तर में कोई वृद्धि नहीं होती है ।

कारण (R) : अधिमाँग, वास्तविक माँग व पूर्ण रोजगार स्तर के अनुरूप वांछित माँग के मध्य अंतर उत्पन्न करती है ।

विकल्प :

- (a) अभिकथन (A) और कारण (R) दोनों सत्य हैं और कारण (R), अभिकथन (A) की सही व्याख्या करता है ।
(b) अभिकथन (A) और कारण (R) दोनों सत्य हैं, लेकिन कारण (R), अभिकथन (A) की सही व्याख्या नहीं करता है ।
(c) अभिकथन (A) सत्य है, लेकिन कारण (R) असत्य है ।
(d) अभिकथन (A) असत्य है, लेकिन कारण (R) सत्य है ।



-
7. Demand Deposits include _____.
(Choose the correct alternative to fill up the blank) 1
- (a) Currency and coins held with the public
 - (b) Other deposits with the Government
 - (c) Savings Account Deposits and Fixed Deposits
 - (d) Current Account Deposits and Fixed Deposits

8. (A) Read the following statements carefully :
- Statement 1* : Depreciation of domestic currency may lead to a rise in exports.
- Statement 2* : Due to the depreciation of Indian National Rupee (₹), purchasing power of US Dollar (\$) may increase.

In light of the given statements, choose the correct alternative from the following : 1

- (a) Statement 1 is true and Statement 2 is false.
- (b) Statement 1 is false and Statement 2 is true.
- (c) Both Statements 1 and 2 are true.
- (d) Both Statements 1 and 2 are false.

OR

- (B) Identify, which one of the following is an intangible item in Balance of Payment (BoP). 1
- (a) Export of food grains
 - (b) Imports of crude oil
 - (c) Export of Information Technology (IT) services to U.S.A.
 - (d) Import of coal by steel company in India

9. Read the following statements : Assertion (A) and Reason (R). Choose the correct alternative given below. 1

Assertion (A) : Excess demand does not lead to any increase in the level of real output.

Reason (R) : Excess demand creates a gap between actual demand and desired demand corresponding to full employment level.

Alternatives :

- (a) Both Assertion (A) and Reason (R) are true and Reason (R) is the correct explanation of the Assertion (A).
- (b) Both Assertion (A) and Reason (R) are true, but Reason (R) is **not** the correct explanation of the Assertion (A).
- (c) Assertion (A) is true, but Reason (R) is false.
- (d) Assertion (A) is false, but Reason (R) is true.



10. निम्नलिखित कथनों को पढ़िए : अभिकथन (A) और कारण (R) । नीचे दिए गए विकल्पों में से एक सही विकल्प चुनिए :

1

अभिकथन (A) : निर्धन व्यक्तियों की तुलना में अमीर व्यक्तियों की सीमांत उपभोग प्रवृत्ति (MPC) कम होती है ।

कारण (R) : उपभोग वक्र y -अक्ष पर मूल-बिंदु के ऊपर एक बिंदु पर प्रतिच्छेद (intercept) करता है ।

विकल्प :

- (a) अभिकथन (A) और कारण (R) दोनों सत्य हैं और कारण (R), अभिकथन (A) की सही व्याख्या करता है ।
- (b) अभिकथन (A) और कारण (R) दोनों सत्य हैं, लेकिन कारण (R), अभिकथन (A) की सही व्याख्या **नहीं** करता है ।
- (c) अभिकथन (A) सत्य है, लेकिन कारण (R) असत्य है ।
- (d) अभिकथन (A) असत्य है, लेकिन कारण (R) सत्य है ।
11. मान लीजिए, किसी वर्ष में एक राष्ट्र का बाज़ार मूल्य पर सकल घरेलू उत्पाद (GDP) ₹ 1,100 करोड़ था । विदेशों से प्राप्त शुद्ध कारक आय ₹ 100 करोड़ थी । शुद्ध अप्रत्यक्ष करों का मूल्य ₹ 150 करोड़ था तथा राष्ट्रीय आय ₹ 850 करोड़ थी । अर्थव्यवस्था के लिए मूल्यहास के मान की गणना कीजिए ।

3

12. (क) “केन्द्रीय बैंक को प्रबंधित तिरती प्रणाली के अंतर्गत हस्तक्षेप करने की आवश्यकता होती है ।”

क्या आप दिए गए कथन से सहमत हैं ? अपने उत्तर का मान्य कारणों सहित समर्थन कीजिए ।

3

अथवा

(ख) व्यापार संतुलन अधिशेष व चालू खाता अधिशेष में अंतर स्पष्ट कीजिए ।

3

13. मान लीजिए एक अर्थव्यवस्था के लिए उपभोग फलन $C = 80 + 0.75 Y$ (जहाँ $C =$ उपभोग फलन और $Y =$ राष्ट्रीय आय) तथा निवेश व्यय ₹ 200 करोड़ है ।

निम्नलिखित का आकलन कीजिए :

2+2=4

(क) आय का संतुलन स्तर

(ख) आय के संतुलन स्तर पर उपभोग व बचत के मूल्य



-
10. Read the following statements : Assertion (A) and Reason (R). Choose the correct alternative given below. 1

Assertion (A) : Rich people have lower Marginal Propensity to Consume (MPC) as compared to poor people.

Reason (R) : Consumption curve makes an intercept on the y-axis at a point above the origin.

Alternatives :

- (a) Both Assertion (A) and Reason (R) are true and Reason (R) is the correct explanation of the Assertion (A).
- (b) Both Assertion (A) and Reason (R) are true, but Reason (R) is **not** the correct explanation of the Assertion (A).
- (c) Assertion (A) is true, but Reason (R) is false.
- (d) Assertion (A) is false, but Reason (R) is true.
11. Suppose, the Gross Domestic Product (GDP) at market price of a country in a particular year was ₹ 1,100 crore. Net Factor Income from abroad was ₹ 100 crore. The value of Net Indirect Taxes was ₹ 150 crore and the National Income was ₹ 850 crore. Calculate the value of depreciation for the economy. 3

12. (a) "The central bank needs to intervene under the managed floating system."

Do you agree with the given statement ? Support your answer with valid reasons. 3

OR

- (b) Differentiate between Surplus in Balance of Trade and Current Account Surplus. 3

13. Suppose consumption function for an economy is $C = 80 + 0.75 Y$ (where C = consumption function and Y = national income) and the investment expenditure is ₹ 200 crore.

Estimate the following :

2+2=4

- (a) Equilibrium level of income
- (b) Values of consumption and saving at equilibrium level of income



14. संक्षेप में चर्चा कीजिए कि, सरकार किस प्रकार निम्नलिखित द्वारा अपस्फीति की स्थिति को नियंत्रित कर सकती है :

4

- (क) कराधान नीति
- (ख) सरकारी व्यय नीति

15. निम्नलिखित उद्धरण को ध्यानपूर्वक पढ़िए :

“2020 में भारत में सेंट्रल बैंक डिजिटल करेंसी (CBDC) की संभावनाओं का अध्ययन करने के लिए एक कार्य समूह की स्थापना के उपरांत, भारतीय रिज़र्व बैंक (RBI) ने 7 अक्टूबर, 2022 को डिजिटल रुपए (e-रुपए) पर एक अवधारणा नोट प्रस्तुत किया।”

“e-रुपए, मुद्रा के उपलब्ध प्रारूपों के लिए एक अतिरिक्त विकल्प प्रदान करेगा। यह बैंक नोटों से काफी हद तक पृथक नहीं होगा, परन्तु डिजिटल होने के कारण इसके आसान, तीव्र व सस्ता होने की संभावना है।”

RBI ने कहा है कि, मुख्य तौर पर CBDC को डिजिटल रूप में केन्द्रीय बैंक द्वारा जारी वैधानिक निविदा (legal tender) के रूप में परिभाषित किया जा सकता है। यह अन्य रूप में कागज़ी मुद्रा (paper currency) के समान है।

उपर्युक्त उद्धरण व सामान्य समझ के आधार पर निम्नलिखित प्रश्नों के उत्तर दीजिए :

- (क) उपर्युक्त उद्धरण में इंगित केन्द्रीय बैंक के कार्य की पहचान कीजिए व विवेचना कीजिए।
- (ख) डिजिटल रुपए के किन्हीं दो लाभों का उल्लेख कीजिए।

3+1=4

16. (क) “एक फर्म द्वारा क्रय की गई मशीन सदैव पूँजीगत वस्तु होती है।”

क्या आप दिए गए कथन से सहमत हैं? अपने उत्तर के लिए मान्य कारण दीजिए।

3

(ख) निम्नलिखित को परिभाषित कीजिए :

3

- (i) शुद्ध निर्यात (नेट एक्सपोर्ट्स)
- (ii) बाह्यताएँ
- (iii) दोहरी गणना की समस्या



-
14. Discuss briefly, how the government can control the situation of deflation using the following : 4
- (a) Taxation Policy
- (b) Government Expenditure Policy

15. Read the following text carefully :

“After setting up a working group to study the possibility of a Central Bank Digital Currency (CBDC) in India in 2020, the RBI revealed a concept note on digital rupee (e-Rupee) on 7th October, 2022.”

“The e-Rupee will provide an additional option to the currency available forms of money. It is substantially not different from bank notes, but being digital it is likely to be easier, faster and cheaper.”

RBI said that it broadly defines CBDC as the legal tender issued by a central bank in a digital form. It is akin to paper currency in a different form.

On the basis of the above text and common understanding, answer the following questions :

- (a) Identify and discuss the function of central bank indicated in the above text.
- (b) State any two advantages of digital rupee. 3+1=4
16. (a) “Machine purchased by a firm is always a capital good.”
- Do you agree with the given statement ? Give valid reasons for your answer. 3
- (b) Define the following : 3
- (i) Net Exports
- (ii) Externalities
- (iii) Problem of Double Counting



17. (क) (i) “सरकार गरीबी रेखा से नीचे के परिवारों को खाद्यान्न जैसी आवश्यक वस्तुएँ लगभग निशुल्क प्रदान करती है।”
इंगित किए गए सरकारी बजट के उद्देश्य की पहचान कीजिए व व्याख्या कीजिए। 4
- (ii) निम्नलिखित को परिभाषित कीजिए : 2
- (1) राजस्व घाटा
(2) प्राथमिक घाटा

अथवा

- (ख) मान्य कारणों सहित उल्लेख कीजिए कि निम्नलिखित कथन सत्य हैं अथवा असत्य : 6
- (i) उच्च आय समूह पर ऊँचा करारोपण सरकार के ‘संसाधनों के पुनःआबंटन’ के उद्देश्य को प्राप्त करता है।
- (ii) ऋण सरकार के लिए एक राजस्व प्राप्ति हैं।
- (iii) राजकोषीय घाटा सदैव मुद्रास्फीति को उत्पन्न करता है।

खण्ड ख

भारतीय आर्थिक विकास

18. ब्रिटिश शासनकाल में, कृषि के व्यवसायीकरण के परिणामस्वरूप कृषि उत्पादन _____ फसलों से _____ फसलों पर स्थानांतरित हो गया था।

(रिक्त स्थानों को भरने के लिए सही विकल्प का चयन कीजिए) 1

- (a) नकद, खाद्य
(b) कपास, जूट
(c) खाद्य, नकद
(d) जूट, खाद्य
19. (क) पहचान कीजिए कि, निम्नलिखित में से कौन-सा विकल्प भारत में आर्थिक योजना के उद्देश्यों से संबंधित नहीं है। 1
- (a) जीवन के समान स्तर को सुनिश्चित करना
(b) प्रौद्योगिकीय उन्नति
(c) आर्थिक विकास में वृद्धि
(d) विलासिता की वस्तुओं के आयात को प्रोत्साहित करना

अथवा



-
17. (a) (i) “Government provides essential items like food grains almost free to the families below poverty line.”
Identify and explain the objective of the government budget indicated. 4
- (ii) Define the following : 2
- (1) Revenue deficit
- (2) Primary deficit

OR

- (b) State whether the following statements are *true* or *false*, with valid reasons : 6
- (i) High tax on higher income groups aims to achieve the ‘reallocation of resources’ objective of the Government.
- (ii) Borrowings are a revenue receipt of the government.
- (iii) Fiscal deficit always leads to inflation.

SECTION B

Indian Economic Development

18. Under the British Rule, commercialisation of agriculture resulted in shifting of agricultural production from _____ crops to _____ crops.
(Choose the correct alternative to fill up the blanks) 1
- (a) Cash, Food
- (b) Cotton, Jute
- (c) Food, Cash
- (d) Jute, Food
19. (A) Identify, which of the following alternative is **not** associated with goals of economic planning in India. 1
- (a) Ensuring equitable standard of living
- (b) Technological advancement
- (c) Increase in economic growth
- (d) Promoting imports of luxury goods

OR



(ख) 1951 में, भारत की राष्ट्रीय आय में कृषि का योगदान _____ था ।
(रिक्त स्थान भरने के लिए सही विकल्प का चयन कीजिए) 1

- (a) तीनों क्षेत्रों में से सर्वाधिक
- (b) तीनों क्षेत्रों में से सबसे कम
- (c) औद्योगिक क्षेत्र से कम
- (d) सेवा क्षेत्र से कम

20. (क) भारत में सन् _____ में व पाकिस्तान में सन् _____ में आर्थिक सुधारों की शुरुआत हुई थी ।
(रिक्त स्थानों को भरने के लिए सही विकल्प का चयन कीजिए) 1

- (a) 1978, 1988
- (b) 1988, 1978
- (c) 1978, 1991
- (d) 1991, 1988

अथवा

(ख) _____ के मामले में पाकिस्तान भारत से आगे है ।
(रिक्त स्थान भरने के लिए सही विकल्प का चयन कीजिए) 1

- (a) मानव विकास सूचकांक (HDI) मूल्य
- (b) प्रति व्यक्ति आय
- (c) स्वच्छता सुविधाओं तक पहुँच
- (d) जन्म पर जीवन प्रत्याशा

21. किसानों को मंडियों की कुरीतियों से बचाने के लिए _____ बाजारों को आयोजित किया जाता है ।
(रिक्त स्थान भरने के लिए सही विकल्प का चयन कीजिए) 1

- (a) विनियमित
- (b) सामयिक
- (c) दैनिक
- (d) साप्ताहिक

22. चीन की निम्नलिखित घटनाओं को कालानुक्रमिक क्रम में व्यवस्थित कीजिए व सही विकल्प का चयन कीजिए : 1

- (i) महान सर्वहारा सांस्कृतिक क्रांति
- (ii) ग्रेट लीप फॉरवर्ड अभियान
- (iii) आर्थिक सुधारों का प्रारम्भ
- (iv) प्रथम पंचवर्षीय योजना

विकल्प :

- (a) (ii), (iv), (iii), (i)
- (b) (iv), (ii), (i), (iii)
- (c) (ii), (iv), (i), (iii)
- (d) (iv), (i), (ii), (iii)



(B) In 1951, agricultural contribution to India's National Income was _____ . (Choose the correct alternative to fill up the blank) 1

- (a) Highest among the three sectors
- (b) Lowest among the three sectors
- (c) Lower than the industrial sector
- (d) Lower than the service sector

20. (A) Economic reforms were introduced in the year _____ in India and in the year _____ in Pakistan.

(Choose the correct alternative to fill up the blanks) 1

- (a) 1978, 1988
- (b) 1988, 1978
- (c) 1978, 1991
- (d) 1991, 1988

OR

(B) Pakistan is ahead of India in the case of _____.

(Choose the correct alternative to fill up the blank) 1

- (a) HDI value
- (b) Per capita income
- (c) Access to sanitation facilities
- (d) Life expectancy at birth

21. _____ markets were organised to protect the farmers from malpractices in mandis.

(Choose the correct alternative to fill up the blank) 1

- (a) Regulated
- (b) Periodic
- (c) Daily
- (d) Weekly

22. Arrange the following events of China in chronological order and choose the correct alternative : 1

- (i) Great Proletarian Cultural Revolution
- (ii) Great Leap Forward Campaign
- (iii) Introduction of Economic Reforms
- (iv) First Five Year Plan

Alternatives :

- (a) (ii), (iv), (iii), (i)
- (b) (iv), (ii), (i), (iii)
- (c) (ii), (iv), (i), (iii)
- (d) (iv), (i), (ii), (iii)



23. निम्नलिखित कथनों को ध्यानपूर्वक पढ़िए :
- कथन 1 : आर्थिक विकास से तात्पर्य किसी राष्ट्र की वास्तविक राष्ट्रीय आय में वृद्धि से है ।
 कथन 2 : मानव पूँजी निर्माण व मानव विकास दोनों एकसमान अवधारणाएँ हैं ।
 दिए गए कथनों के आलोक में, निम्नलिखित में से सही विकल्प का चयन कीजिए : 1
- (a) कथन 1 सत्य है और कथन 2 असत्य है ।
 (b) कथन 1 असत्य है और कथन 2 सत्य है ।
 (c) कथन 1 और 2 दोनों सत्य हैं ।
 (d) कथन 1 और 2 दोनों असत्य हैं ।
24. निम्नलिखित कथनों को ध्यानपूर्वक पढ़िए :
- कथन 1 : 'स्वतंत्रता संकेतक' नागरिकों को दिए गए संवैधानिक संरक्षण की सीमा को मापते हैं ।
 कथन 2 : भारत अपने नागरिकों को उचित संवैधानिक संरक्षण प्रदान करता है ।
 दिए गए कथनों के आलोक में, निम्नलिखित में से सही विकल्प का चयन कीजिए : 1
- (a) कथन 1 सत्य है और कथन 2 असत्य है ।
 (b) कथन 1 असत्य है और कथन 2 सत्य है ।
 (c) कथन 1 और 2 दोनों सत्य हैं ।
 (d) कथन 1 और 2 दोनों असत्य हैं ।
25. (क) धारण क्षमता (Carrying Capacity) का अर्थ है, कि _____ । 1
- (i) संसाधन निष्कर्षण, पुनर्जनन की दर से कम होना चाहिए ।
 (ii) संसाधन निष्कर्षण, पुनर्जनन की दर से अधिक होना चाहिए ।
 (iii) अवशेष उत्पादन पर्यावरण की अवशोषी क्षमता के भीतर होना चाहिए ।
 (iv) अवशेष उत्पादन पर्यावरण की अवशोषी क्षमता से अधिक होना चाहिए ।
 (सही विकल्प का चयन कीजिए)
- विकल्प :
- (a) (i) व (iv) (b) (i) व (iii)
 (c) (ii) व (iii) (d) (ii) व (iv)
- अथवा
- (ख) _____ प्रणाली पारिस्थितिक संतुलन को पुनःस्थापित करती है, बनाए रखती है तथा वृद्धि करती है । (रिक्त स्थान भरने के लिए सही विकल्प का चयन कीजिए) 1
- (a) रासायनिक कृषि (b) जैविक कृषि
 (c) परम्परागत कृषि (d) बहुपरतीय कृषि



23. Read the following statements carefully :
Statement 1 : Economic growth means the increase in real national income of a country.

Statement 2 : Human capital formation and Human development are one and the same concepts.

In light of the given statements, choose the correct alternative from the following :

1

- (a) Statement 1 is true and Statement 2 is false.
- (b) Statement 1 is false and Statement 2 is true.
- (c) Both Statements 1 and 2 are true.
- (d) Both Statements 1 and 2 are false.

24. Read the following statements carefully :

Statement 1 : 'Liberty indicators' measure the extent of constitutional protection given to the citizens.

Statement 2 : India provides fair constitutional protection to its citizens.

In light of the given statements, choose the correct alternative from the following :

1

- (a) Statement 1 is true and Statement 2 is false.
- (b) Statement 1 is false and Statement 2 is true.
- (c) Both Statements 1 and 2 are true.
- (d) Both Statements 1 and 2 are false.

25. (A) Carrying Capacity implies that _____.

1

- (i) Resource extraction should remain below the rate of regeneration.
- (ii) Resource extraction should remain above the rate of regeneration.
- (iii) Generation of waste should remain within the absorption capacity of the environment.
- (iv) Generation of waste should be more than the absorption capacity of the environment.

(Choose the correct alternative)

Alternatives :

- (a) (i) and (iv)
- (b) (i) and (iii)
- (c) (ii) and (iii)
- (d) (ii) and (iv)

OR

(B) _____ system restores, maintains and enhances the ecological balance. (Choose the correct alternative to fill up the blank)

1

- (a) Chemical farming
- (b) Organic farming
- (c) Conventional farming
- (d) Multi-layered farming



26. निम्नलिखित कथनों को पढ़िए : अभिकथन (A) और कारण (R) । नीचे दिए गए विकल्पों में से एक सही विकल्प चुनिए :

1

अभिकथन (A) : भारत में बेरोज़गारी समस्या की प्रकृति बहुआयामी है ।

कारण (R) : श्रमिक-जनसंख्या अनुपात एक ऐसा संकेतक है, जिसका प्रयोग किसी राष्ट्र की रोज़गार स्थिति का विश्लेषण करने में किया जाता है ।

विकल्प :

- (a) अभिकथन (A) और कारण (R) दोनों सत्य हैं और कारण (R), अभिकथन (A) की सही व्याख्या करता है ।
- (b) अभिकथन (A) और कारण (R) दोनों सत्य हैं, लेकिन कारण (R), अभिकथन (A) की सही व्याख्या नहीं करता है ।
- (c) अभिकथन (A) सत्य है, लेकिन कारण (R) असत्य है ।
- (d) अभिकथन (A) असत्य है, लेकिन कारण (R) सत्य है ।

27. निम्नलिखित कथनों को पढ़िए : अभिकथन (A) और कारण (R) । नीचे दिए गए विकल्पों में से एक सही विकल्प चुनिए :

1

अभिकथन (A) : चीन ने 'खुले द्वार की नीति' को एक प्रमुख आर्थिक सुधार पहल के रूप में अपनाया था ।

कारण (R) : इसका उद्देश्य व्यापक स्तर पर राष्ट्र का औद्योगीकरण करना था ।

विकल्प :

- (a) अभिकथन (A) और कारण (R) दोनों सत्य हैं और कारण (R), अभिकथन (A) की सही व्याख्या करता है ।
- (b) अभिकथन (A) और कारण (R) दोनों सत्य हैं, लेकिन कारण (R), अभिकथन (A) की सही व्याख्या नहीं करता है ।
- (c) अभिकथन (A) सत्य है, लेकिन कारण (R) असत्य है ।
- (d) अभिकथन (A) असत्य है, लेकिन कारण (R) सत्य है ।



-
26. Read the following statements : Assertion (A) and Reason (R). Choose the correct alternative given below. 1

Assertion (A) : The nature of unemployment problem in India is multi-faceted.

Reason (R) : Worker-Population ratio is an indicator used for analysing the employment situation in a country.

Alternatives :

- (a) Both Assertion (A) and Reason (R) are true and Reason (R) is the correct explanation of the Assertion (A).
- (b) Both Assertion (A) and Reason (R) are true, but Reason (R) is **not** the correct explanation of the Assertion (A).
- (c) Assertion (A) is true, but Reason (R) is false.
- (d) Assertion (A) is false, but Reason (R) is true.

27. Read the following statements : Assertion (A) and Reason (R). Choose the correct alternative given below. 1

Assertion (A) : China adopted the 'Open Door Policy' as a major economic reform initiative.

Reason (R) : It aimed at industrialising the country on a massive scale.

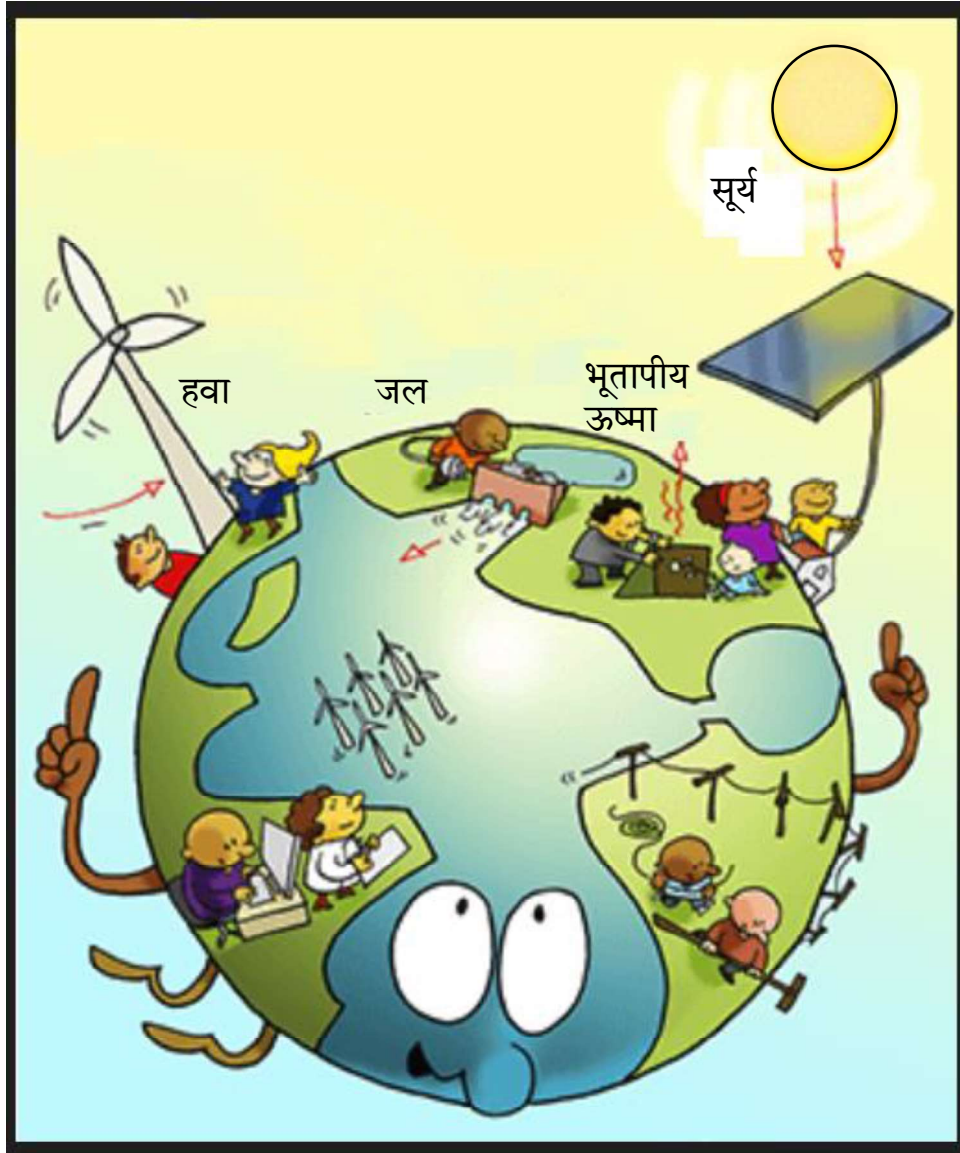
Alternatives :

- (a) Both Assertion (A) and Reason (R) are true and Reason (R) is the correct explanation of the Assertion (A).
- (b) Both Assertion (A) and Reason (R) are true, but Reason (R) is **not** the correct explanation of the Assertion (A).
- (c) Assertion (A) is true, but Reason (R) is false.
- (d) Assertion (A) is false, but Reason (R) is true.



28. वर्तमान पर्यावरणीय चुनौतियों के संदर्भ में दिए गए चित्र की व्याख्या कीजिए ।

3



नोट : निम्नलिखित प्रश्न केवल दृष्टिबाधित परीक्षार्थियों के लिए प्रश्न संख्या 28 के स्थान पर है :

किसी एक वर्तमान पर्यावरणीय चुनौती की विवेचना कीजिए ।

3

29. (क) “अनौपचारिक क्षेत्र के बजाय औपचारिक क्षेत्र में रोज़गार सृजन करना आवश्यक है ।”

मान्य तर्कों सहित दिए गए कथन का समर्थन अथवा खंडन कीजिए ।

3

अथवा

(ख) संक्षेप में चर्चा कीजिए कि, स्थायी आजीविका के लिए कृषि विविधीकरण क्यों आवश्यक है ।

3



30. नीचे दिए गए आँकड़ों से, सकल मूल्य वृद्धि / सकल घरेलू उत्पाद की दिशा में भारत व चीन के क्षेत्रवार योगदान की तुलना कीजिए ।

4

सकल मूल्य वृद्धि / सकल घरेलू उत्पाद में क्षेत्रवार योगदान (% में) (2018 – 19)

क्षेत्र	भारत	चीन
कृषि	16	7
उद्योग	30	41
सेवाएँ	54	52
कुल	100	100

31. 1991 की आर्थिक सुधार प्रक्रिया के दौरान, भारत सरकार द्वारा प्रारम्भ किए गए वित्तीय क्षेत्र से संबंधित किन्हीं दो उदारीकरण उपायों की चर्चा कीजिए ।

4

32. “स्व-सहायता समूह ग्रामीण क्षेत्रों में संस्थागत ऋण, रोजगार सृजन व महिला सशक्तिकरण के लिए प्रोत्साहन प्रदान करते हैं ।”

दिए गए कथन की वैध व्याख्या सहित पुष्टि कीजिए ।

4

33. निम्नलिखित उद्धरण को ध्यानपूर्वक पढ़िए :

सांसदों द्वारा गाँव के दत्तक ग्रहण

अक्टूबर, 2014 में, भारत सरकार ने सांसद आदर्श ग्राम योजना (SAGY) नामक एक नई योजना की शुरुआत की । इस योजना के अंतर्गत भारत के सांसदों को एक गाँव की पहचान करने और विकसित करने की आवश्यकता है । शुरू करने के लिए, सांसद वर्ष 2016 तक एक मॉडल गाँव के रूप में एक गाँव को विकसित कर सकते हैं और वर्ष 2019 तक दो और गाँव विकसित करने हैं, भारत में 2,500 से अधिक गाँवों को सम्मिलित करने की योजना है । योजना के मुताबिक, गाँव के मैदानी इलाकों में 3,000 – 5,000 और पहाड़ी इलाकों में 1,000 – 3,000 की आबादी हो सकती है और सांसदों का खुद का या अपने पति/पत्नी का गाँव नहीं होना चाहिए । सांसदों द्वारा एक गाँव के विकास योजना की उम्मीद कर रहे हैं कि, वे ग्रामीणों को गतिविधियों को लेने के लिए प्रेरित करने और स्वास्थ्य, पोषण और शिक्षा के क्षेत्रों में बुनियादी ढाँचे का निर्माण करने के लिए प्रेरित करेंगे ।

दिए गए उद्धरण व सामान्य समझ के आधार पर निम्नलिखित प्रश्नों के उत्तर दीजिए :

- (क) ऐसे किन्हीं दो उद्देश्यों का उल्लेख व चर्चा कीजिए जो कि, भारत सरकार ‘सांसद आदर्श ग्राम योजना (SAGY)’ द्वारा प्राप्त करना चाहती थी ।

4

- (ख) SAGY योजना के अंतर्गत चुने गए गाँवों के लिए मानदंडों का उल्लेख कीजिए ।

2



30. From the data given below, compare and contrast India's and China's sectoral contribution towards GVA / GDP. 4

Sectoral Contribution to GVA/GDP (in %) (2018 – 19)

<i>Sector</i>	<i>India</i>	<i>China</i>
Agriculture	16	7
Industry	30	41
Services	54	52
Total	100	100

31. Discuss any two liberalisation measures pertaining to the financial sector, introduced by the Government of India during the economic reform process of 1991. 4
32. "Self-Help Groups provide stimulus for institutionalised lending, employment generation and women empowerment in the rural areas." Justify the given statement with valid explanation. 4
33. Read the following text carefully :

Adoption of Village by Parliamentarians

In October, 2014, the Government of India introduced a new scheme called Saansad Adarsh Gram Yojana (SAGY). Under this scheme, Members of India's Parliament need to identify and develop one village from their constituencies. To begin with, MPs can develop one village as a model village by 2016, and two more by 2019, covering over 2,500 villages in India. According to the scheme, the village can have a population of 3,000 – 5,000 in the plains and 1,000 – 3,000 in the hills and should not be the MP's own or their spouse's village. MPs are expected to facilitate a village development plan, motivate villagers to take up activities and build infrastructure in the areas of health, nutrition and education.

On the basis of the given text and common understanding, answer the following questions :

- (a) State and discuss, any two objectives which the Government of India wanted to achieve through 'Saansad Adarsh Gram Yojana (SAGY)'. 4
- (b) State the yardsticks for selecting villages under the SAGY Scheme. 2



-
34. (क) (i) कृषि क्षेत्रक में लागू किए गए भूमि सुधारों की आवश्यकता और उनके प्रकारों की व्याख्या कीजिए । 3
- (ii) योजना अवधि के दौरान औद्योगिक विकास में सार्वजनिक क्षेत्रक को ही अग्रणी भूमिका क्यों सौंपी गई थी ? व्याख्या कीजिए । 3

अथवा

- (ख) (i) व्याख्या कीजिए कि, सुधार काल में औद्योगिक क्षेत्रक के निराशाजनक निष्पादन के क्या कारण रहे हैं । 4
- (ii) द्विपक्षीय तथा बहुपक्षीय व्यापार में विभेद कीजिए । 2



-
- 34.** (a) (i) Explain the need and types of land reforms implemented in the agriculture sector. 3
- (ii) Why was public sector given a leading role in industrial development during the planning period ? Explain. 3

OR

- (b) (i) Explain the reasons why the industrial sector has performed poorly in the reform period. 4
- (ii) Distinguish between the Bilateral and Multilateral trade. 2



Series HFG1E/5



SET-1

प्रश्न-पत्र कोड
Q.P. Code 58/5/1

रोल नं.

Roll No.

--	--	--	--	--	--	--	--

परीक्षार्थी प्रश्न-पत्र कोड को उत्तर-पुस्तिका के मुख-पृष्ठ पर अवश्य लिखें।

Candidates must write the Q.P. Code on the title page of the answer-book.

अर्थशास्त्र (सैद्धान्तिक)

ECONOMICS (Theory)

निर्धारित समय : 3 घण्टे

अधिकतम अंक : 80

Time allowed : 3 hours

Maximum Marks : 80

- कृपया जाँच कर लें कि इस प्रश्न-पत्र में मुद्रित पृष्ठ 23 हैं।
- प्रश्न-पत्र में दाहिने हाथ की ओर दिए गए प्रश्न-पत्र कोड को परीक्षार्थी उत्तर-पुस्तिका के मुख-पृष्ठ पर लिखें।
- कृपया जाँच कर लें कि इस प्रश्न-पत्र में 34 प्रश्न हैं।
- कृपया प्रश्न का उत्तर लिखना शुरू करने से पहले, उत्तर-पुस्तिका में प्रश्न का क्रमांक अवश्य लिखें।
- इस प्रश्न-पत्र को पढ़ने के लिए 15 मिनट का समय दिया गया है। प्रश्न-पत्र का वितरण पूर्वाह्न में 10.15 बजे किया जाएगा। 10.15 बजे से 10.30 बजे तक परीक्षार्थी केवल प्रश्न-पत्र को पढ़ेंगे और इस अवधि के दौरान वे उत्तर-पुस्तिका पर कोई उत्तर नहीं लिखेंगे।
- Please check that this question paper contains 23 printed pages.
- Q.P. Code given on the right hand side of the question paper should be written on the title page of the answer-book by the candidate.
- Please check that this question paper contains 34 questions.
- **Please write down the serial number of the question in the answer-book before attempting it.**
- 15 minute time has been allotted to read this question paper. The question paper will be distributed at 10.15 a.m. From 10.15 a.m. to 10.30 a.m., the candidates will read the question paper only and will not write any answer on the answer-book during this period.



58/5/1

246 A

1



P.T.O.

सामान्य निर्देश :

- (i) इस प्रश्न-पत्र में 34 प्रश्न हैं। सभी प्रश्न अनिवार्य हैं।
- (ii) यह प्रश्न-पत्र दो खण्डों में विभाजित है :
- खण्ड क – समष्टि अर्थशास्त्र
- खण्ड ख – भारतीय अर्थव्यवस्था का विकास
- (iii) इस प्रश्न-पत्र में एक-एक अंक के 20 बहुविकल्पीय प्रश्न हैं।
- (iv) इस प्रश्न-पत्र में तीन-तीन अंकों के 4 लघु उत्तरीय प्रकार-I के प्रश्न हैं जिनके उत्तर 60 से 80 शब्दों में लिखे जाने चाहिए।
- (v) इस प्रश्न-पत्र में चार-चार अंकों के 6 लघु उत्तरीय प्रकार-II के प्रश्न हैं जिनके उत्तर 80 से 100 शब्दों में लिखे जाने चाहिए।
- (vi) इस प्रश्न-पत्र में छः-छः अंकों के 4 दीर्घ उत्तरीय प्रकार के प्रश्न हैं जिनके उत्तर 100 से 150 शब्दों में लिखे जाने चाहिए।
- (vii) प्रत्येक प्रश्न के सभी भागों के उत्तर एक साथ लिखे जाने चाहिए।

खण्ड – क

(समष्टि अर्थशास्त्र)

1. “मुद्रा एक ऐसी सम्पत्ति है, जिसे भविष्य के लिए संग्रहित किया जा सकता है।” 1
- दिए गए कथन के आलोक में मुद्रा के कार्य की पहचान करें : (सही विकल्प का चयन करें)
- (a) मूल्य मान (b) स्थगित भुगतान का मानक
- (c) मूल्य का संचय (d) विनिमय का माध्यम



General Instructions :

Read the following instructions carefully and follow them :

- (i) *This Question Paper contains 34 questions. All questions are compulsory.*
- (ii) *This Question Paper contains two sections :*
Section A – Macro Economics
Section B – Indian Economic Development
- (iii) *This paper contains 20 Multiple Choice Questions type questions of 1 mark each.*
- (iv) *This paper contains 4 Short Answer Questions type-I questions of 3 marks each to be answered in 60 to 80 words.*
- (v) *This paper contains 6 Short Answer Questions type-II questions of 4 marks each to be answered in 80 to 100 words.*
- (vi) *This paper contains 4 Long Answer Questions type questions of 6 marks each to be answered in 100 to 150 words.*
- (vii) *Attempt all parts of a question together.*

SECTION – A

(Macro Economics)

1. 'Money is an asset which can be stored for use in future.' 1

In the light of given statement, identify the function of money.

(Choose the correct alternative)

- (a) A measure of value
- (b) A standard of deferred payment
- (c) A store of value
- (d) A medium of Exchange



2. “अंतर्राष्ट्रीय बाजार में भारतीय मुद्रा के मूल्यहास को ध्यान में रखते हुए, भारतीय रिजर्व बैंक ने खुले बाजार में भारतीय मुद्रा (₹) को क्रय करने का निर्णय लिया है।” 1

यह _____ विनिमय दर प्रणाली को इंगित करता है। (सही विकल्प द्वारा रिक्त स्थान की पूर्ति करें)

- (a) स्थिर (b) नम्य
(c) प्रबंधित तिरती (d) हेर-फेर

3. निम्नलिखित कथनों का ध्यान से अध्ययन करें : 1

कथन 1 : किसी द्वि-क्षेत्रक अर्थव्यवस्था में, उपभोग व्यय व निवेश व्यय समग्र माँग के दो घटक होते हैं।

कथन 2 : समग्र माँग वक्र सदैव मूलबिंदु से धनात्मक ढाल का होता है।

दिए गए कथनों के आलोक में, निम्नलिखित में से सही विकल्प का चयन कीजिए :

- (a) कथन 1 सत्य है और कथन 2 असत्य है।
(b) कथन 1 असत्य है और कथन 2 सत्य है।
(c) कथन 1 और 2 दोनों सत्य हैं।
(d) कथन 1 और 2 दोनों असत्य हैं।

4. भुगतान संतुलन में ‘घाटे’ से तात्पर्य _____ पर अधिकता से है। (सही विकल्प का चयन करें) 1

- (a) चालू खाता भुगतानों की चालू खाता प्राप्तियों
(b) पूँजीगत खाता भुगतानों की पूँजीगत खाता प्राप्तियों
(c) स्वायत्त भुगतानों की स्वायत्त प्राप्तियों
(d) समायोजित भुगतानों की समायोजित प्राप्तियों

5. (A) कॉलम I व II में दिए गए कथनों में से, सही युग्म (pair) का चयन करें। 1

	कॉलम – I		कॉलम – II
A.	निजी बगीचों में उगाई गई सब्जियाँ	(i)	गैर-विपणन गतिविधि
B.	टैक्सी (Taxi) के तौर पर प्रयुक्त कार	(ii)	उपभोक्ता वस्तु
C.	एक गृहस्थ द्वारा प्रयुक्त वातानुकूलित यंत्र	(iii)	पूँजीगत वस्तु
D.	सरकार द्वारा किसी छात्र को दी जाने वाली छात्रवृत्ति	(iv)	कारक आय

विकल्प :

- (a) A – (i) (b) B – (ii)
(c) C – (iii) (d) D – (iv)

अथवा



2. “Considering the depreciation of Indian Currency (₹) in the international market, the Reserve Bank of India (RBI) has decided to purchase Indian currency (₹) in the open market.” 1

This represents _____ exchange rate system.

(Fill up the blank with correct alternative)

- (a) fixed (b) flexible
(c) managed floating (d) manipulated

3. Read the following statements carefully : 1

Statement 1 : In a two sector economy, consumption expenditure and investment expenditure are the two components of Aggregate Demand.

Statement 2 : Aggregate demand curve always start from point of origin with positive slope.

In the light of given statements, choose the correct alternative from the following :

- (a) Statement 1 is true and Statement 2 is false.
(b) Statement 1 is false and Statement 2 is true.
(c) Both statements 1 and 2 are true.
(d) Both statements 1 and 2 are false.

4. ‘Deficit’ in Balance of Payment (BOP) refers to the excess of _____. 1
(Choose the correct alternative)

- (a) Current account payments over Current account receipts.
(b) Capital account payments over Capital account receipts
(c) Autonomous payments over Autonomous receipts
(d) Accommodating payments over Accommodating receipts

5. (A) From the statements given in Column I and Column II, choose the correct pair. 1

	Column - I		Column - II
A.	Vegetables grown in the Personal garden	(i)	Non marketing activity
B.	A car used as a taxi	(ii)	Consumer good
C.	An air-conditioner used by household	(iii)	Capital good
D.	Scholarship given to students by government	(iv)	Factor income

Alternatives :

- (a) A – (i) (b) B – (ii)
(c) C – (iii) (d) D – (iv)

OR



(B) निम्नलिखित तालिका को पूरा करें :

1

उत्पादक	उत्पादन का मूल्य	मध्यवर्ती उपभोग	मूल्य वृद्धि
कृषक (Farmer)	2000	—	2000
बेकर (Baker)(i).....	2000	2000
खुदरा विक्रेता (Retail Seller)	4,400(iii)....	400
कुल योग(ii)....	6,000(iv)....

विकल्प :

- (a) 4000, 10400, 4000, 4000 (b) 4000, 10400, 4000, 4400
(c) 2000, 6000, 6000, 4400 (d) 4000, 10400, 6000, 4000

6. (A) यदि किसी अर्थव्यवस्था में, निवेश गुणक 4 तथा स्वायत्त उपभोग ₹ 30 करोड़ हैं, तो प्रासंगिक उपभोग फलन _____ होगा। (सही विकल्प द्वारा रिक्त स्थान की पूर्ति करें)

1

- (a) $C = 30 + 0.75 Y$ (b) $C = (-) 30 + 0.25 Y$
(c) $C = 30 + 0.25 Y$ (d) $C = (-) 30 - 0.25 Y$

अथवा

(B) यदि राष्ट्रीय आय में वृद्धि व बचत में वृद्धि बराबर हैं, तो सीमांत उपभोग प्रवृत्ति (MPC) का मूल्य _____ होगा। (सही विकल्प द्वारा रिक्त स्थान की पूर्ति करें)

1

- (a) इकाई के बराबर (b) इकाई से बड़ा
(c) इकाई से कम (d) शून्य के बराबर

7. निम्नलिखित कथनों का ध्यान से अध्ययन करें :

1

कथन 1 : भारत में मुद्रा आपूर्ति (M_1) में, वाणिज्यिक बैंकों के पास 'माँग जमा' सम्मिलित नहीं होते हैं।

कथन 2 : मुद्रा आपूर्ति (M_1) से तात्पर्य, एक विशेष अवधि के दौरान वाणिज्यिक बैंकों के पास उपलब्ध सम्पत्तियों से है।

दिए गए कथनों के आलोक में, निम्नलिखित में से सही विकल्प का चयन कीजिए :

- (a) कथन 1 सत्य है और कथन 2 असत्य है।
(b) कथन 1 असत्य है और कथन 2 सत्य है।
(c) कथन 1 और 2 दोनों सत्य हैं।
(d) कथन 1 और 2 दोनों असत्य हैं।



(B) Complete the table :

1

Producer	Value of output	Intermediate Consumption	Value Added
Farmer	2000	–	2000
Baker(i).....	2000	2000
Retail Seller	4,400(iii)....	400
Total(ii)....	6,000(iv)....

Alternatives :

- (a) 4000, 10400, 4000, 4000 (b) 4000, 10400, 4000, 4400
(c) 2000, 6000, 6000, 4400 (d) 4000, 10400, 6000, 4000

6. (A) If in an economy, the Investment Multiplier is 4 and Autonomous Consumption is ₹ 30 crore, the relevant consumption function would be _____.

(Fill up the blank with correct alternative)

1

- (a) $C = 30 + 0.75 Y$ (b) $C = (-) 30 + 0.25 Y$
(c) $C = 30 + 0.25 Y$ (d) $C = (-) 30 - 0.25 Y$

OR

(B) If increase in National Income is equal to increase in Savings, the value of Marginal propensity to Consume would be _____.

1

(Fill up the blank with correct alternative)

- (a) equal to unity (b) greater than one
(c) less than one (d) equal to zero

7. Read the following statements carefully :

1

Statement 1 : Money supply (M_1) in India does not include 'demand deposits' with commercial banks.

Statement 2 : Money supply (M_1) refers to, assets available with the Commercial Banks during a particular period of time.

In the light of the given statements, choose the correct alternative.

- (a) Statement 1 is true and Statement 2 is false.
(b) Statement 1 is false and Statement 2 is true.
(c) Both statements 1 and 2 are true.
(d) Both statements 1 and 2 are false.



8. (A) मान लीजिए, एक ब्रिटिश पाउंड (£) का मूल्य, बाजार ताकतों के कारण, ₹ 70 से बढ़कर ₹ 80 हो गया है। इसके अनुसार भारतीय मुद्रा (₹) के मूल्य में _____ हुआ है।

(सही विकल्प का चयन करें) 1

- (a) मूल्यवर्धन (b) मूल्यहास
(c) पुनर्मूल्यन (d) अवमूल्यन

अथवा

(B) मान लीजिए, राष्ट्र Y की तुलना में राष्ट्र X में मुद्रास्फीति अधिक है। इस संदर्भ में, अन्य बातें समान रहने पर, निम्नलिखित में से किस परिस्थिति के होने की संभावना सर्वाधिक है ?

(सही विकल्प का चयन करें) 1

- (a) राष्ट्र X में व्यापार संतुलन अधिशेष
(b) राष्ट्र X में व्यापार संतुलन घाटा
(c) राष्ट्र X से राष्ट्र Y में निर्यात में वृद्धि
(d) राष्ट्र Y में व्यापार संतुलन घाटा

9. निम्नलिखित कथन को पढ़ें – अभिकथन (A) और कारण (R) नीचे दिए गए विकल्पों में से एक सही विकल्प चुनें :

1

अभिकथन (A) : पूर्ण रोजगार से तात्पर्य, अनैच्छिक बेरोजगारी के अभाव से है।

कारण (R) : पूर्ण रोजगार की स्थिति में, प्रचलित मजदूरी दर पर सभी सक्षम व इच्छुक व्यक्तियों को रोजगार प्राप्त होता है।

विकल्प :

- (a) अभिकथन (A) और कारण (R) दोनों सत्य हैं और कारण (R) अभिकथन (A) की सही व्याख्या है।
(b) अभिकथन (A) और कारण (R) दोनों सत्य हैं और कारण (R) अभिकथन (A) की सही व्याख्या नहीं है।
(c) अभिकथन (A) सत्य है लेकिन कारण (R) असत्य है।
(d) अभिकथन (A) असत्य है लेकिन कारण (R) सत्य है।

10. एक अर्थव्यवस्था में सीमांत बचत प्रवृत्ति (MPS) का मूल्य 0.25 है। यदि निवेश में वृद्धि ₹ 200 करोड़ है, तो आय में वृद्धि का मूल्य क्या होगा ?

1

- (a) ₹ 200 करोड़ (b) ₹ 150 करोड़
(c) ₹ 1,000 करोड़ (d) ₹ 800 करोड़

11. मान लीजिए किसी राष्ट्र में केवल एक वस्तु 'X' का ही उत्पादन होता है। वर्ष 2018 व 2019 में वस्तु X का उत्पादन क्रमशः 100 तथा 110 इकाई था। इन दो वर्षों में वस्तु X का मूल्य क्रमशः ₹ 50 तथा ₹ 55 क्रमशः था।

वर्ष 2018 को आधार वर्ष मानते हुए, वर्ष 2019 में वास्तविक सकल घरेलू उत्पाद (GDP) में प्रतिशत परिवर्तन की गणना करें।

3



8. (A) Suppose, the price of one UK Pound (£) has increased from ₹ 70 to ₹ 80, owing to market forces. 1

This means that value of Indian Currency (₹) has _____.

(Choose the correct alternative)

- (a) appreciated (b) depreciated
(c) revalued (d) devalued

OR

- (B) Suppose, Country X, has more inflation than Country Y. Which of the following is most likely situation to happen in such a case, assuming other factors being constant ?

(Choose the correct alternative) 1

- (a) A surplus trade balance in Country X
(b) A deficit trade balance for Country X
(c) A rise in exports from Country X to Country Y
(d) A deficit trade balance for Country Y

9. Read the following statements – Assertion(A) and Reason (R). Choose one of the correct alternatives given below : 1

Assertion (A) : Full employment refers to, absence of involuntary unemployment.

Reason (R) : Under full employment situation, all willing and able bodied people get employment at prevailing wage rate.

Alternatives :

- (a) Both Assertion (A) and Reason (R) are true and Reason (R) is the correct explanation of Assertion (A).
(b) Both Assertion (A) and Reason (R) are true but Reason (R) is not the correct explanation of Assertion (A).
(c) Assertion (A) is true, but Reason (R) is false.
(d) Assertion (A) is false, but Reason (R) is true.

10. In an economy, the value of Marginal Propensity to Save (MPS) is 0.25, what will be the value of increase in income, if investments increased by ₹ 200 crores ? 1

- (a) ₹ 200 crores (b) ₹ 150 crores
(c) ₹ 1,000 crores (d) ₹ 800 crores

11. Suppose only one Good 'X' is produced in the country. Output of Good X during year 2018 and 2019 were 100 units and 110 units respectively. The market price of the product during the two years was ₹ 50 and ₹ 55 per unit respectively.

Calculate the percentage change in Real Gross Domestic Product (GDP) in year 2019 using 2018 as the base year. 3



12. (a) मान्य कारणों द्वारा, उल्लेख करें कि निम्नलिखित कथन सत्य हैं अथवा असत्य : 3

(i) विदेशों में निवेश से प्राप्त लाभांश, पूँजी खाते के क्रेडिट पक्ष में दर्ज होता है।

(ii) भारतीय मुद्रा के मूल्यहास से भारतीय निर्यात को प्रोत्साहन मिलेगा।

अथवा

(b) स्वायत्त लेनदेन व समायोजन लेन-देनों में विभेद करें। 3

13. किसी अर्थव्यवस्था में, यदि नियोजित बचत नियोजित निवेश से अधिक है, तो आय, उत्पादन व रोजगार पर इसके संभावित प्रभाव की व्याख्या करें। 4

14. 6 अगस्त, 2022 को 'The Hindu' में प्रकाशित निम्नलिखित समाचार के अनुसार :
“भारतीय रिजर्व बैंक की मौद्रिक नीति समिति (MPC) ने रेपो दर में 50 आधार अंकों की वृद्धि की है।”
भारतीय रिजर्व बैंक की इस प्रकार की कार्यवाही के पीछे के संभावित कारण व परिणामों की पहचान व व्याख्या करें। 4

15. (a) सरकार के एजेंट व सलाहकार के रूप में केन्द्रीय बैंक की भूमिका की व्याख्या करें। 4

अथवा

(b) रिवर्स रेपो दर को परिभाषित करें। संक्षेप में व्याख्या करें, किस प्रकार यह उपकरण वाणिज्यिक बैंकों द्वारा की गई साख सृजन को नियंत्रित करता है। 4

16. (a) (I) किसी राष्ट्र की राष्ट्रीय आय की गणना करने में निम्नलिखित को किस प्रकार व्यवहार में लाया जायेगा ? मान्य कारण दें। 3

(i) भारत में विदेशी बैंकों द्वारा अर्जित लाभ।

(ii) एक फर्म द्वारा अचल परिसंपत्ति के सुधार पर व्यय।

(II) मान लीजिए, किसी वित्तीय वर्ष में एक राष्ट्र का बाजार मूल्य पर सकल घरेलू उत्पाद (GDP) ₹ 1,100 करोड़ था। विदेशों से प्राप्त शुद्ध कारक आय ₹ 100 करोड़, शुद्ध अप्रत्यक्ष कर ₹ 150 करोड़ तथा राष्ट्रीय आय ₹ 850 करोड़ थी। 3
उपरोक्त सूचना के आधार पर मूल्यहास के मूल्य की गणना करें।

अथवा



-
12. (a) Giving valid reasons, state whether the following statements are true or false : 3
- (i) Dividend received from investment abroad is recorded on the credit side of the capital account.
- (ii) Depreciation of the Indian Currency will lead to promotion of Indian exports.

OR

- (b) Distinguish between Autonomous transactions and Accommodating transactions. 3
13. If planned savings exceeds planned investments in an economy, explain its likely impact on income, output and employment. 4
14. As per the following news published in 'The Hindu' on 6th August, 2022 :
'The Monetary Policy Committee (MPC) of the Reserve Bank of India raised the Repo Rate by 50 basis points.'
Identify and explain the likely cause and consequences behind this type of action taken by the Reserve Bank of India. 4

15. (a) Explain the role of Central Bank as Governments' agent and advisor. 4
- OR**
- (b) Define Reverse Repo Rate. Discuss briefly, how this instrument helps in controlling credit creation by commercial banks. 4

16. (a) (I) How should the following be treated in estimating National Income of a Country ? Give valid reasons. 3
- (i) Profits earned by Foreign Banks in India.
- (ii) Expenditure on upgradation of fixed asset by a firm.
- (II) Suppose in a financial year, the Gross Domestic Product (GDP) at market price of a country was ₹ 1,100 crore. Net factor income from Abroad was ₹ 100 crore, the net indirect taxes was ₹ 150 crore and National income was ₹ 850 crore. 3
- Calculate the value of depreciation, on the basis of above information.

OR



- (b) (I) “व्यय विधि द्वारा सकल घरेलू उत्पाद (GDP) का आकलन करते समय, पूरा ध्यान राष्ट्र के निवासियों द्वारा किए गए व्यय पर केन्द्रित होता है।”

3

क्या आप दिए गए कथन से सहमत हैं ? अपने उत्तर के समर्थन में मान्य कारण दें।

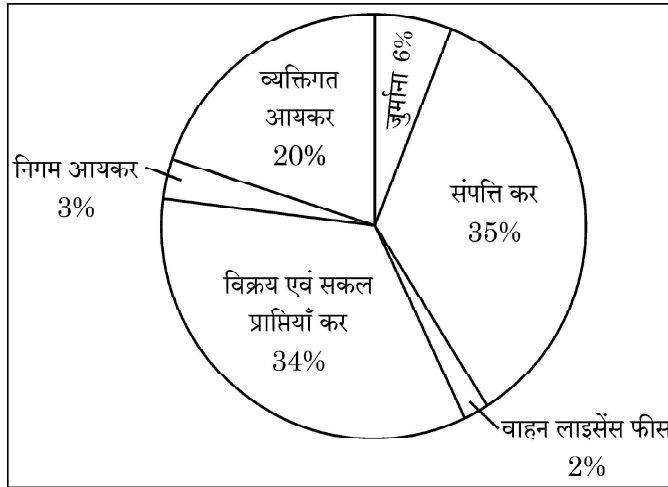
- (II) निम्नलिखित आँकड़ों द्वारा घरेलू आय की गणना करें :

3

क्रम सं.	मदें	राशि (₹ करोड़ में)
(i)	किराया व रॉयल्टी	1,300
(ii)	शुद्ध अप्रत्यक्ष कर	200
(iii)	वेतन व मजदूरी (नकद व प्रकार में)	1,700
(iv)	निगम कर	400
(v)	मूल्यहास	400
(vi)	प्रतिधारित आय	300
(vii)	लाभांश	400
(viii)	विदेशों से प्राप्त शुद्ध साधन आय	(-) 120
(ix)	स्वनियोजितों की मिश्रित आय	1,400
(x)	स्टॉक में परिवर्तन	(-) 200

17. दिए गए चित्र का सावधानी से अध्ययन करें :

एक वित्त वर्ष के लिए राज्य एवं स्थानीय
निकाय के कर राजस्व के स्रोत



दिए गए चित्र व सामान्य ज्ञान के आधार पर निम्नलिखित प्रश्नों के उत्तर दें :

- (a) चित्र में दी गई मदों को कर / गैर-कर प्राप्तियों में वर्गीकृत करें।
- (b) “सरकार ने निर्धनों को शिक्षा व स्वास्थ्य जैसी निःशुल्क सेवाएँ प्रदान करने पर अधिक व्यय करना प्रारंभ कर दिया है।”

3

3

उपरोक्त कथन के आलोक में, व्याख्या करें कि ‘आय की असमानताओं’ को कम करने के लिए सरकार बजटीय नीतियों का किस प्रकार प्रयोग कर सकती है।



- (b) (I) “While estimating Gross Domestic Product (GDP) by expenditure method, entire focus is on expenditures incurred by the residents of the country.”

3

Do you agree with the given statement ? Give valid reason in support of your answer.


- (II) Calculate the value of Domestic Income from the following data :

3

S. No.	Particulars	Amount in (₹ crores)
(i)	Rent and Royalties	1,300
(ii)	Net Indirect Taxes	200
(iii)	Wages & Salaries (in cash & in kind)	1,700
(iv)	Corporate Tax	400
(v)	Depreciation	400
(vi)	Retained Earnings	300
(vii)	Dividends	400
(viii)	Net Factor Income from Abroad	(-) 120
(ix)	Mixed Income of Self Employed	1,400
(x)	Change in Stock	(-) 200

17. Study the given picture carefully :

Sources of State and Local government tax revenues for a financial year



Answer the following questions based on common knowledge and picture :

- (a) Categorise the given items in the picture into tax /non-tax receipts. 3
- (b) “Government has started spending more on providing free services like education and health to the poor.” 3

In the light of above statement, explain how the government can use the budgetary policy in reducing ‘inequalities of income’.



खण्ड – ख

(भारतीय अर्थव्यवस्था का विकास)

18. भारत में ब्रिटिश शासन के अंतर्गत, भारतीय कृषि उत्पाद में _____ के कारण गतिहीनता का अनुभव किया गया था। (सही विकल्प का चयन करें) 1

- (a) हस्तशिल्प में कमी (b) भारतीय सम्पत्तियों की निकासी
(c) भू-व्यवस्था (d) रेलवे के आगमन

19. (A) प्रथम चरण में आरंभ की गई हरित क्रांति के दौरान उत्पादन केवल _____ तक सीमित था। (सही विकल्प का चयन करें) 1

- (a) अनाज व दालों (b) गेहूँ व चावल
(c) कपास व जूट (d) ज्वार व बाजरा

अथवा

(B) _____ को भारतीय योजना के निर्माता के रूप में जाना जाता है। 1

- (a) जवाहरलाल नेहरू (b) पी.सी. महलनोबिस
(c) डॉ. मनमोहन सिंह (d) डॉ. राजेन्द्र प्रसाद

20. (A) निम्नलिखित कथनों का ध्यानपूर्वक अध्ययन करें : 1

कथन 1 : 1950 के दशक में चीन में महान सर्वहारा सांस्कृतिक क्रांति का आरंभ हुआ था।

कथन 2 : चीन के विकास में मुख्यतः उत्पादन क्षेत्र का योगदान है।

दिए गए कथनों के आलोक में, निम्नलिखित में से सही विकल्प का चयन कीजिए :

- (a) कथन 1 सत्य है और कथन 2 असत्य है।
(b) कथन 1 असत्य है और कथन 2 सत्य है।
(c) कथन 1 और 2 दोनों सत्य हैं।
(d) कथन 1 और 2 दोनों असत्य हैं।

अथवा

(B) निम्नलिखित में से असत्य कथन की पहचान करें : (सही विकल्प का चयन करें) 1

- (a) चीन की आर्थिक वृद्धि दर पाकिस्तान से बेहतर है।
(b) पाकिस्तान HDI रैंकिंग में भारत से पीछे है।
(c) पाकिस्तान ने 'एकल बालक नीति' का मानदंड अपनाया था।
(d) 1991 में भारत ने नवीन आर्थिक सुधारों को अपनाया था।



SECTION – B
(Indian Economic Development)

18. During the British rule in India, Indian agricultural output witnessed stagnation due to _____. (Choose the correct alternative) **1**
- (a) Decline in handicrafts (b) Drain of Indian wealth
(c) Land settlement (d) Introduction of railways

19. (A) In the first phase of Green Revolution, output was restricted mainly to _____. (Choose the correct alternative) **1**
- (a) Cereals and Pulses (b) Wheat and Rice
(c) Cotton and Jute (d) Jowar and Bajra

OR

- (B) _____ is known as the architect of Indian Planning. **1**
- (a) Jawaharlal Nehru (b) P.C. Mahalanobis
(c) Dr. Manmohan Singh (d) Dr. Rajendra Prasad

20. (A) Read the following statements carefully : **1**

Statement 1 : Great Proletarian Cultural Revolution was introduced in China in 1950's.

Statement 2 : China's growth is mainly contributed by the manufacturing sector.

In the light of given statements, choose the correct alternative from the following :

- (a) Statement 1 is true and Statement 2 is false.
(b) Statement 1 is false and Statement 2 is true.
(c) Both statements 1 and 2 are true.
(d) Both statements 1 and 2 are false.

OR

- (B) Identify the incorrect statement from the following : **1**
- (Choose the correct alternative)

- (a) China's Economic growth rate is better than that of Pakistan.
(b) Pakistan is behind India in HDI ranking.
(c) One Child Policy norm was adopted in Pakistan
(d) In 1991, India adopted New Economic Reforms.



21. _____ वह शीर्ष संस्था है, जो ग्रामीण ऋण आवश्यकताओं से संबंधित नीति नियोजन व मूल्यांकन करती है।

1

- (a) सहकारी ऋण समितियाँ (b) क्षेत्रीय ग्रामीण बैंक
(c) स्वयं सहायता समूह (d) नाबार्ड (NABARD)

22. निम्नलिखित कथन को पढ़ें – अभिकथन (A) और कारण (R) नीचे दिए गए विकल्पों में से एक सही विकल्प चुनें :

1

अभिकथन (A) : 1980 के दशक में पाकिस्तान की आर्थिक विकास दर भारत से अधिक थी।

कारण (R) : पाकिस्तान ने निजी व सार्वजनिक क्षेत्र की बराबर भागीदारी वाली मिश्रित आर्थिक संरचना के मार्ग का अनुसरण किया था।

विकल्प :

- (a) अभिकथन (A) और कारण (R)। दोनों सत्य हैं और कारण (R) अभिकथन (A) की सही व्याख्या है।
(b) अभिकथन (A) और कारण (R) दोनों सत्य हैं और कारण (R) अभिकथन (A) की सही व्याख्या नहीं है।
(c) अभिकथन (A) सत्य है लेकिन कारण (R) असत्य है।
(d) अभिकथन (A) असत्य है लेकिन कारण (R) सत्य है।

23. पहचान करें, कि निम्नलिखित में से क्या भारत में मानव पूँजी निर्माण की समस्या से संबंधित है ?

1

- (i) प्रतिभा पलायन (ii) निम्न शैक्षणिक मानक
(iii) वृद्धिमान जनसंख्या (iv) सामाजिक दृष्टिकोण में परिवर्तन

विकल्प :

- (a) (i) व (ii) (b) (ii) व (iii)
(c) (i), (ii) व (iii) (d) (i) व (iv)



21. _____ is the apex institution which plans and evaluates policies related to rural credit needs. 1

- (a) Cooperative Credit Societies (b) Regional Rural Banks
(c) Self Help Groups (d) NABARD

22. Read the following statements – Assertion (A) and Reason (R). Choose one of the correct alternatives given below : 1

Assertion (A) : During 1980's, economic growth rate of Pakistan was more than that of India.

Reason (R) : Pakistan followed the path of mixed economic structure with equal participation of the public and the private sector.

Alternatives :

- (a) Both Assertion (A) and Reason (R) are true and Reason (R) is the correct explanation of Assertion (A).
(b) Both Assertion (A) and Reason (R) are true but Reason (R) is not the correct explanation of Assertion (A).
(c) Assertion (A) is true, but Reason (R) is false.
(d) Assertion (A) is false, but Reason (R) is true.

23. Identify, which of the following are associated with the problem of human capital formation in India ? 1

- (i) Brain drain (ii) Low academic standards
(iii) Rising population (iv) Changes in social outlook

Alternatives :

- (a) (i) and (ii) (b) (ii) and (iii)
(c) (i), (ii) and (iii) (d) (i) and (iv)



24. निम्नलिखित कथनों को ध्यानपूर्वक पढ़ें : 1

कथन 1 : विशेष आर्थिक क्षेत्र (SEZ) नीति के कारण चीन में प्रचुर प्रत्यक्ष विदेशी निवेश (FDI) का प्रवाह हुआ था ।

कथन 2 : चीन का तीव्र औद्योगिक विकास 1981 में उसके आर्थिक सुधारों का परिणाम था ।

दिए गए कथनों के आलोक में, निम्नलिखित में से सही विकल्प का चयन कीजिए :

- (a) कथन 1 सत्य है और कथन 2 असत्य है ।
- (b) कथन 1 असत्य है और कथन 2 सत्य है ।
- (c) कथन 1 और 2 दोनों सत्य हैं ।
- (d) कथन 1 और 2 दोनों असत्य हैं ।

25. पहचान करें कि, पर्यावरण के संदर्भ में, निम्नलिखित में से कौन सा कार्य असत्य है ? 1

- (a) संसाधनों की आपूर्ति करना
- (b) अपशेष समाहित करना
- (c) भूमि अपक्षय
- (d) सौंदर्य विषयक सेवाएँ प्रदान करना

26. पहचान करें कि, निम्नलिखित में से 'श्रमिक जनसंख्या अनुपात' की गणना के लिए कौन सा सूत्र सही है ? 1
(सही विकल्प का चयन करें)

- (a) $\frac{\text{कुल श्रम शक्ति}}{\text{कुल जनसंख्या}} \times 100$
- (b) $\frac{\text{कुल श्रमिक}}{\text{कुल जनसंख्या}} \times 100$
- (c) $\frac{\text{कुल जनसंख्या}}{\text{कुल श्रम शक्ति}} \times 100$
- (d) $\frac{\text{कुल जनसंख्या}}{\text{कुल श्रमिक}} \times 100$

27. निम्नलिखित कथनों का ध्यान से अध्ययन करें : 1

कथन 1 : चीन की प्रथम पंचवर्षीय योजना 1956 में प्रारंभ हुई थी ।

कथन 2 : सोवियत संघ (USSR) का अनुकरण करते हुए भारत व चीन दोनों ने समाजवादी अर्थव्यवस्था मॉडल का चयन किया था ।

दिए गए कथनों के आलोक में, निम्नलिखित में से सही विकल्प का चयन कीजिए :

- (a) कथन 1 सत्य है और कथन 2 असत्य है ।
- (b) कथन 1 असत्य है और कथन 2 सत्य है ।
- (c) कथन 1 और 2 दोनों सत्य हैं ।
- (d) कथन 1 और 2 दोनों असत्य हैं ।



24. Read the following statements carefully : 1

Statement 1 : Special Economic Zones (SEZ's) policy has led to huge Foreign Direct Investment (FDI) flow to China.

Statement 2 : China's rapid industrial growth was the result of its economic reform in 1981.

In the light of the given statements, choose the correct alternative :

- (a) Statement 1 is true and Statement 2 is false.
- (b) Statement 1 is false and Statement 2 is true.
- (c) Both statements 1 and 2 are true.
- (d) Both statements 1 and 2 are false.

25. Identify, which of the following is an incorrect function of environment ? 1

- (a) Supplies resources
- (b) Assimilates waste
- (c) Land degradation
- (d) Provides aesthetic services

26. Identify, which of the following is the correct formula for calculating 'Worker-Population Ratio' ? (Choose the correct alternative) 1

- (a) $\frac{\text{Total Labour Force}}{\text{Total Population}} \times 100$
- (b) $\frac{\text{Total Workers}}{\text{Total Population}} \times 100$
- (c) $\frac{\text{Total Population}}{\text{Total Labour Force}} \times 100$
- (d) $\frac{\text{Total Population}}{\text{Total Workers}} \times 100$

27. Read the following statements carefully : 1

Statement 1 : First Five Year Plan of China commenced in the year 1956.


Statement 2 : Both India and China adopted Socialist Economy model, following USSR.

In the light of the given statements, choose the correct alternative :

- (a) Statement 1 is true and Statement 2 is false.
- (b) Statement 1 is false and Statement 2 is true.
- (c) Both statements 1 and 2 are true.
- (d) Both statements 1 and 2 are false.



28. वर्तमान पर्यावरणीय चुनौतियों के संदर्भ में, दिए गए चित्र में, धरती की परिस्थिति की व्याख्या करें : 3



29. (a) “भारतीय ग्रामीण क्षेत्रों में, एक परिवार के अधिक व्यक्ति कार्यरत होते हैं, फिर भी परिवार की कुल आय सामान्यतः कम होती है।”
दिए गए कथन में संदर्भित बेरोजगारी की पहचान करें तथा इससे संबंधित विरोधाभास की व्याख्या करें। 3

अथवा

- (b) गरीबों की ऋण आवश्यकताओं को पूरा करने में सूक्ष्म साख प्रणाली की भूमिका की व्याख्या करें। 3
30. भारत एवं चीन की सकल घरेलू उत्पाद (GDP) की वार्षिक वृद्धि से संबंधित निम्नलिखित सूचना की तुलना व विश्लेषण करें : 4

सकल घरेलू उत्पाद की वार्षिक वृद्धि

राष्ट्र	1980 – 90	2015 – 17
भारत	5.7	7.3
चीन	10.3	6.8

(स्रोत : Asian Development Bank, Philippines, World Development Indicator – 2018)

31. (a) (i) ‘निजीकरण’ का अर्थ लिखें। 1
(ii) ‘आर्थिक सुधार प्रक्रिया से कृषि क्षेत्र पर प्रतिकूल प्रभाव हुआ है।’ टिप्पणी करें। 3


अथवा

- (b) ब्रिटिश शासन द्वारा आधारभूत संरचना के विकास के किन्हीं दो कारणों का उल्लेख व व्याख्या करें। 4
32. मान्य कारणों द्वारा उल्लेख करें कि, निम्नलिखित कथन सत्य हैं अथवा असत्य :
(a) उच्च उत्पादकता व उत्पादन मानव संसाधनों में निवेश का परिणाम है। 2
(b) जनसंख्या में वृद्धि मानव पूँजी निर्माण की गुणवत्ता का कारण नहीं होती है। 2



28. Interpret the situation of earth as depicted in the given picture, with reference to current environmental challenges :

3



29. (a) “In rural areas of India, more members of a family are engaged in work, yet the gross income of the family is generally low.”
Identify the type of unemployment indicated in the above statement and explain the paradox associated with it.

3

OR

- (b) Explain the role of micro-credit system in meeting credit requirements of poor.

3

30. Compare and analyse the following information related to Annual Growth of Gross Domestic Product (GDP) of India and China :

4

Annual Growth of Gross Domestic Product

Country	1980 – 90	2015 – 17
India	5.7	7.3
China	10.3	6.8

(Source : Asian Development Bank, Philippines, World Development indicator – 2018)

31. (a) (i) State the meaning of ‘Privatisation’.
(ii) ‘Agriculture sector has been adversely affected by the Economic reform process.’ Comment.

1

3

OR

- (b) State and explain any two main causes behind infrastructural development by British rule.

4

32. State, with valid reasons whether, the following statements are true or false :

- (a) “Higher productivity and production are the outcome of investment in human resources.”
(b) Rising population is not the cause for quality of human capital formation.

2

2



-
33. (a) (i) कृषि विविधीकरण को परिभाषित करें। 2
(ii) जैविक कृषि का अर्थ बताएँ। व्याख्या करें कि, यह किस प्रकार धारणीय विकास को प्रोत्साहित करती हैं? 4

अथवा

- (b) (i) भारत में स्त्री शिक्षा के प्रोत्साहन की आवश्यकता पर चर्चा करें। 3
(ii) उदाहरण सहित पर्यावरण की अवशोषण क्षमता की व्याख्या करें। 3
34. निम्नलिखित गद्य का ध्यानपूर्वक अध्ययन करें तथा इसके व सामान्य ज्ञान के आधार पर दिए गए प्रश्नों का उत्तर दें :

भारत ने विश्व व्यापार संगठन से नियमों में ढील देने का आग्रह किया है, ताकि अपने सार्वजनिक स्टॉक से उन देशों को खाद्यानों का निर्यात किया जा सके जो खाद्य पदार्थों की कमी का सामना कर रहे हैं। भारत खाद्य असुरक्षा को कम करने में सहायता कर सकता है, परन्तु WTO की ओर से इन नियमों में ढील देने में कुछ संकोच हैं।

भारत की वित्त मंत्री ने कहा है कि खाद्य, ईंधन व उर्वरक वैश्विक सार्वजनिक वस्तुएँ हैं तथा विकासशील व उभरती हुई अर्थव्यवस्थाओं के लिए इनकी उपलब्धता सुनिश्चित करना महत्वपूर्ण है। उन्होंने भारत के मुख्य अनुभवों जैसे – कृषि उत्पादन में सुदृढ़ लाभ, नागरिक केन्द्रित खाद्य सुरक्षा कार्यक्रम व एक राष्ट्र, एक राशन कार्ड योजना जैसे अभिनव वितरण तंत्र, को भी साझा किया।

(Source : The Economic Times; July 16, 2022)

- (a) विश्व व्यापार संगठन के किन्हीं दो मुख्य उद्देश्यों का उल्लेख व व्याख्या करें। 4
(b) भारत द्वारा खाद्य सुरक्षा को सुदृढ़ बनाने के लिए किए गए किन्हीं दो कदमों का नाम लिखें। 2



-
33. (a) (i) Define Agricultural diversification. **2**
(ii) State the meaning of organic farming. Discuss how does it help in promoting sustainable development. **4**

OR

- (b) (i) Discuss the need for promoting women's education in India. **3**
(ii) Explain absorptive capacity of environment with example. **3**
34. Read the following text carefully and answer the given questions on the basis of the same and common understanding :

India urged the World Trade Organisation (WTO) to relax rules to allow the country to export food grains from its public stocks to the nations facing food crises. India can help, reduce food insecurity but there is hesitation on the part of the WTO, in relaxing its rules. India's Finance Minister said food, fuel and fertilizers are global public goods and ensuring access of these for developing and emerging economies is critical. She also shared India's experiences, including robust gains in agriculture production, citizen centric food security programmes and innovative delivery mechanisms such as the 'One Nation one Ration Card' Scheme.

(Source : The Economic Times; July 16, 2022)

- (a) State and discuss any two objectives of World Trade Organisation. **4**
(b) Name any two steps taken by India to strengthen the food security. **2**
-



58/5/1

246 A

24



Series HFG1E/1



SET-1

Q.P. Code **226/1/1**

Roll No.

--	--	--	--	--	--	--	--

Candidates must write the Q.P. Code on the title page of the answer-book.

ਅਰਥਸ਼ਾਸਤਰ
(ਪੰਜਾਬੀ ਉਲਥਾ)
ECONOMICS
(Punjabi Version)

ਸਮਾਂ ਸੀਮਾਂ : 3 ਘੰਟੇ

Time allowed : 3 hours

ਪੂਰਨ ਅੰਕ : 80

Maximum Marks : 80

- ਕਿਰਪਾ ਕਰਕੇ ਜਾਂਚ ਕਰ ਲਵੋ ਕਿ ਇਸ ਪ੍ਰਸ਼ਨ ਪੱਤਰ ਵਿਚ ਛਪੇ ਹੋਏ 15 ਪੰਨੇ ਹਨ ।
 - ਪ੍ਰਸ਼ਨ ਪੱਤਰ ਵਿਚ ਸੱਜੇ ਹੱਥ ਦੇ ਵਲ ਦਿੱਤੇ ਗਏ ਪ੍ਰਸ਼ਨ ਪੱਤਰ ਕੋਡ ਨੂੰ ਪ੍ਰੀਖਿਆਰਥੀ ਉੱਤਰ ਪੁਸਤਿਕਾ ਦੇ ਮੁੱਖ ਪੰਨੇ ਉਪਰ ਲਿਖਣ ।
 - ਕਿਰਪਾ ਕਰਕੇ ਜਾਂਚ ਕਰ ਲਵੋ ਕਿ ਇਸ ਪ੍ਰਸ਼ਨ ਪੱਤਰ ਵਿਚ 34 ਪ੍ਰਸ਼ਨ ਹਨ ।
 - ਕਿਰਪਾ ਕਰਕੇ ਪ੍ਰਸ਼ਨ ਦਾ ਉੱਤਰ ਲਿਖਣਾ ਸ਼ੁਰੂ ਕਰਨ ਤੋਂ ਪਹਿਲਾਂ, ਉੱਤਰ ਪੁਸਤਿਕਾ ਵਿਚ ਪ੍ਰਸ਼ਨ ਦਾ ਕ੍ਰਮਾਂਕ (ਸੀਰੀਅਲ ਨੰਬਰ) ਜ਼ਰੂਰ ਲਿਖੋ ।
 - ਇਸ ਪ੍ਰਸ਼ਨ ਪੱਤਰ ਨੂੰ ਪੜ੍ਹਨ ਦੇ ਲਈ 15 ਮਿੰਟ ਦਾ ਸਮਾਂ ਦਿੱਤਾ ਗਿਆ ਹੈ । ਪ੍ਰਸ਼ਨ ਪੱਤਰ ਸਵੇਰੇ 10.15 ਵਜੇ ਵੰਡੇ ਜਾਣਗੇ । 10.15 ਵਜੇ ਤੋਂ 10.30 ਵਜੇ ਤਕ ਪ੍ਰੀਖਿਆਰਥੀ ਕੇਵਲ ਪ੍ਰਸ਼ਨ ਪੱਤਰ ਨੂੰ ਪੜ੍ਹਨਗੇ ਅਤੇ ਇਸ ਸਮੇਂ ਵਿਚ ਉਹ ਉੱਤਰ ਪੁਸਤਿਕਾ ਵਿਚ ਕੋਈ ਉੱਤਰ ਨਹੀਂ ਲਿਖਣਗੇ ।
 - Please check that this question paper contains 15 printed pages.
 - Q.P. Code given on the right hand side of the question paper should be written on the title page of the answer-book by the candidate.
 - Please check that this question paper contains 34 questions.
 - **Please write down the serial number of the question in the answer-book before attempting it.**
 - 15 minute time has been allotted to read this question paper. The question paper will be distributed at 10.15 a.m. From 10.15 a.m. to 10.30 a.m., the students will read the question paper only and will not write any
- * answer on the answer-book during this period.



ਵਿਆਪਕ ਨਿਰਦੇਸ਼ :

ਹੇਠ ਲਿਖੇ ਨਿਰਦੇਸ਼ਾਂ ਨੂੰ ਬਹੁਤ ਧਿਆਨ ਨਾਲ ਪੜ੍ਹੋ ਅਤੇ ਉਨ੍ਹਾਂ ਦਾ ਸਖਤੀ ਨਾਲ ਪਾਲਨ ਕਰੋ :

- (i) ਇਸ ਪ੍ਰਸ਼ਨ ਪੱਤਰ ਵਿਚ 34 ਪ੍ਰਸ਼ਨ ਹਨ । ਸਾਰੇ ਪ੍ਰਸ਼ਨ ਜ਼ਰੂਰੀ ਹਨ ।
- (ii) ਇਹ ਪ੍ਰਸ਼ਨ ਪੱਤਰ ਦੋ ਖੰਡਾਂ ਵਿਚ ਵੰਡਿਆ ਗਿਆ ਹੈ :
ਖੰਡ ਕ – ਸਮਸ਼ਟੀ ਅਰਥਸ਼ਾਸਤਰ
ਖੰਡ ਖ – ਭਾਰਤੀ ਆਰਥਿਕ ਵਿਕਾਸ
- (iii) ਇਸ ਪ੍ਰਸ਼ਨ ਪੱਤਰ ਵਿਚ ਇਕ-ਇਕ ਅੰਕ ਦੇ 20 ਬਹੁਵਿਕਲਪੀ ਪ੍ਰਸ਼ਨ ਹਨ ।
- (iv) ਇਸ ਪ੍ਰਸ਼ਨ ਪੱਤਰ ਵਿਚ ਤਿੰਨ-ਤਿੰਨ ਅੰਕਾਂ ਦੇ 4 ਛੋਟੇ ਉੱਤਰ ਵਾਲੇ ਪ੍ਰਕਾਰ-I ਦੇ ਪ੍ਰਸ਼ਨ ਹਨ ਜਿਨ੍ਹਾਂ ਦੇ ਉੱਤਰ 60 ਤੋਂ 80 ਸ਼ਬਦਾਂ ਵਿਚ ਲਿਖੇ ਜਾਣੇ ਚਾਹੀਦੇ ਹਨ ।
- (v) ਇਸ ਪ੍ਰਸ਼ਨ ਪੱਤਰ ਵਿਚ ਚਾਰ-ਚਾਰ ਅੰਕਾਂ ਦੇ 6 ਛੋਟੇ ਉੱਤਰ ਵਾਲੇ ਪ੍ਰਕਾਰ-II ਦੇ ਪ੍ਰਸ਼ਨ ਹਨ ਜਿਨ੍ਹਾਂ ਦੇ ਉੱਤਰ 80 ਤੋਂ 100 ਸ਼ਬਦਾਂ ਵਿਚ ਲਿਖੇ ਜਾਣੇ ਚਾਹੀਦੇ ਹਨ ।
- (vi) ਇਸ ਪ੍ਰਸ਼ਨ ਪੱਤਰ ਵਿਚ ਛੇ-ਛੇ ਅੰਕਾਂ ਦੇ 4 ਲੰਬੇ ਉੱਤਰ ਪ੍ਰਕਾਰ ਦੇ ਪ੍ਰਸ਼ਨ ਹਨ ਜਿਨ੍ਹਾਂ ਦੇ ਉੱਤਰ 100 ਤੋਂ 150 ਸ਼ਬਦਾਂ ਵਿਚ ਲਿਖੇ ਜਾਣੇ ਚਾਹੀਦੇ ਹਨ ।
- (vii) ਹਰ ਇਕ ਪ੍ਰਸ਼ਨ ਦੇ ਸਾਰੇ ਭਾਗਾਂ ਦੇ ਉੱਤਰ ਇਕੱਠੇ ਲਿਖੇ ਜਾਣੇ ਚਾਹੀਦੇ ਹਨ ।

ਖੰਡ ਕ

ਸਮਸ਼ਟੀ ਅਰਥਸ਼ਾਸਤਰ

1. ਹੇਠ ਲਿਖੇ ਕਥਨਾਂ ਨੂੰ ਧਿਆਨ ਨਾਲ ਪੜ੍ਹੋ :

ਕਥਨ 1: ਪ੍ਰਾਥਮਿਕ ਜਮਾਂ, ਆਮ ਜਨਤਾ ਰਾਹੀਂ ਵਪਾਰਕ ਬੈਂਕਾਂ ਦੇ ਕੋਲ ਨਗਦ ਜਮਾ, ਹੁੰਦੇ ਹਨ ।

ਕਥਨ 2: ‘ਵਪਾਰਕ ਬੈਂਕਾਂ ਰਾਹੀਂ ਆਮ ਜਨਤਾ ਨੂੰ ਦਿੱਤੇ ਗਏ ਉਧਾਰ ਦੇ ਕਾਰਨ ਬਣੀ ਜਮਾਂ ਨੂੰ ਦਵਿਤਿਅਕ ਜਮਾ ਕਹਿੰਦੇ ਹਨ ।’

ਦਿੱਤੇ ਗਏ ਕਥਨਾਂ ਦੀ ਰੋਸ਼ਨੀ ਵਿਚ, ਹੇਠ ਲਿਖਿਆਂ ਵਿਚੋਂ ਸਹੀ ਵਿਕਲਪ ਚੁਣੋ :

- (a) ਕਥਨ 1 ਸੱਚ ਹੈ ਅਤੇ ਕਥਨ 2 ਸੱਚ ਨਹੀਂ ਹੈ ।
- (b) ਕਥਨ 1 ਸੱਚ ਨਹੀਂ ਹੈ ਅਤੇ ਕਥਨ 2 ਸੱਚ ਹੈ ।
- (c) ਕਥਨ 1 ਅਤੇ 2 ਦੋਨੋਂ ਸੱਚ ਹਨ ।
- (d) ਕਥਨ 1 ਅਤੇ 2 ਦੋਨੋਂ ਸੱਚ ਨਹੀਂ ਹਨ ।

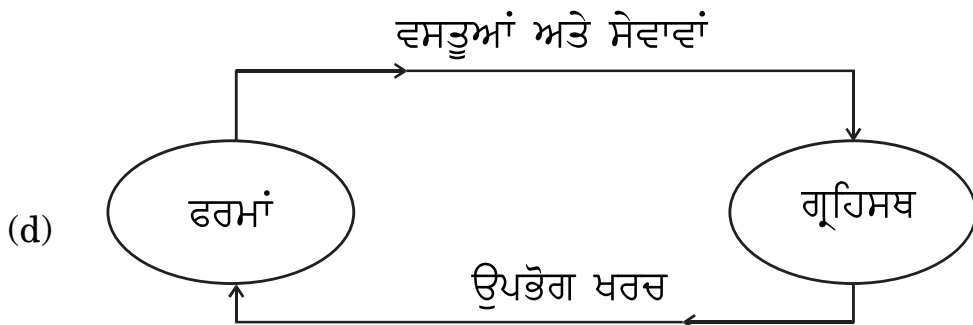
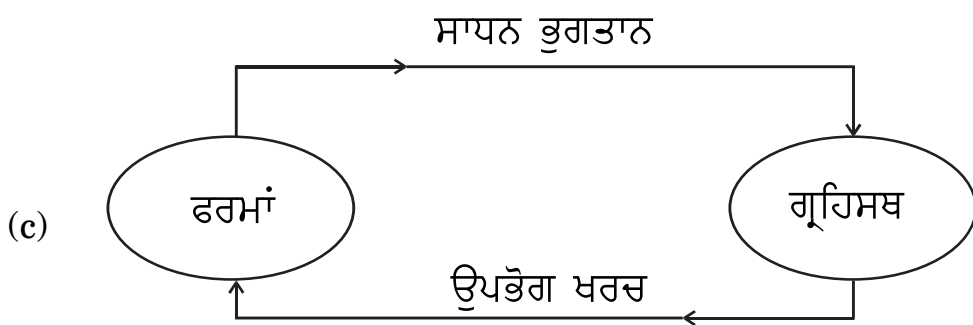
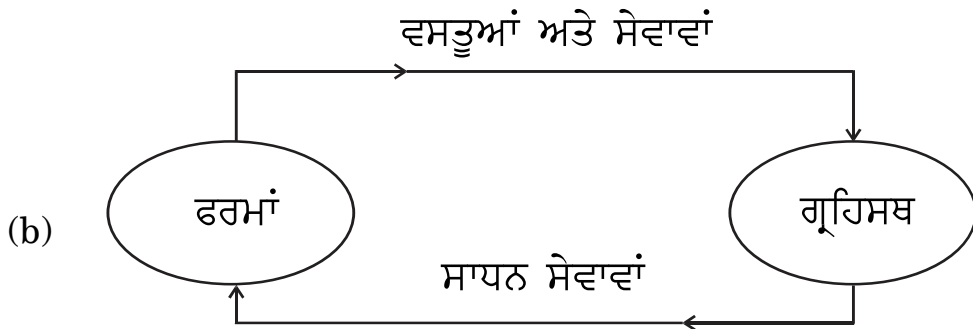
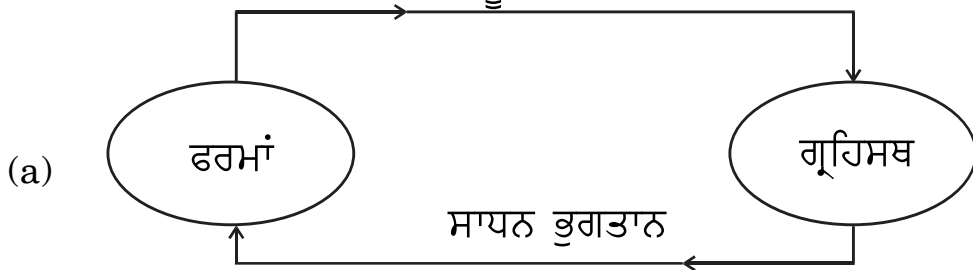


2. (A) ਬਾਜ਼ਾਰ ਮੁੱਲ ਤੇ ਰਾਸ਼ਟਰੀ ਆਮਦਨ ਅਤੇ ਸਾਧਨ ਲਾਗਤ ਤੇ ਰਾਸ਼ਟਰੀ ਆਮਦਨ ਦਾ ਅੰਤਰ _____ ਹੁੰਦਾ ਹੈ ।

(ਖਾਲੀ ਥਾਂ ਨੂੰ ਭਰਨ ਲਈ ਸਹੀ ਵਿਕਲਪ ਚੁਣੋ) 1

- (a) ਸ਼ੁੱਧ ਅਪ੍ਰਤੱਖ ਕਰ
- (b) ਵਿਦੇਸ਼ਾਂ ਤੋਂ ਪ੍ਰਾਪਤ ਸ਼ੁੱਧ ਸਾਧਨ ਆਮਦਨ
- (c) ਸਥਾਈ ਪੂੰਜੀ ਦਾ ਉਪਭੋਗ
- (d) ਬਜ਼ਾਰ ਮੁੱਲ

(B) ਪਛਾਣੋ ਕਿ ਹੇਠ ਲਿਖਿਆਂ ਵਿੱਚੋਂ ਕਿਹੜਾ ਕੇਵਲ ਵਾਸਤਵਿਕ ਪ੍ਰਵਾਹ ਨੂੰ ਦਰਸਾਂਦਾ ਹੈ ?



3. ਉਹ ਦਰ ਜਿਸ ਉਪਰ ਵਪਾਰਕ ਬੈਂਕ ਆਪਣੀਆਂ ਲੰਬੇ ਸਮੇਂ ਦੀਆਂ ਜ਼ਰੂਰਤਾਂ ਦੀ ਪੂਰਤੀ ਕਰਨ ਦੇ ਲਈ ਭਾਰਤੀ ਰਿਜ਼ਰਵ ਬੈਂਕ ਤੋਂ ਉਧਾਰ ਲੈਂਦੇ ਹਨ ਉਸਨੂੰ _____ ਕਿਹਾ ਜਾਂਦਾ ਹੈ । (ਖਾਲੀ ਥਾਂ ਨੂੰ ਭਰਨ ਲਈ ਸਹੀ ਵਿਕਲਪ ਚੁਣੋ) 1

- (a) ਮਾਰਜਿਨ ਜ਼ਰੂਰਤਾਂ (b) ਬੈਂਕ ਦਰ
(c) ਰੇਪੋ ਦਰ (d) ਰਿਵਰਸ ਰੇਪੋ ਦਰ

4. ਹੇਠ ਲਿਖੇ ਕਥਨਾਂ ਨੂੰ ਧਿਆਨ ਨਾਲ ਪੜ੍ਹੋ :

ਕਥਨ 1: ਕਿਸੇ ਰਾਸ਼ਟਰ ਰਾਹੀਂ ਆਪਣੇ ਭੁਗਤਾਨ ਸੰਤੁਲਨ ਦੇ ਘਾਟੇ ਨੂੰ ਬੈਲੇਂਸ ਆਫ ਪੇਮੇਂਟ (BoP) ਕਰਨ ਦੇ ਲਈ ਵਿਸ਼ਵ ਬੈਂਕ ਤੋਂ ਪ੍ਰਾਪਤ ਉਧਾਰ (ਰਿਣ) ਪੁੰਜੀ ਖਾਤੇ ਵਿਚ ਦਰਜ ਕੀਤਾ ਜਾਏਗਾ ।

ਕਥਨ 2: ਸਵਾਯਤ ਲੈਣ ਦੇਣ ਭੁਗਤਾਨ ਸੰਤੁਲਨ (BoP) ਦੀ ਹਾਲਤ ਤੋਂ ਸਵਤੰਤਰ ਹੁੰਦੇ ਹਨ ।

ਦਿਤੇ ਗਏ ਕਥਨਾਂ ਦੀ ਰੋਸ਼ਨੀ ਵਿਚ, ਹੇਠ ਲਿਖਿਆਂ ਵਿਚੋਂ ਸਹੀ ਵਿਕਲਪ ਚੁਣੋ : 1

- (a) ਕਥਨ 1 ਸੱਚ ਹੈ ਅਤੇ ਕਥਨ 2 ਸੱਚ ਨਹੀਂ ਹੈ ।
(b) ਕਥਨ 1 ਸੱਚ ਨਹੀਂ ਹੈ ਅਤੇ ਕਥਨ 2 ਸੱਚ ਹੈ ।
(c) ਕਥਨ 1 ਅਤੇ 2 ਦੋਨੋਂ ਸੱਚ ਹਨ ।
(d) ਕਥਨ 1 ਅਤੇ 2 ਦੋਨੋਂ ਸੱਚ ਨਹੀਂ ਹਨ ।

5. ਹੇਠ ਲਿਖੇ ਸਮਾਚਾਰ ਰਿਪੋਰਟ ਦਾ ਧਿਆਨ ਨਾਲ ਅਧਿਐਨ ਕਰੋ :

“ਕੇਂਦਰੀ ਬੈਂਕ ਨੇ ਹਿਸਾਰ ਸ਼ਹਿਰੀ ਸਹਕਾਰੀ ਬੈਂਕ ਲਿ. ਅਤੇ ਅੰਡਮਾਨ ਅਤੇ ਨਿਕੋਬਾਰ ਰਾਜ ਸਹਕਾਰੀ ਬੈਂਕ ਲਿ. ਉਪਰ ਬੈਂਕਿੰਗ ਨਿਯਮਾਂ ਦੇ ਉਲੰਘਣ ਦੇ ਲਈ ਜੁਰਮਾਨਾ ਲਗਾਇਆ ਹੈ ।”

ਦਿਤੀ ਗਈ ਰਿਪੋਰਟ ਦੇ ਆਧਾਰ ਤੇ ਕੇਂਦਰੀ ਬੈਂਕ ਦੇ ਕੰਮ ਦੀ ਪਛਾਣ ਕਰੋ : 1

- (a) ਕਰੇਂਸੀ ਜਾਰੀ ਕਰਨਾ (b) ਜਨਤਾ ਦਾ ਬੈਂਕ
(c) ਸਰਕਾਰ ਦਾ ਬੈਂਕ (d) ਬੈਂਕਾਂ ਦਾ ਬੈਂਕ

6. (A) ਜੇਕਰ ਨਿਵੇਸ਼ ਸੁਲਕ ਦਾ ਮੁਲ = 4 ਅਤੇ ਅਣਬੱਚਤ = (-) 60 ਹੈ, ਤਾਂ ਹੇਠ ਲਿਖਿਆਂ ਵਿਚੋਂ ਸਹੀ ਬੱਚਤ ਫਲਨ ਦੀ ਪਛਾਣ ਕਰੋ : 1

- (a) $S = (-) 60 + 0.25 Y$ (b) $S = (-) 60 + 0.75 Y$
(c) $S = (-) 60 + 0.20 Y$ (d) $S = (-) 60 + 0.60 Y$

ਜਾਂ



(B) ਦਿਤੇ ਗਏ ਉਪਭੋਗ ਫਲਨ $C = 205 + 0.9 Y$ ਦੇ ਲਈ, ਨਿਵੇਸ਼ ਗੁਣਕ ਦਾ ਮੁਲ _____ ਹੋਵੇਗਾ। (ਖਾਲੀ ਥਾਂ ਨੂੰ ਭਰਨ ਲਈ ਸਹੀ ਵਿਕਲਪ ਚੁਣੋ) 1

(a) 0.09

(b) 10.0

(c) 0.9

(d) 9.0

7. ਹੇਠ ਲਿਖੇ ਕਥਨਾਂ ਨੂੰ ਪੜ੍ਹੋ : ਦਰਿੜਕਥਨ (A) ਅਤੇ ਕਾਰਨ (R)। ਹੇਠ ਦਿਤੇ ਗਏ ਵਿਕਲਪਾਂ ਵਿਚੋਂ ਕਿਸੇ ਇਕ ਸਹੀ ਵਿਕਲਪ ਨੂੰ ਚੁਣੋ : 1

ਦਰਿੜਕਥਨ (A): ਆਮਦਨ ਦੇ ਸਮਸਤਰ (Break-Even) ਬਿੰਦੂ ਤੇ ਪਹੁੰਚਣ ਤੋਂ ਪਹਿਲੇ, ਔਸਤ ਉਪਭੋਗ ਪ੍ਰਵਿਰਤੀ (APC) ਦਾ ਮੁਲ ਇਕਾਈ ਤੋਂ ਵਧੇਰੇ ਹੁੰਦਾ ਹੈ।

ਕਾਰਨ (R): ਔਸਤ ਉਪਭੋਗ ਪ੍ਰਵਿਰਤੀ (APC), ਕੁਲ ਉਪਭੋਗ ਅਤੇ ਕੁਲ ਆਮਦਨ ਦਾ ਅਨੁਪਾਤ ਹੁੰਦਾ ਹੈ।

ਵਿਕਲਪ :

(a) ਦਰਿੜਕਥਨ (A) ਅਤੇ ਕਾਰਨ (R) ਦੋਨੋਂ ਸਹੀ ਹਨ ਅਤੇ ਕਾਰਨ (R), ਦਰਿੜਕਥਨ (A) ਦੀ ਸਹੀ ਵਿਆਖਿਆ ਹੈ।

(b) ਦਰਿੜਕਥਨ (A) ਅਤੇ ਕਾਰਨ (R) ਦੋਨੋਂ ਸਹੀ ਹਨ, ਪਰ ਕਾਰਨ (R), ਦਰਿੜਕਥਨ (A) ਦੀ ਸਹੀ ਵਿਆਖਿਆ ਨਹੀਂ ਹੈ।

(c) ਦਰਿੜਕਥਨ (A) ਸਹੀ ਹੈ, ਪਰ ਕਾਰਨ (R) ਸਹੀ ਨਹੀਂ ਹੈ।

(d) ਦਰਿੜਕਥਨ (A) ਸਹੀ ਨਹੀਂ ਹੈ, ਪਰ ਕਾਰਨ (R) ਸਹੀ ਹੈ।

8. (A) ਮੰਨ ਲਓ ਕਿ ਇਕ ਰਾਸ਼ਟਰ ਦਾ ਵਪਾਰ ਸੰਤੁਲਨ ₹ 50,000 ਕਰੋੜ ਦਾ ਘਾਟਾ ਦਰਸਾਂਦਾ ਹੈ। ਦਿਖਦੀਆਂ ਵਸਤੂਆਂ ਦਾ ਦਰਾਮਦ (ਆਯਾਤ), ਦਿਖਦੀਆਂ ਵਸਤੂਆਂ ਦੀ ਬਰਾਮਦ (ਨਿਰਯਾਤ) ਦਾ ਪੰਜ ਗੁਣਾ ਹੈ। ਦਿਖਦੀਆਂ ਵਸਤੂਆਂ ਦੀ ਬਰਾਮਦ (ਨਿਰਯਾਤ) ਦਾ ਮੁਲ ₹ _____ ਕਰੋੜ ਹੋਵੇਗਾ।

(ਖਾਲੀ ਥਾਂ ਨੂੰ ਭਰਨ ਲਈ ਸਹੀ ਵਿਕਲਪ ਚੁਣੋ) 1

(a) 20,000

(b) 10,000

(c) 12,500

(d) 20,300

ਜਾਂ



(B) ਵਿਦੇਸ਼ਾਂ ਨੂੰ ਭੇਜੇ ਗਏ ਤੋਹਫੇ ਅਤੇ ਭੇਜੀ ਗਈ ਰਕਮ, ਭੁਗਤਾਨ ਸੰਤੁਲਨ ਦੇ _____ ਖਾਤੇ ਦੇ _____ ਪੱਖ ਵਿਚ ਦਰਜ ਕੀਤੇ ਜਾਂਦੇ ਹਨ ।
(ਖਾਲੀ ਥਾਂ ਨੂੰ ਭਰਨ ਲਈ ਸਹੀ ਵਿਕਲਪ ਚੁਣੋ) 1

- (a) ਪੂੰਜੀ, ਕ੍ਰੇਡਿਟ (b) ਪੂੰਜੀ, ਡੇਬਿਟ
(c) ਚਾਲੂ, ਕ੍ਰੇਡਿਟ (d) ਚਾਲੂ, ਡੇਬਿਟ

9. ਪਛਾਣੋ ਕਿ ਹੇਠ ਲਿਖਿਆਂ ਵਿਚੋਂ ਕਿਹੜਾ ਸਮੀਕਰਣ ਸਹੀ ਹੈ ? (ਸਹੀ ਵਿਕਲਪ ਚੁਣੋ) 1

- (a) $MPC + MPS = 0$ (b) $MPC + MPS = 1$
(c) $MPC + MPS > 1$ (d) $MPC + MPS < 1$

10. ਅਜੇਹੀ ਸਥਿਤੀ ਜਿਥੇ ਇਕ ਸਮਰੱਥ ਮਨੁੱਖ ਵਰਤਮਾਨ ਮਜ਼ਦੂਰੀ ਦਰ ਤੇ ਕੰਮ ਕਰਨ ਨੂੰ ਤਿਆਰ ਨਹੀਂ ਹੁੰਦਾ ਹੈ, ਉਹ _____ ਸਥਿਤੀ ਕਹਲਾਉਂਦੀ ਹੈ ।
(ਖਾਲੀ ਥਾਂ ਨੂੰ ਭਰਨ ਲਈ ਸਹੀ ਵਿਕਲਪ ਚੁਣੋ) 1

- (a) ਪੂਰਨ ਰੁਜ਼ਗਾਰ
(b) ਅਨਇੱਛਕ ਬੇਰੋਜ਼ਗਾਰੀ
(c) ਇੱਛਕ ਬੇਰੋਜ਼ਗਾਰੀ
(d) ਛੁਪੀ ਹੋਈ ਬੇਰੋਜ਼ਗਾਰੀ

11. (a) 'ਮੁੱਲ ਵਾਧਾ' ਅਤੇ 'ਉਤਪਾਦਨ ਦਾ ਅੰਤਲਾ ਮੁਲ' ਵਿਚ ਅੰਤਰ ਸਪਸ਼ਟ ਕਰੋ । 3
ਜਾਂ

(b) ਹੇਠ ਲਿਖੀ ਸੂਚਨਾ ਰਾਹੀਂ, ਫਰਮ A ਦੇ ਮੁੱਲ ਵਾਧੇ ਦੀ ਗਣਨਾ ਕਰੋ : 3

ਕ੍ਰਮ ਸੰਖਿਆ	ਮਦਾਂ	ਰਕਮ (₹ ਕਰੋੜ ਵਿਚ)
(i)	ਫਰਮ A ਰਾਹੀਂ ਕਾਰਕ ਆਗਤਾਂ ਦੀ ਖਰੀਦ	5
(ii)	ਫਰਮ A ਰਾਹੀਂ ਗੈਰ ਕਾਰਕ ਆਗਤਾਂ ਦੀ ਖਰੀਦ	2
(iii)	ਘਰੇਲੂ ਅਰਥਵਿਵਸਥਾ ਵਿਚ ਫਰਮ A ਰਾਹੀਂ ਦੂਸਰੀਆਂ ਫਰਮਾਂ ਨੂੰ ਕੀਤੀ ਗਈ ਵਿਕਰੀ	10
(iv)	ਬਾਕੀ ਸੰਸਾਰ ਤੋਂ ਫਰਮ A ਰਾਹੀਂ ਕਚੇ ਮਾਲ ਦਾ ਦਰਾਮਦ	50
(v)	ਮੁਢਲੇ ਸਟਾਕ ਦੀ ਅੰਤਲੇ ਸਟਾਕ ਨਾਲੋਂ ਅਧਿਕਤਾ	3



12. “ਵਿਦੇਸ਼ੀ ਵਿਨਿਮੇ ਦਰ ਅਤੇ ਵਿਦੇਸ਼ੀ ਮੁਦਰਾ ਦੀ ਆਪੂਰਤੀ ਵਿਚ ਧਨਾਤਮਕ ਸਹਸੰਬੰਧ ਹੁੰਦਾ ਹੈ ।” ਕੀ ਤੁਸੀਂ ਦਿਤੇ ਹੋਏ ਕਥਨ ਨਾਲ ਸਹਿਮਤ ਹੋ ? ਆਪਣੇ ਉੱਤਰ ਦੀ ਢੁਕਵੀਆਂ ਦਲੀਲਾਂ ਰਾਹੀਂ ਪੁਸ਼ਟੀ ਕਰੋ । 3

13. ਜੇਕਰ ਨਿਯੋਜਿਤ ਬਚਤ ਨਿਯੋਜਿਤ ਨਿਵੇਸ਼ ਤੋਂ ਘਟ ਹੋਵੇ ਤਾਂ ਸਮਾਯੋਜਨ ਤੰਤਰ ਦੀ ਵਿਆਖਿਆ ਕਰੋ । 4

14. 26 ਸਤੰਬਰ, 2022 ਨੂੰ ਛਪੀ ਹੇਠ ਲਿਖੀ ਖਬਰ ਨੂੰ ਪੜ੍ਹੋ :

“ਕੇਂਦਰੀ ਬੈਂਕ ਨੇ ਬੈਂਚਮਾਰਕ ਉਧਾਰ ਦਰ ਵਿਚ 140 ਆਧਾਰ ਅੰਕਾਂ ਦਾ ਵਾਧਾ ਕੀਤਾ ਹੈ ।”

ਭਾਰਤੀ ਰਿਜ਼ਰਵ ਬੈਂਕ ਰਾਹੀਂ ਕੀਤੀ ਗਈ ਇਸ ਕਾਰਵਾਈ ਦੇ ਪਿਛੇ ਸੰਭਾਵਿਤ ਕਾਰਨ ਅਤੇ ਨਤੀਜਿਆਂ ਦੀ ਪਛਾਣ ਕਰੋ । 4

15. (a) ਕੇਂਦਰੀ ਬੈਂਕ ਦੇ ‘ਸਰਕਾਰ ਦੇ ਬੈਂਕ’ ਕੰਮ ਦੀ ਵਿਆਖਿਆ ਕਰੋ । 4

ਜਾਂ

(b) ਇਕ ਕਾਲਪਨਿਕ ਸੰਖਿਆਤਮਕ ਉਦਾਹਰਣ ਦੀ ਵਰਤੋਂ ਕਰਦੇ ਸਮੇਂ, ਵਪਾਰਕ ਬੈਂਕਾਂ ਰਾਹੀਂ ਸਾਖ ਸਿਰਜਨਾ ਉਪਰ ਆਰਕਸ਼ਿਤ ਅਨੁਪਾਤ ਵਿਚ ਵਾਧੇ ਦੇ ਪ੍ਰਭਾਵ ਦੀ ਵਿਆਖਿਆ ਕਰੋ । 4

16. (a) “ਰਾਸ਼ਟਰੀ ਆਮਦਨ ਹਮੇਸ਼ਾਂ ਘਰੇਲੂ ਆਮਦਨ ਨਾਲੋਂ ਵਧੇਰੇ ਹੁੰਦੀ ਹੈ ।” ਕੀ ਤੁਸੀਂ ਦਿਤੇ ਹੋਏ ਕਥਨ ਨਾਲ ਸਹਿਮਤ ਹੋ ? ਆਪਣੇ ਉੱਤਰ ਦੇ ਹੱਕ ਵਿਚ ਢੁਕਵੀਆਂ ਦਲੀਲਾਂ ਲਿਖੋ । 3

(b) “ਖਰਚ ਵਿਧੀ ਰਾਹੀਂ ਸਕਲ ਘਰੇਲੂ ਉਤਪਾਦ (GDP) ਦੀ ਗਣਨਾ ਕਰਦੇ ਹੋਏ, ਧਿਆਨ ਸਿਰਫ਼ ਦੇਸ਼ ਦੇ ਨਿਵਾਸੀਆਂ ਰਾਹੀਂ ਕੀਤੇ ਗਏ ਖਰਚ ਉਪਰ ਹੁੰਦਾ ਹੈ ।” ਕੀ ਤੁਸੀਂ ਇਸ ਕਥਨ ਨਾਲ ਸਹਿਮਤ ਹੋ ? ਆਪਣੇ ਉੱਤਰ ਦੇ ਸਮਰਥਨ ਵਿਚ ਢੁਕਵੀਆਂ ਦਲੀਲਾਂ ਦਿਓ । 3

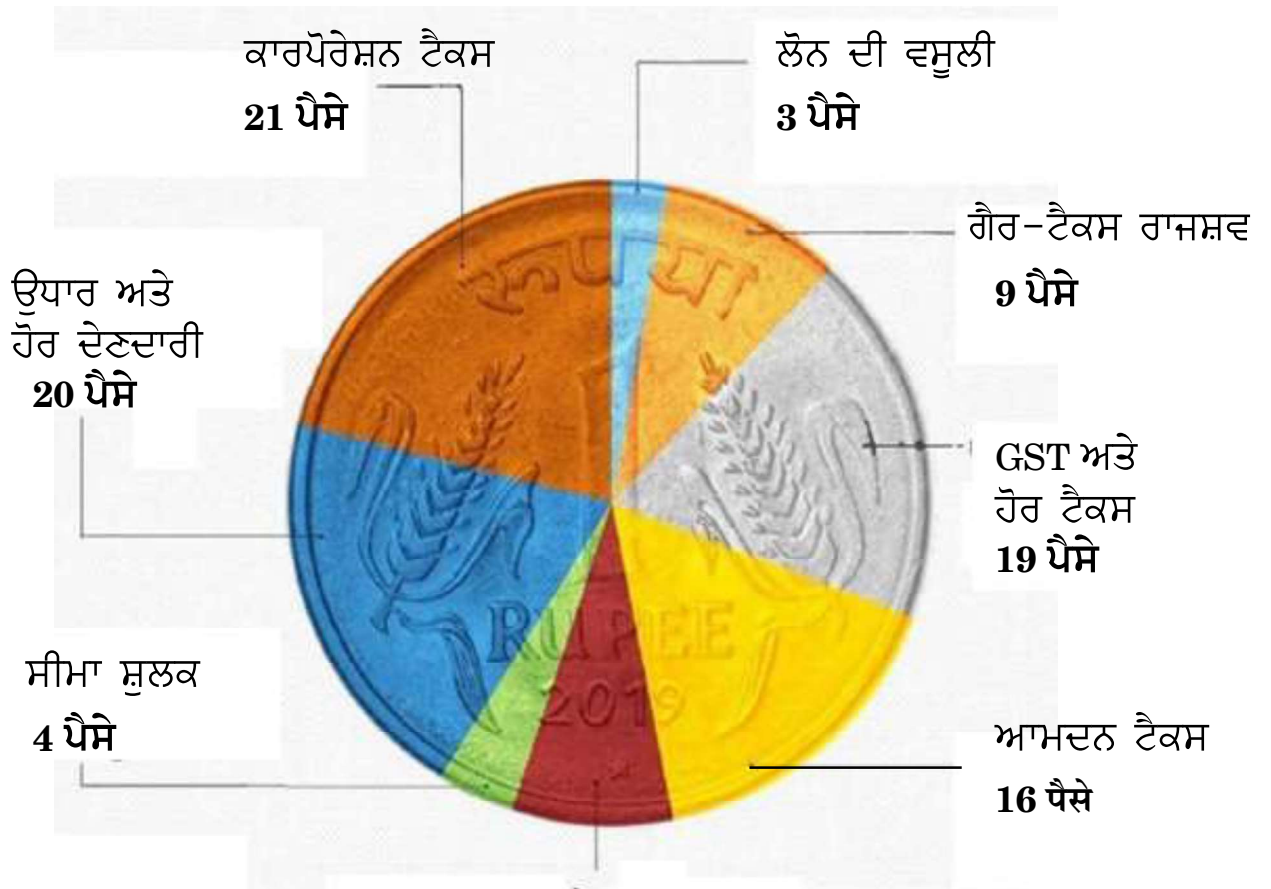


17. (a) (i) ਚਿਤਰ ਵਿਚ ਦਿਤੀ ਗਈ ਜਾਣਕਾਰੀ ਦੇ ਅਧਾਰ ਤੇ, ਮੰਨਣਯੋਗ ਕਾਰਨਾਂ ਦੇ ਵਰਣਨ ਰਾਹੀਂ ਮਦਾਂ ਨੂੰ ਸਰਕਾਰੀ ਪ੍ਰਾਪਤੀਆਂ ਅਤੇ ਪੂੰਜੀਗਤ ਪ੍ਰਾਪਤੀਆਂ ਵਿਚ ਵਰਗੀਕ੍ਰਿਤ ਕਰੋ ।

4

ਭਾਰਤ ਨੂੰ ਉਸਦਾ ਧਨ ਕਿੱਥੋਂ ਪ੍ਰਾਪਤ ਹੁੰਦਾ ਹੈ ?

ਹਰ ਇਕ ₹ 1 ਦੇ ਲਈ ਜੋ ਸਰਕਾਰ ਕਮਾਂਦੀ ਹੈ



ਉਤਪਾਦ (ਡਿਊਟੀ) ਸ਼ੁਲਕ : 8 ਪੈਸੇ

- (ii) ਰਾਜਸ਼ਵ (ਰੇਵੇਨਯੂ) ਘਾਟੇ ਅਤੇ ਰਾਜਕੋਸ਼ੀ ਘਾਟੇ ਦੇ ਦਰਮਿਆਨ ਅੰਤਰ ਸਪਸ਼ਟ ਕਰੋ ।

2

ਜਾਂ



- (b) (i) ਹੇਠ ਲਿਖੇ ਅੰਕੜਿਆਂ ਤੋਂ, ਪ੍ਰਾਥਮਿਕ (ਮੁਢਲੇ) ਘਾਟੇ ਦੀ ਗਣਨਾ ਕਰੋ : 3

ਕ੍ਰਮ ਸੰਖਿਆ	ਮਦਾਂ	ਰਕਮ (₹ ਕਰੋੜ ਵਿਚ)
(i)	ਰਾਜਸਵ ਘਾਟਾ	40
(ii)	ਗੈਰ ਉਧਾਰੀ ਸਿਰਜਤ ਪੂੰਜੀਗਤ ਪ੍ਰਾਪਤੀਆਂ	190
(iii)	ਕਰ ਰਾਜਸਵ	125
(iv)	ਪੂੰਜੀਗਤ ਖਰਚ	220
(v)	ਵਿਆਜ ਭੁਗਤਾਨ	20

- (ii) ਸਰਕਾਰੀ ਬਜਟ ਦੇ 'ਆਰਥਿਕ ਸਥਿਰਤਾ' ਕੰਮ ਬਾਰੇ ਵਿਸਤਾਰ ਨਾਲ ਲਿਖੋ । 3

ਖੰਡ ਖ

ਭਾਰਤੀ ਆਰਥਿਕ ਵਿਕਾਸ

18. ਹੇਠ ਲਿਖੇ ਕਥਨਾਂ ਨੂੰ ਧਿਆਨ ਨਾਲ ਪੜ੍ਹੋ :

ਕਥਨ 1 : ਬ੍ਰਿਟਿਸ਼ ਸ਼ਾਸਨ ਦੇ ਅਧੀਨ ਖੇਤੀ ਦਾ ਵਪਾਰੀਕਰਣ 1875 ਅਤੇ 1900 ਦੇ ਦਰਮਿਆਨ ਲਗਾਤਾਰ ਅਕਾਲ ਦੇ ਲਈ ਜੁੰਮੇਵਾਰ ਸੀ ।

ਕਥਨ 2 : ਬ੍ਰਿਟਿਸ਼ ਸ਼ਾਸਨ ਕਾਲ ਸਮੇਂ ਭਾਰਤ ਵਿਚ ਖਾਣ ਵਾਲੇ ਅੰਨ ਦਾ ਨਿਰਿਆਤ (ਬਰਾਮਦ) ਸ਼ੁਰੂ ਕਰ ਲਿਆ ਗਿਆ ਸੀ ।

ਦਿਤੇ ਗਏ ਕਥਨਾਂ ਦੀ ਰੋਸ਼ਨੀ ਵਿਚ, ਹੇਠ ਲਿਖਿਆਂ ਵਿਚੋਂ ਸਹੀ ਵਿਕਲਪ ਚੁਣੋ : 1

- (a) ਕਥਨ 1 ਸੱਚ ਹੈ ਅਤੇ ਕਥਨ 2 ਸੱਚ ਨਹੀਂ ਹੈ ।
(b) ਕਥਨ 1 ਸੱਚ ਨਹੀਂ ਹੈ ਅਤੇ ਕਥਨ 2 ਸੱਚ ਹੈ ।
(c) ਕਥਨ 1 ਅਤੇ 2 ਦੋਨੋਂ ਸੱਚ ਹਨ ।
(d) ਕਥਨ 1 ਅਤੇ 2 ਦੋਨੋਂ ਸੱਚ ਨਹੀਂ ਹਨ ।



21. (A) ਚੀਨ ਦਾ ਗ੍ਰੇਟ ਲੀਪ ਫਾਰਵਰਡ (GLF) ਅਭਿਆਨ _____ ਤੇ ਕੇਂਦਰਿਤ ਹੈ ।
(ਖਾਲੀ ਥਾਂ ਨੂੰ ਭਰਨ ਲਈ ਸਹੀ ਵਿਕਲਪ ਚੁਣੋ) 1
- (a) ਵਿਆਪਕ ਉਦਯੋਗਕੀਕਰਣ
(b) ਨਵੀ ਖੇਤੀਬਾੜੀ ਰਣਨੀਤੀ
(c) ਨਿਜੀਕਰਣ
(d) ਆਰਥਿਕ ਸੁਧਾਰ
- ਜਾਂ**
- (B) ਭਾਰਤ ਹੇਠ ਲਿਖਿਆਂ ਵਿਚੋਂ ਕਿਸ ਖੇਤਰੀ/ਵਿਸ਼ਵੀਕ ਆਰਥਿਕ ਸਮੂਹ ਦਾ ਮੈਂਬਰ ਨਹੀਂ ਹੈ ? 1
- (a) ਯੂਰੋਪਿਅਨ ਸੰਘ
(b) BRICS (ਬ੍ਰਿਕਸ)
(c) G20
(d) SAARC (ਸਾਰਕ)
22. ਸਰਕਾਰ ਰਾਹੀਂ ਸ਼ੁਰੂ ਕੀਤਾ ਗਿਆ 'ਸਕਿਲ ਇੰਡੀਆ' (Skill India) ਪ੍ਰੋਗਰਾਮ ਭਾਰਤ ਵਿਚ _____ ਨੂੰ ਵਧਾਣ ਦੀ ਇਕ ਕੋਸ਼ਿਸ ਨਹੀਂ ਹੈ ।
(ਖਾਲੀ ਥਾਂ ਨੂੰ ਭਰਨ ਲਈ ਸਹੀ ਵਿਕਲਪ ਚੁਣੋ) 1
- (a) ਮਨੁੱਖੀ ਪੂੰਜੀ ਨਿਰਮਾਣ
(b) ਆਗਤਾਂ ਦਾ ਵਧੀਆ ਉਪਯੋਗ
(c) ਸਕਲ ਘਰੇਲੂ ਉਤਪਾਦ (GDP) ਵਿਚ ਵਾਧਾ
(d) ਵਿਵਸਾਇਕ ਸਿਖਿਆ ਦਾ ਨਾਕਾਫੀ ਵਿਸਤਾਰ
23. ਹੇਠ ਲਿਖੇ ਕਥਨ ਦੇ ਸੰਦਰਭ ਵਿਚ ਸਹੀ ਵਿਕਲਪ ਨੂੰ ਪਛਾਣੋ : 1
- “1966 – 76 ਦੇ ਦਰਮਿਆਨ, ਮਾਓ ਨੇ ਇਸ ਅੰਦੋਲਨ ਦੀ ਸ਼ੁਰੂਆਤ ਕੀਤੀ ਸੀ ਜਿਸ ਵਿਚ ਵਿਦਿਆਰਥੀਆਂ ਅਤੇ ਵਿਸ਼ੇਸ਼ਗਾਂ ਨੂੰ ਕੰਮ ਕਰਨ ਦੇ ਲਈ ਚੀਨ ਦੇ ਪੇਂਡੂ ਇਲਾਕਿਆਂ ਵਿਚ ਪ੍ਰਚਲਿਤ ਵਾਸਤਵਿਕ ਜੀਵਨ ਸਥਿਤਿਆਂ ਤੋਂ ਸਿਖਣ ਲਈ ਕਿਹਾ ਗਿਆ ਸੀ ।”
- (a) ਕਮਊਨ (ਪਰਗਟਾ) ਪ੍ਰਣਾਲੀ
(b) ਗ੍ਰੇਟ ਲੀਪ ਫਾਰਵਰਡ
(c) ਖੁਲ੍ਹੇ ਦਵਾਰ ਨੀਤੀ
(d) ਮਹਾਨ ਸਰਵਹਾਰਾ ਸਭਿਆਚਾਰਕ ਕਰਾਂਤੀ



24. ਹੇਠ ਲਿਖੇ ਕਥਨਾਂ ਨੂੰ ਧਿਆਨ ਨਾਲ ਪੜ੍ਹੋ :

ਕਥਨ 1: ਭਾਰਤ ਅਤੇ ਪਾਕਿਸਤਾਨ ਦੋਹਾਂ ਵਿਚ ਸੇਵਾ ਖੇਤਰ ਵਿਕਾਸ ਦੇ ਇਕ ਮੁਖ ਸਰੋਤ ਦੇ ਰੂਪ ਵਿਚ ਉਭਰਿਆ ਹੈ ।

ਕਥਨ 2: ਭਾਰਤ ਦੇ ਗਵਾਂਢੀ ਦੇਸ਼ਾਂ ਵਿਚੋਂ ਚੀਨ ਦੀ ਜੀਵਨ ਦੀ ਉਮੀਦ ਦਰ ਸਭ ਤੋਂ ਜ਼ਿਆਦਾ ਹੈ ।

ਦਿਤੇ ਗਏ ਕਥਨਾਂ ਦੀ ਰੋਸ਼ਨੀ ਵਿਚ, ਹੇਠ ਲਿਖਿਆਂ ਵਿਚੋਂ ਸਹੀ ਵਿਕਲਪ ਚੁਣੋ :

1

- (a) ਕਥਨ 1 ਸੱਚ ਹੈ ਅਤੇ ਕਥਨ 2 ਸੱਚ ਨਹੀਂ ਹੈ ।
- (b) ਕਥਨ 1 ਸੱਚ ਨਹੀਂ ਹੈ ਅਤੇ ਕਥਨ 2 ਸੱਚ ਹੈ ।
- (c) ਕਥਨ 1 ਅਤੇ 2 ਦੋਨੋਂ ਸੱਚ ਹਨ ।
- (d) ਕਥਨ 1 ਅਤੇ 2 ਦੋਨੋਂ ਸੱਚ ਨਹੀਂ ਹਨ ।

25. (A) ਉਹ ਮਜ਼ਦੂਰ ਜਿਹੜੇ ਆਪਣੇ ਮਾਲਕ ਦੇ ਸਥਾਈ ਪੇਰੋਲ (pay-roll) ਤੇ ਲਗਾਏ ਜਾਂਦੇ ਹਨ _____ ਮਜ਼ਦੂਰ (ਕਾਮਾ) ਦੇ ਰੂਪ ਵਿਚ ਜਾਣੇ ਜਾਂਦੇ ਹਨ ।

(ਖਾਲੀ ਥਾਂ ਨੂੰ ਭਰਨ ਲਈ ਸਹੀ ਵਿਕਲਪ ਚੁਣੋ)

1

- (a) ਸਵੈਨਿਯੋਜਿਤ
- (b) ਆਕਸਮਿਕ
- (c) ਨਿਯਮਿਤ
- (d) ਭਾੜੇ ਦੇ

ਜਾਂ

(B) ਰੁਜ਼ਗਾਰ ਰਹਿਤ ਵਿਕਾਸ, ਬੇਰੁਜ਼ਗਾਰੀ ਨੂੰ ਪੈਦਾ ਕਰਦਾ ਹੈ, ਕਿਉਂਕਿ _____ ।

(ਖਾਲੀ ਥਾਂ ਨੂੰ ਭਰਨ ਲਈ ਸਹੀ ਵਿਕਲਪ ਚੁਣੋ)

1

- (a) ਮਜ਼ਦੂਰ ਪ੍ਰਵਾਸ ਕਰਨ ਤੋਂ ਮਨਾ ਕਰਦੇ ਹਨ ।
- (b) ਮਜ਼ਦੂਰ ਸੇਵਾਵਾਂ ਵਧੇਰੀ ਮਹਿੰਗੀਆਂ ਹੁੰਦੀਆਂ ਹਨ ।
- (c) ਵਿਕਾਸ ਦਰ ਘਟ ਹੁੰਦੀ ਹੈ ।
- (d) ਵਿਕਾਸ ਟੈਕਨੋਲੋਜੀ (ਪ੍ਰੋਧੋਗਕੀ) ਦੇ ਕਾਰਨ ਹੁੰਦਾ ਹੈ ।



26. ਕਿਸੇ ਇਕ ਖਾਸ ਫਸਲ ਦੇ ਥਾਂ ਵੱਖੋ ਵੱਖ ਕਈ ਪ੍ਰਕਾਰ ਦੀਆਂ ਫਸਲਾਂ ਦੇ ਉਤਪਾਦਨ ਨੂੰ _____ ਕਿਹਾ ਜਾਂਦਾ ਹੈ। (ਖਾਲੀ ਥਾਂ ਨੂੰ ਭਰਨ ਲਈ ਸਹੀ ਵਿਕਲਪ ਚੁਣੋ) 1

- (a) ਫਸਲਾਂ ਦਾ ਬਹੁਵਿਧੀਕਰਣ
- (b) ਖੇਤੀ ਉਤਪਾਦਨ ਦਾ ਬਹੁਵਿਧੀਕਰਣ
- (c) ਖੇਤ੍ਰਕਾਂ ਵਿਚ ਬਹੁਵਿਧੀਕਰਣ
- (d) ਰੁਜ਼ਗਾਰ ਦਾ ਬਹੁਵਿਧੀਕਰਣ

27. ਹੇਠ ਲਿਖੇ ਕਥਨਾਂ ਨੂੰ ਧਿਆਨ ਨਾਲ ਪੜ੍ਹੋ :

ਕਥਨ 1: ਭਾਰਤ ਨੇ ਆਪਣੀ ਪਹਿਲੀ ਪੰਜ ਵਰਸ਼ੀ ਯੋਜਨਾ ਦੀ ਘੋਸ਼ਣਾ 1951 ਵਿਚ ਕੀਤੀ ਸੀ।

ਕਥਨ 2: ਭਾਰਤ, ਪਾਕਿਸਤਾਨ ਅਤੇ ਚੀਨ ਨੇ ਆਰਥਿਕ ਆਯੋਜਨ ਨੂੰ ਆਪਣੀ ਵਿਕਾਸ ਦੀ ਮੁੱਖ ਰਣਨੀਤੀ ਦੇ ਤੌਰ ਤੇ ਅਪਣਾਇਆ ਸੀ।

ਦਿਤੇ ਗਏ ਕਥਨਾਂ ਦੀ ਰੋਸ਼ਨੀ ਵਿਚ, ਹੇਠ ਲਿਖਿਆਂ ਵਿਚੋਂ ਸਹੀ ਵਿਕਲਪ ਚੁਣੋ : 1

- (a) ਕਥਨ 1 ਸੱਚ ਹੈ ਅਤੇ ਕਥਨ 2 ਸੱਚ ਨਹੀਂ ਹੈ।
- (b) ਕਥਨ 1 ਸੱਚ ਨਹੀਂ ਹੈ ਅਤੇ ਕਥਨ 2 ਸੱਚ ਹੈ।
- (c) ਕਥਨ 1 ਅਤੇ 2 ਦੋਨੋਂ ਸੱਚ ਹਨ।
- (d) ਕਥਨ 1 ਅਤੇ 2 ਦੋਨੋਂ ਸੱਚ ਨਹੀਂ ਹਨ।

28. ਦਿਤੇ ਗਏ ਚਿਤਰ ਦੇ ਅਧਾਰ ਤੇ ਵਰਤਮਾਨ ਵਾਤਾਵਰਣ ਸੰਬੰਧੀ ਚੁਣੌਤੀਆਂ ਦੀ ਵਿਆਖਿਆ ਕਰੋ : 3



ਨੋਟ: ਹੇਠ ਲਿਖੇ ਪ੍ਰਸ਼ਨ ਸਿਰਫ ਦ੍ਰਿਸ਼ਟੀ ਵਿਕਲਾਂਗ ਪ੍ਰੀਖਿਆਰਥੀਆਂ ਦੇ ਲਈ ਪ੍ਰਸ਼ਨ ਸੰਖਿਆ 28 ਦੀ ਥਾਂ ਤੇ ਹੈ :

ਕਿਸੇ ਇਕ ਵਰਤਮਾਨ ਵਾਤਾਵਰਣੀ ਚੁਣੌਤੀ ਦੀ ਵਿਆਖਿਆ ਕਰੋ।



29. (a) ਭਾਰਤ ਵਿਚ ਪੇਂਡੂ ਵਿਕਾਸ ਦੀ ਪ੍ਰਕਿਰਿਆ ਵਿਚ ਪੇਂਡੂ ਬੈਂਕਿੰਗ ਪ੍ਰਣਾਲੀ ਦੀ ਭੂਮਿਕਾ ਦਾ ਅਲੋਚਨਾਤਮਕ ਮੁਲਾਂਕਣ ਕਰੋ । 3

ਜਾਂ

(b) “ਡਾ. ਖੁਰਾਣਾ ਇਕ ਦੰਦਾਂ ਦੇ ਡਾਕਟਰ ਹਨ, ਆਰਥਿਕ ਰੂਪ ਵਿਚ ਪਿਛੜੇ ਇਲਾਕੇ ਵਿਚ ਆਪਣਾ ਕਲਿਨਿਕ ਚਲਾਂਦੇ ਸਨ । ਉਹ ਮੁਕਾਬਲਤਨ ਥੋੜੀ ਆਮਦਨ ਕਮਾ ਰਹੇ ਸਨ । ਇਸ ਲਈ ਉਨ੍ਹਾਂ ਨੇ ਸ਼ਹਿਰ ਜਾਣ ਦਾ ਫੈਸਲਾ ਕਰ ਲਿਆ ਅਤੇ ਇਸ ਕੰਮ ਦੇ ਲਈ ਉਨ੍ਹਾਂ ਨੇ ਬਹੁਤ ਸਾਰਾ ਪੈਸਾ ਖਰਚ ਕੀਤਾ ।”

ਡਾ. ਖੁਰਾਣਾ ਦੇ ਰਾਹੀਂ ਕੀਤੇ ਗਏ ਖਰਚ ਦੇ ਪ੍ਰਕਾਰ ਨੂੰ ਪਛਾਣੋ ਅਤੇ ਵਿਆਖਿਆ ਕਰੋ, ਜਿਨ੍ਹਾਂ ਨੇ ਮਨੁੱਖੀ ਪੂੰਜੀ ਨਿਰਮਾਣ ਪ੍ਰਕਿਰਿਆ ਵਿਚ ਪ੍ਰਤੱਖ ਯੋਗਦਾਨ ਦਿਤਾ ਹੈ । 3

30. ਪਾਕਿਸਤਾਨ ਵਿਚ ਹੌਲੀ ਹੁੰਦਾ ਵਿਕਾਸ ਅਤੇ ਫਿਰ ਤੋਂ ਗ਼ਰੀਬੀ ਦੇ ਮੰਨਣ ਯੋਗ ਕਾਰਨਾਂ ਦੀ ਵਿਆਖਿਆ ਕਰੋ । 4

31. (a) ਉਦਯੋਗਿਕ ਨੀਤੀ ਪ੍ਰਸਤਾਵ 1956 ਦੇ ਅਧੀਨ ‘ਲਾਇਸੈਂਸ ਰਾਜ’ ਦੇ ਪਿੱਛੇ ਦੀਆਂ ਦਲੀਲਾਂ ਨੂੰ ਸੰਖੇਪ ਵਿਚ ਸਮਝਾਓ । 3

(b) ਬਹੁਪਖੀ ਵਪਾਰ ਦੀ ਪਰਿਭਾਸ਼ਾ ਦਿਉ । 1

32. (a) ਮੰਨਣਯੋਗ ਦਲੀਲਾਂ ਸਹਿਤ ਵਰਣਨ ਕਰਦੇ ਹੋਏ ਵਿਆਖਿਆ ਕਰੋ ਕਿ ਹੇਠ ਲਿਖਿਆਂ ਕਥਨ ਸੱਚ ਹੈ ਜਾਂ ਨਹੀਂ :

“ਹਾਲ ਵਿਚ ਭਾਰਤੀ ਅਰਥਵਿਵਸਥਾ ਨੇ ਕਾਰਜ ਸ਼ਕਤੀ ਦੀ ਓਪਚਾਰਿਕਤਾ ਦੇ ਵਲ ਸੰਤੋਸ਼ਜਨਕ ਵਿਕਾਸ ਕੀਤਾ ਹੈ ।” 4

ਜਾਂ

(b) “ਭਾਰਤ ਵਿੱਚ ਲਗਭਗ 60% ਕਰਮਚਾਰੀ ਸਵੈਰੁਜਗਾਰ ਵਿਚ ਕੰਮ ਕਰ ਰਹੇ ਹਨ । ਸਵੈਰੁਜਗਾਰੀ ਮਨੁੱਖਾਂ ਵਿਚ ਅਲਪ ਰੁਜਗਾਰ ਦੇ ਹੋਣ ਦੀ ਸੰਭਾਵਨਾ ਸਭ ਤੋਂ ਵਧ ਹੈ ।”

ਇਕ ਅਰਥਸ਼ਾਸਤਰੀ ਦੇ ਰੂਪ ਵਿਚ, ਸਵੈਰੁਜਗਾਰੀ ਮਨੁੱਖਾਂ ਦੇ ਲਈ ਵਧੇਰੇ ਉਤਪਾਦਨ ਰੁਜਗਾਰ ਸੁਨਿਸ਼ਚਿਤ ਕਰਨ ਦੇ ਲਈ ਕੀਤੇ ਜਾਣ ਵਾਲੇ ਕਿਸੇ ਦੋ ਉਪਾਵਾਂ ਦਾ ਵਿਸਤਾਰ ਨਾਲ ਸੁਝਾਅ ਦਿਓ । 4



33. (a) (i) ਨਿਯਮਿਤ ਵੇਤਨਭੋਗੀ ਕਰਮਚਾਰੀਆਂ ਵਿਚ ਇਸਤ੍ਰੀਆਂ ਥੋੜੀਆਂ ਕਿਉਂ ਹਨ ? 3
- (ii) ਮਾਨਵ ਪੂੰਜੀ ਅਤੇ ਭੌਤਿਕ ਪੂੰਜੀ ਵਿਚ ਫਰਕ ਸਮਝਾਓ । 3
- ਜਾਂ**
- (b) (i) ਭਾਰਤ ਵਿਚ ਨਿਰੰਤਰ ਵਿਕਾਸ ਪ੍ਰਾਪਤ ਕਰਨ ਵਿੱਚ ਸ਼ਾਮਿਲ ਕਿਸੇ ਇਕ ਰਣਨਿਤੀ ਦਾ ਉਲੇਖ ਅਤੇ ਚਰਚਾ ਕਰੋ । 3
- (ii) ਪੇਂਡੂ ਭਾਰਤ ਵਿਚ ਲਘੂ ਰਿਣ (ਮਾਇਕਰੋ ਕਰੇਡਿਟ) ਪ੍ਰੋਗਰਾਮ ਦੀ ਮਹਤਤਾ ਦੇ ਬਾਰੇ ਚਰਚਾ ਕਰੋ । 3

34. ਹੇਠ ਲਿਖੇ ਪੈਰੇ ਨੂੰ ਧਿਆਨ ਨਾਲ ਪੜੋ :

ਨੀਤੀ ਆਯੋਗ ਦੇ ਅਨੁਸਾਰ ਭਾਰਤ ਵਿਚ ਡਿਜ਼ਿਟਲ ਬੈਂਕਾਂ ਦੀ ਅਸਾਨੀ ਦੇ ਲਈ ਟੈਕਨੋਲੋਜੀਕਲ ਲਾਭ ਉਪਲਬਧ ਹਨ । ਇਸ ਨੂੰ ਉਤਸਾਹਿਤ ਕਰਨ ਦੇ ਲਈ ਇਕ ਨਿਆਂਇਕ ਢਾਂਚਾ ਤਿਆਰ ਕਰਨ ਦੀ ਲੋੜ ਹੈ ।

ਨੀਤੀ ਆਯੋਗ ਨੇ ਆਪਣੀ ਰਿਪੋਰਟ “Digital Banks : A Proposal for Licensing and Regulatory Regime for India” ਵਿਚ ਰਾਸ਼ਟਰ ਦੇ ਲਈ ਡਿਜ਼ਿਟਲ ਬੈਂਕ ਲਾਇਸੈਂਸਿੰਗ ਅਤੇ ਨਿਯਾਮਿਕ ਵਿਵਸਥਾ ਦੇ ਲਈ ਇਕ ਸਾਂਚਾ ਅਤੇ ਰੋਡਮੈਪ ਦਿਤਾ ਗਿਆ ਹੈ । ਭਾਰਤ ਦੇ ਜਨਤਕ (ਪਬਲਿਕ) ਡਿਜ਼ਿਟਲ ਬੁਨਿਆਦੀ ਢਾਂਚੇ, ਖਾਸ ਤੌਰ ਤੇ ਏਕੀਕ੍ਰਿਤ ਭੁਗਤਾਨ ਇੰਟਰਫੇਸ (UPI) ਨੇ ਇਸ ਚੁਣੌਤੀ ਦਾ ਸਫਲਤਾ ਨਾਲ ਮੁਕਾਬਲਾ ਕੀਤਾ ਹੈ ।

ਆਧਾਰ ਦੇ ਨਾਲ ਭਾਰਤ ਆਪਣੇ ਆਪ ਦੇ ਇਕ ਮੁਕਤ ਬੈਂਕਿੰਗ ਢਾਂਚੇ ਨੂੰ ਚਲਾਣ ਦੇ ਕਗਾਰ ਤੇ ਹੈ । ਇਸ ਤੋਂ ਪਤਾ ਲਗਦਾ ਹੈ, ਕਿ ਡਿਜ਼ਿਟਲ ਬੈਂਕਾਂ ਨੂੰ ਪੂਰੇ ਤੌਰ 'ਤੇ ਅਸਾਨੀ ਦੇਣ ਦੇ ਲਈ ਭਾਰਤ ਦੇ ਕੋਲ ਤਕਨੀਕੀ ਸਟਾਕ ਉਪਲਬਧ ਹਨ ।

ਡਿਜ਼ਿਟਲ ਬੈਂਕਿੰਗ, ਉਪਯੋਗ ਕਰਤਾ ਨੂੰ ਨਿਯਮਤ ਤੌਰ ਤੇ ਉਪਯੋਗਤਾ ਬਿਲਾਂ ਦੇ ਭੁਗਤਾਨ ਕਰਨ ਦਾ ਇਕ ਸਵੈਚਲਿਤ ਭੁਗਤਾਨ ਪ੍ਰਕਿਰਿਆ ਬਣਾਣ ਦੀ ਇਜ਼ਾਜ਼ਤ ਦੇਂਦਾ ਹੈ । ਡਿਜ਼ਿਟਲ ਬੈਂਕਿੰਗ ਫੰਡ ਹਸਤਾਂਤਰਣ ਨਕਲੀ ਕਰੋਸੀ ਦੇ ਖਤਰੇ ਨੂੰ ਵੀ ਘਟ ਕਰਦਾ ਹੈ । ਨਕਦੀ ਰਹਿਤ ਸਮਾਜ ਨੂੰ ਉਤਸਾਹਿਤ ਕਰਕੇ, ਡਿਜ਼ਿਟਲ ਬੈਂਕਿੰਗ ਕਾਲੇ ਧਨ ਦੇ ਸੰਚਲਨ ਨੂੰ ਪ੍ਰਤਿਬੰਧਿਤ ਕਰਦੀ ਹੈ ।

ਦਿਤੇ ਗਏ ਪੈਰੇ ਅਤੇ ਆਮ ਸਮਝ ਦੇ ਆਧਾਰ ਤੇ ਹੇਠ ਲਿਖੇ ਪ੍ਰਸ਼ਨਾਂ ਦੇ ਉੱਤਰ ਦਿਓ :

- (a) ਭਾਰਤ ਵਿਚ ਨੀਤੀ ਆਯੋਗ ਨੇ ਕਿਸ ਸੰਸਥਾ ਦਾ ਥਾਂ ਲਿਆ ਹੈ ? ਨੀਤੀ ਆਯੋਗ ਦੇ ਪਦ ਅਨੁਸਾਰ (ex-officio) ਚੇਅਰਮੈਨ ਕੌਣ ਹਨ ? 2
- (b) ਡਿਜ਼ਿਟਲ ਬੈਂਕਿੰਗ ਦੇ ਕਿਸੇ ਦੋ ਮੁਖ ਲਾਭਾਂ ਦਾ ਵਰਣਨ ਅਤੇ ਚਰਚਾ ਕਰੋ । 4



Series HFG1E/5



SET-1

Q.P. Code 251/5/1

رول نمبر

Roll No.

--	--	--	--	--	--	--	--

امیدوار Q.P. کوڈ کو جوابی کاپی کے سرورق پر ضرور لکھیں۔

Candidates must write the Q.P. Code on the title page of the answer-book.

معاشیات (تھیوری)

ECONOMICS (Theory)

(Urdu Version)

مقررہ وقت : 3 گھنٹے

Time allowed : 3 hours

کل نمبر : 80

Maximum Marks : 80

- آپ جانچ لیجیے کہ اس سوالنامے میں چھپے صفحات کی تعداد 15 ہے۔
- پرچہ کے داہنی طرف چھپا Q.P. کوڈ نمبر طالب علم کو اپنی جوابی کاپی کے ٹائٹل صفحہ پر لکھنا ہے۔
- آپ دیکھ لیجیے کہ سوالنامے میں چھپے سوالات کی تعداد 34 ہے۔
- کسی بھی سوال کا جواب لکھنے سے پہلے سوال کا نمبر ضرور جوابی کاپی میں لکھیں۔
- سوالنامہ پڑھنے کے لیے 15 منٹ کا وقت دیا گیا ہے۔ سوالنامہ صبح 10.15 بجے تقسیم کیا جائے گا۔ 10.15 سے 10.30 بجے تک طلباء صرف سوالنامہ پڑھیں گے اور اس وقفے کے دوران وہ جوابی کاپی پر کچھ نہیں لکھیں گے۔

- Please check that this question paper contains 15 printed pages.
- Q.P. Code given on the right hand side of the question paper should be written on the title page of the answer-book by the candidate.
- Please check that this question paper contains 34 questions.
- Please write down the serial number of the question in the answer-book before attempting it.
- 15 minute time has been allotted to read this question paper. The question paper will be distributed at 10.15 a.m. From 10.15 a.m. to 10.30 a.m., the candidates will read the question paper only and will not write any answer on the answer-book during this period.



251/5/1

247 A

1



P.T.O.

عام ہدایات:

درج ذیل ہدایات کو غور سے پڑھیے اور ان پر عمل کیجیے:

(i) اس سوال نامے میں 34 سوالات ہیں۔ تمام سوالات لازمی ہیں۔

(ii) اس سوال نامے کے دو حصے ہیں:

حصہ A - کلاں معاشیات

حصہ B - ہندوستانی معیشت کی ترقی

(iii) اس پرچے میں کثیر انتخابی قسم کے 20 سوالات ہیں۔ ہر سوال کا 1 نمبر ہے۔

(iv) اس پرچے میں 4 مختصر جواب کی قسم-I والے سوالات ہیں اور ہر سوال کے 3 نمبر ہیں۔ ہر سوال کا جواب 60 سے 80

الفاظ میں لکھا جانا چاہیے۔

(v) اس پرچے میں 6 مختصر جواب کی قسم-II والے سوالات ہیں۔ اور ہر سوال کے 4 نمبر ہیں۔ ہر سوال کا جواب 80 سے

100 الفاظ میں لکھا جانا چاہیے۔

(vi) اس پرچے میں 4 طویل جواب کی قسم والے سوالات ہیں اور ہر سوال کے 6 نمبر ہیں۔ ہر سوال کا جواب 100 سے

150 الفاظ میں لکھا جانا چاہیے۔

(vii) ہر ایک سوال کے تمام حصوں کا جواب ایک ساتھ لکھیں۔

حصہ - A

(کلاں معاشیات)

1. ”زر (Money) ایسا اثاثہ ہے، جس کا ذخیرہ مستقبل میں استعمال کے لیے کیا جاسکتا ہے۔“

دیے گئے بیان کی روشنی میں زر کے استعمال کی پہچان کیجیے:

(صحیح متبادل کا انتخاب کیجیے)

(a) قدر کا پیمانہ (b) تاخیر شدہ ادائیگی کا معیار

(c) قدر کا ذخیرہ (d) تبادلے کا ذخیرہ



2. ”بین الاقوامی منڈی میں ہندوستانی کرنسی (₹) کی فرسودگی کو مد نظر رکھتے ہوئے، ریزرو بینک آف انڈیا (RBI) نے کھلے بازار میں ہندوستانی کرنسی (₹) کو خریدنے کا فیصلہ کیا ہے۔“

یہ _____ شرح مبادلہ نظام کی نمائندگی کرتا ہے۔
1 (صحیح متبادل کے ذریعے خالی جگہ کو پُر کیجیے)

(a) فلکڈ (b) چکلدار

(c) زیر انتظام تیرتی (d) ہیر فیئر

3. مندرجہ ذیل بیانات کو غور سے پڑھیں:

بیان 1: کسی دو سیکٹروں والی معیشت کے ماڈل میں، صرف خرچ اور سرمایہ کاری خرچ مجموعی مانگ کے دو عوامل ہیں۔

بیان 2: مجموعی مانگ منحنی مثبت ڈھلان والے نقطہ آغاز سے شروع ہوتا ہے۔

دیے گئے بیانات کی روشنی میں مندرجہ ذیل سب سے صحیح متبادل کا انتخاب کیجیے:

(a) بیان 1 صحیح اور بیان 2 غلط ہے۔

(b) بیان 1 غلط اور بیان 2 صحیح ہے۔

(c) بیان 1 اور بیان 2 دونوں صحیح ہیں۔

(d) بیان 1 اور بیان 2 دونوں غلط ہیں۔

4. ادائیگی توازن میں ’خسارہ‘ سے مراد _____ پر زیادتی سے ہے۔
1 (صحیح متبادل کا انتخاب کریں)

(a) چالو کھاتہ ادائیگی کی پونجی کھاتہ وصولیاں

(b) پونجی کھاتہ ادائیگی کی پونجی کھاتہ وصولیاں

(c) خود مختار ادائیگی کی خود مختار ادائیگی وصولیاں

(d) اکاؤنٹنگ ادائیگی کی اکاؤنٹنگ وصولیاں



1

5. (A) کالم I اور II میں دیے گئے بیانات میں سے صحیح جوڑ (pair) کا انتخاب کریں۔

کالم II		کالم I	
نا قابل بازاریابی سرگرمی	(i)	نجی باغیچے میں اگائی گئی سبزیاں	.A
صارف شے	(ii)	ٹیکس کے طور پر استعمال کی گئی کار	.B
سرمایہ نمائشے	(iii)	کسی خانہ دار کے استعمال میں لایا گیا ایرکنڈیشننگ آلہ	.C
عالم آمدنی	(iv)	کسی طالب علم کو ملنے والا سرکاری وظیفہ	.D

مبادلات:

B – (ii) (b) A – (i) (a)
D – (iv) (d) C – (iii) (c)

یا

1

(B) مندرجہ ذیل جدول کو مکمل کریں:

قیمت میں اضافہ	درمیانی صرف	پیداوار کی قیمت	پیدا کار (Producer)
2000	–	2000	کسان
2000	2000(i).....	نان بائی (Baker)
400(iii)....	4,400	خرده فروش
....(iv)....	6,000(ii)....	میزان:

مبادلات:

4000, 10400, 4000, 4400 (b) 4000, 10400, 4000, 4000 (a)
4000, 10400, 6000, 4000 (d) 2000, 6000, 6000, 4400 (c)

6. (A) اگر کسی معیشت میں، سرمایہ کاری ضارب 4 اور خود مختارانہ صرف 30 کروڑ روپے ہے، تو متعلقہ صرف کا تفاعل

1

(صحیح متبادل کے ذریعے خالی جگہ کو پُر کیجیے)

_____ ہوگا۔

C = (-) 30 + 0.25 Y (b) C = 30 + 0.75 Y (a)
C = (-) 30 - 0.25 Y (d) C = 30 + 0.25 Y (c)

یا

251/5/1

4



(B) اگر قومی آمدنی میں اضافہ بچت میں اضافے کے مساوی ہے، تو حاشیائی میلان صرف (MPC) کی قدر

1 (صحیح متبادل کے ذریعے خالی جگہ کو پُر کیجیے) _____ ہوگی :

(a) ایک کے مساوی (b) ایک سے زیادہ

(c) ایک سے کم (d) صفر کے برابر

1 7. مندرجہ ذیل بیانات کو غور سے پڑھیں:

بیان 1 : ہندوستان میں فراہمی زر (M_1) میں، کمرشیل بینکوں کے پاس مانگ جمعیں شامل نہیں ہوتے ہیں۔

بیان 2 : فراہمی زر سے مراد، کسی مخصوص مدت کے دوران کمرشیل بینکوں کے پاس دستیاب اثاثہ ہے۔

دیے گئے بیانات کی روشنی میں صحیح متبادل کا انتخاب کریں:

(a) بیان 1 صحیح اور بیان 2 غلط ہے۔ (b) بیان 1 غلط ہے اور بیان 2 صحیح ہے۔

(c) بیان 1 اور بیان 2 دونوں صحیح ہیں۔ (d) بیان 1 اور بیان 2 دونوں غلط ہیں۔

1 8. (A) فرض کیجیے، ایک برطانوی پاونڈ (£) کی قیمت، بازاری قوتوں کی وجہ سے، ₹ 70 سے بڑھ کر ₹ 80 ہوگئی ہے۔

1 اس کا مطلب یہ ہے کہ ہندوستانی کرنسی (₹) کی _____ (صحیح متبادل کا انتخاب کریں)

(a) قدر بڑھ گئی ہے۔ (b) فرسودگی ہوئی ہے۔

(c) قدر کا دوبارہ تعین کیا گیا ہے۔ (d) قدر گر گئی ہے۔

یا

(B) فرض کیجیے، ملک X میں ملک Y کے مقابلے میں افراط زر زیادہ ہے۔ ایسی حالت میں، دیگر باتیں مساوی رہنے پر

1 مندرجہ ذیل میں سے زیادہ امکانی صورت حال کون سی ہو سکتی ہے؟

(a) ملک X میں فاضل توازن تجارت (b) ملک X کے لیے خساراتی توازن تجارت

(c) ملک X سے ملک Y کی برآمدات میں اضافہ (d) ملک Y کے لیے خساراتی توازن تجارت



1

9. نیچے دیے گئے متبادلات میں سے ایک متبادل کا انتخاب کریں:

دعوئی (A) : مکمل روزگار سے غیر مطلوب بے روزگاری کا فقدان ہے۔

سبب (R) : مکمل روزگار کی حالت میں، مقررہ مزدوری شرح پر سبھی باصلاحیت اور خواہش مند افراد کو روزگار ملتا ہے۔

متبادلات:

(a) دعوئی (A) اور سبب (R) دونوں صحیح ہیں اور سبب (R)، دعوئی (A) کی صحیح وضاحت ہے۔

(b) دعوئی (A) اور سبب (R) دونوں صحیح ہیں اور سبب (R)، دعوئی (A) کی صحیح وضاحت نہیں ہے۔

(c) دعوئی (A) صحیح ہے، لیکن سبب (R) غلط ہے۔

(d) دعوئی (A) غلط ہے، لیکن سبب (R) صحیح ہے۔

10. کسی معیشت میں حاشیائی بچت سپلائی (MPS) کی قدر 0.25 ہے۔ اگر سرمایہ کاری میں اضافہ 200 ₹ کروڑ ہے، تو آمدنی

1

میں اضافے کی قدر کیا ہوگی؟

(a) 200 ₹ کروڑ (b) 150 ₹ کروڑ

(c) 1,000 ₹ کروڑ (d) 800 ₹ کروڑ

11. فرض کیجیے کسی ملک میں ایک چیز X کی ہی پیداوار ہوتی ہے۔ سال 2018 و 2019 میں چیز X کی پیداوار بالترتیب

100 اور 110 اکائیوں کی تھی۔ ان دو سال میں چیز X کی قیمت 50 ₹ اور 55 ₹ بالترتیب تھی۔

3

سال 2018 کو اساسی سال ماننے ہوئے، سال 2019 میں حقیقی مجموعی گھریلو پیداوار (GDP) میں فیصد تبدیلی کا حساب لگائیں۔



12. (a) معتبر دلیل کے ساتھ، بیان کریں کہ مندرجہ ذیل بیان درست ہیں یا غلط: 3

(i) بیرونی ممالک میں سرمایہ کاری سے حاصل ڈیویڈنڈ، سرمایہ کھاتے کے کریڈٹ کے کالم میں درج ہوتا ہے۔

(ii) ہندوستانی کرنسی میں فرسودگی سے ہندوستانی درآمدات کی حوصلہ افزائی ہوگی۔

یا

3 (b) خود مختار انہ لین دین اور اکاؤنٹس لین دین کا فرق بتائیں۔

13. کسی معیشت میں، اگر منصوبہ بند بچت منصوبہ بند سرمایہ کاری سے زیادہ ہے، تو آمدنی، پیداوار اور روزگار پر اس کے ممکنہ اثر کو

4 بیان کریں۔

14. 6 اگست، 2022 کو 'دی ہندو' میں شائع مندرجہ ذیل خبر کے مطابق:

”ریزرو بینک آف انڈیا کی مانیٹری پالیسی کمیٹی (MPC) نے ریپوش شرح میں 50 اساسی نمبروں کا اضافہ کیا ہے۔“ ریزرو

4 بینک آف انڈیا کے اس طرح کے اقدام کے پیچھے کے ممکنہ اسباب اور نتائج کی پہچان اور ان کا بیان کریں۔

15. (a) حکومت کے ایجنٹ اور صلاح کار کی شکل میں مرکزی بینک کے کردار کی وضاحت کریں۔ 4

یا

(b) معکوس ریپورڈ کی توضیح کریں۔ مختصراً بیان کریں، یہ دستاویز کس طرح کمرشیل بینکوں کے ذریعے کی گئی ساکھ کی

4 تشکیل کا تعین کرتا ہے۔

16. (a) (I) کسی ملک کی قومی آمدنی کا حساب لگانے میں مندرجہ ذیل کو کس طرح برتا جائے گا؟ معتبر دلائل پیش کریں: 3

(i) ہندوستان میں غیر ملکی بینکوں کے ذریعے کمایا گیا منافع۔

(ii) ایک فرم کے ذریعے قائم اثاثوں میں سدھار پر خرچ۔



- (II) فرض کریں کہ، کسی مالی سال میں ایک ملک کی بازاری شرح مجموعی گھریلو پیداوار (GDP) 1,100 ₹ کروڑ تھی۔ غیر ممالک سے حاصل خالص عامل آمدنی 100 ₹ کروڑ، خالص بالواسطہ ٹیکس 150 ₹ کروڑ اور قومی آمدنی 850 ₹ کروڑ تھی۔
- 3 مندرجہ بالا اطلاع کی بنیاد پر فرسودگی کی قدر کا حساب لگائیں۔

یا

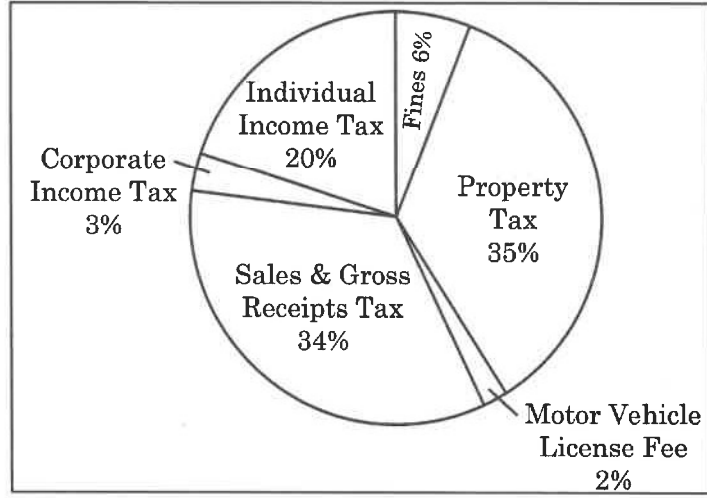
- (I) (b) ”خرچ طریقہ کار کے ذریعے مجموعی گھریلو پیداوار (GDP) کا تعین کرتے وقت، پوری توجہ ملک کے باشندوں کے ذریعے کیے گئے خرچ پر مرکوز ہوتی ہے۔“
- 3 کیا آپ دیے گئے بیان سے متفق ہیں؟ اپنے جواب کی تائید میں معتبر دلائل دیں۔
- 3 (II) مندرجہ ذیل اعداد و شمار کی مدد سے گھریلو آمدنی کا حساب لگائیں :

نمبر شمار	مدیں	رقم (₹ کروڑ میں)
(i)	کرایہ اور رائلٹی	1,300
(ii)	خالص براہ راست ٹیکس	200
(iii)	تنخواہ اور مزدوری (نقد و جنس میں)	1,700
(iv)	میونسپل ٹیکس	400
(v)	فرسودگی	400
(vi)	برقرار شدہ آمدنی	300
(vii)	ڈیویڈنڈ	400
(viii)	غیر ممالک سے حاصل خالص عامل آمدنی	(-) 120
(xi)	خود روزگاری افراد کی مخلوط آمدنی	1,400
(x)	اسٹاک میں تبدیلی	(-) 200



17. دی گئی تصویر کا غور سے مطالعہ کریں:

**Sources of State and Local
government tax revenues for a financial year**



دی گئی تصویر اور عام واقفیت کی بنیاد پر مندرجہ ذیل سوالات کے جواب دیں:

3 (a) تصویر میں دی گئی مدوں کو ٹیکس / غیر ٹیکس محاصلات میں زمرہ بند کریں۔

3 (b) ”حکومت نے غریبوں کی تعلیم اور صحت جیسی مفت خدمات فراہم کرنے پر زیادہ خرچ کرنا شروع کر دیا ہے۔“

مندرجہ بالا بیان کے سیاق میں، اس کی وضاحت کریں کہ ”آمدنی کی نابرابری“ کو کم کرنے کے لیے حکومت بجٹ سے متعلق پالیسیوں کا کس طرح استعمال کر سکتی ہے؟

حصہ - B

(ہندوستانی معیشت کی ترقی)

18. ہندوستان میں، برطانوی اقتدار کے تحت، ہندوستانی زرعی پیداوار میں _____ کی وجہ سے جمود کا احساس کیا گیا تھا۔

1 (صحیح متبادل کا انتخاب کریں)

(a) دست کاری میں کمی (b) ہندوستان سے دولت کی نکاسی

(c) اراضی سیٹلمنٹ (d) ریلوے کی شروعات

251/5/1

9



P.T.O.

19. (A) پہلے مرحلے میں شروع کیے گئے سبز انقلاب کے دوران پیداوار صرف _____ تک محدود تھی۔

1 (صحیح متبادل کا انتخاب کریں)

(a) اناج اور دالیں (b) گیہوں اور چاول

(c) کپاس اور پیٹ سن (d) جو اور باجرا

یا

1 (B) _____ کو ہندوستانی منصوبہ کے بانی کے طور پر جانا جاتا ہے۔

(a) جواہر لعل نہرو (b) پی۔سی۔ منوبس

(c) ڈاکٹر منموہن سنگھ (d) ڈاکٹر راجندر پرساد

20. (A) مندرجہ ذیل بیانات کا غور سے مطالعہ کریں:

بیان 1 : 1950 کے دہے میں چین میں عظیم پرولتاری تہذیبی انقلاب کا آغاز ہوا تھا۔

بیان 2 : چین کی ترقی میں خاص طور پر مصنوعات سازی سیکٹر کا ہاتھ ہے۔

دیے گئے بیان کی روشنی میں مندرجہ ذیل میں سے صحیح متبادل کا انتخاب کریں:

(a) بیان 1 صحیح ہے اور بیان 2 غلط ہے۔ (b) بیان 1 غلط ہے اور بیان 2 صحیح ہے۔

(c) بیان 1 اور بیان 2 دونوں صحیح ہیں۔ (d) بیان 1 اور بیان 2 دونوں غلط ہیں۔

یا

1 (B) مندرجہ ذیل میں سے غلط بیان کی پہچان کریں:

(a) چین کی معاشی شرح نمو پاکستان سے بہتر ہے۔

(b) پاکستان HDI درجہ بندی میں ہندوستان سے پیچھے ہے۔

(c) پاکستان نے 'صرف ایک بچے کی پالیسی' کے معیار کو اپنایا تھا۔

(d) 1991 میں ہندوستان نے جدید معاشی اصلاحات کو اختیار کیا تھا۔



21. _____ وہ اعلیٰ ترین ادارہ ہے، جو دیہی قرضہ جاتی ضروریات سے متعلق پالیسیوں کی منصوبہ بندی اور تعین قدر انجام دیتا ہے۔ 1

(a) کوآپریٹو کریڈٹ سوسائٹیز (b) علاقائی دیہی بینک

(c) خودامدادی گروپس (d) نابارڈ (NABARD)

22. مندرجہ ذیل بیانات کو پڑھیں۔ دعویٰ (A) اور سبب (R)۔ مندرجہ ذیل میں سے صحیح متبادل کا انتخاب کریں: 1

دعویٰ (A) : 1980 کے عشرے میں پاکستان کی معاشی ترقی کی شرح ہندوستان سے زیادہ تھی۔

سبب (R) : پاکستان نے نجی اور پبلک سیکٹر کی مساوی حصہ داری والی مخلوط معیشت کا راستہ اختیار کیا تھا۔

متبادلات:

(a) دعویٰ (A) اور سبب (R) دونوں صحیح ہیں اور سبب (R) دعویٰ (A) کی درست وضاحت ہے۔

(b) دعویٰ (A) اور سبب (R) دونوں صحیح ہیں اور سبب (R) دعویٰ (A) کی درست وضاحت نہیں ہے۔

(c) دعویٰ (A) صحیح ہے لیکن سبب (R) غلط ہے۔

(d) دعویٰ (A) غلط ہے لیکن سبب (R) صحیح ہے۔

23. پہچان کریں کہ مندرجہ ذیل میں سے کیا ہندوستان میں انسانی وسائل کے فروغ کے مسئلہ سے متعلق ہے؟ 1

(i) ذہین افراد کی قلت (برین ڈرین) (ii) پست تعلیمی معیار

(iii) بڑھتی ہوئی آبادی (iv) سماجی نقطہ نظر میں تبدیلی

متبادلات:

(a) (i) اور (ii) (b) (ii) اور (iii)

(c) (i)، (ii) اور (iii) (d) (i) اور (iv)



1

24. مندرجہ ذیل بیانات کو غور سے پڑھیں:

بیان 1: خصوصی معاشی خطہ (SEZ) پالیسی کی وجہ سے چین میں لازماً براہ راست غیر ملکی سرمایہ (FDI) کی لہر آئی تھی۔

بیان 2: چین کی تیز رفتار صنعتی ترقی 1981 میں اس کی معاشی اصلاحات کا نتیجہ تھی۔

دیے گئے بیانات کی روشنی میں مندرجہ ذیل میں سے صحیح متبادل کا انتخاب کریں:

(a) بیان 1 صحیح اور بیان 2 غلط ہے۔

(b) بیان 1 غلط اور بیان 2 صحیح ہے۔

(c) بیان 1 اور بیان 2 دونوں صحیح ہیں۔

(d) بیان 1 اور بیان 2 دونوں غلط ہیں۔

1

25. پہچان کریں کہ، ماحولیات کے سابق میں، مندرجہ ذیل میں سے کون سا عمل صحیح نہیں ہے؟

(a) وسائل کی فراہمی (b) فضلے کا انجذاب

(c) انحطاطِ آراضی (d) خدمات کی فراہمی

1

26. پہچان کریں کہ، 'ورکر-آبادی تناسب' کا حساب لگانے کے لیے درج ذیل میں سے کون سا فارمولہ درست ہے؟

$$(a) \frac{\text{کل لیبر فورس}}{\text{کل آبادی}} \times 100 \quad (b) \frac{\text{کل ورکرز}}{\text{کل آبادی}} \times 100$$

$$(c) \frac{\text{کل آبادی}}{\text{کل لیبر فورس}} \times 100 \quad (d) \frac{\text{کل آبادی}}{\text{کل ورکرز}} \times 100$$



1

27. مندرجہ ذیل بیانات کو غور سے پڑھیں:

بیان 1 : چین کا اولین پنج سالہ منصوبہ 1956 میں شروع ہوا تھا۔

بیان 2 : سوویت یونین (USSR) کی اتباع کرتے ہوئے ہندوستان اور چین دونوں نے سوشلسٹ معیشت کے ماڈل کو منتخب کیا تھا۔

دیے گئے بیانات کی روشنی میں مندرجہ ذیل میں سے صحیح متبادل کا انتخاب کیجیے:

(a) بیان 1 صحیح اور بیان 2 غلط ہے۔


(b) بیان 1 غلط اور بیان 2 صحیح ہے۔

(c) بیان 1 اور بیان 2 دونوں صحیح ہیں۔

(d) بیان 1 اور بیان 2 دونوں غلط ہیں۔

3

28. موجودہ ماحولیاتی مسائل کے سابق میں، دی گئی تصویر میں، کرہ ارض (Earth) کی صورت حال کی وضاحت کریں:



29. (a) ”ہندوستانی دیہی علاقوں میں ایک خاندان کے کئی افراد کام میں مشغول رہتے ہیں پھر بھی خاندان کی کل آمدنی عام طور

پر کم ہوتی ہے۔“ دیے گئے بیان میں مختص بے روزگاری کی پہچان کریں اور اس سے متعلق قول بحال

3

(Paradox) کی وضاحت کریں۔

یا

3

(b) غریبوں کی قرض کی ضروریات کی تکمیل میں مانکرو کریڈٹ سسٹم کے کردار کی وضاحت کیجیے۔



30. ہندوستان اور چین کی مجموعی گھریلو پیداوار میں سالانہ بڑھوتری سے متعلق مندرجہ ذیل معلومات کا موازنہ اور تجزیہ کریں: 4

مجموعی گھریلو پیداوار کی سالانہ بڑھوتری

ملک	1980 - 90	2015 - 17
ہندوستان	5.7	7.3
چین	10.3	6.8

(ماخذ : ایشین ڈیولپمنٹ بینک، فلپائنز، ورلڈ ڈیولپمنٹ انڈیکسٹر - 2018)

31. (a) (i) نجکاری کا مطلب بیان کیجیے۔ 1

(ii) معاشی اصلاح کے عمل نے زرعی سیکٹر کو بڑی طرح متاثر کیا ہے۔ تبصرہ کیجیے۔ 3

یا

(b) برطانوی اقتدار کے تحت بنیادی ڈھانچے کی ترقی کے پیچھے کئی دو اہم اسباب کو بیان کیجیے۔ 4

32. قابل قبول دلائل کے ساتھ بیان کیجیے کہ مندرجہ ذیل بیانات صحیح ہیں یا غلط :

(a) زیادہ اونچی پیداواریت اور پیداوار انسانی وسائل میں سرمایہ کاری کا نتیجہ ہے۔ 2

(b) بڑھتی ہوئی آبادی انسانی سرمائے کی تشکیل کا سبب نہیں ہے۔ 2

33. (a) (i) زرعی تنوع کاری کی توضیح کریں۔ 2

(ii) نامیاتی کاشت کے معنی بیان کیجیے۔ اس سے بحث کریں کہ یہ پائیدار ترقی کے فروغ میں کیسے مدد کرتا ہے؟ 4

یا

(b) (i) ہندوستان میں خواتین کی تعلیم کو فروغ دینے کی ضرورت پر تبادلہ خیال کریں۔ 3

(ii) مثال کے ساتھ ماحول کی انجذابی صلاحیت کی وضاحت کریں۔ 3



34. مندرجہ ذیل اقتباس کا غور سے مطالعہ کر کے عام واقفیت کی بنیاد پر دیے گئے سوالات کے جواب دیں:

ہندوستان نے عالمی تجارتی تنظیم سے ضابطوں میں نرمی لانے کا اصرار کیا ہے، تاکہ اپنے پبلک اسٹاک سے اُن ممالک کو غذائی اقباس پر آمد کی جاسکیں جو غذائی قلت کا سامنا کر رہے ہیں۔ ہندوستان غذائی عدم تحفظ کو کم کرنے میں مددگار ہو سکتا ہے لیکن WTO کی طرف سے اسے ان ضابطوں میں رعایت دینے میں کچھ ہچکچاہٹ ہے۔

ہندوستان کی وزیر مالیات نے کہا ہے کہ غذائی اشیاء، ایندھن اور فرٹیلایزرز عالمی عام اشیاء ہیں اور ترقی پذیر اور ابھرتی ہوئی معیشتوں کے لیے اُن کی دستیابی کو یقینی بنانا بہت اہم ہے۔ اُنہوں نے ہندوستان کے خاص تجربات مثلاً زرعی پیداوار میں مستحکم منافع، شہریوں پر مرکوز غذائی تحفظ پروگرام اور ایک ملک ایک راشن کارڈ اسکیم مثلاً ابھینو نظام تقسیم پر بھی بات کی۔

(Source : The Economic Times; July 16, 2022)

- 4 (a) عالمی تجارتی تنظیم کے کنسی دو اہم مقاصد کو بیان کیجیے۔
- 2 (b) ہندوستان کی طرف سے غذائی تحفظ کو مستحکم بنانے کے لیے کیے گئے کنسی دو اقدامات کے نام لکھیں۔



251/5/1 **247 A**

16

